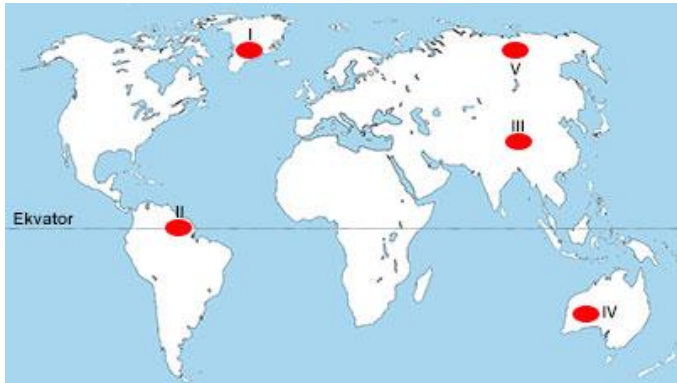




1) Güney Amerika kıtasında siyasi kriterlere göre oluşturulmuş Brezilya Devleti bulunmaktadır. Brezilya'nın bir kısım topraklarında hidrolojik kriterlere göre oluşmuş Amazon bölgesi, bu bölgenin bir kısmında ise bitki örtüsü kriterlerine göre oluşmuş Ekvatorial yağmur ormanları bölgesi yer alır.

Bu bilgilere dayanarak aşağıdaki yargılardan hangisine ulaşılabilir?

- A) Siyasi kriterlere göre oluşturulan bölgelerin sınırları zamanla değişebilir.
B) Doğal bölgelerin sınırları siyasi sınırlarla bire bir örtüşür.
C) Aynı alanda birbirinden farklı birçok bölge bulunabilir.
D) Doğal koşullara göre oluşturulan bölgelerin alanı siyasi unsurlara göre oluşturulan bölgelerin alanından geniştir.
E) Beşeri unsurlara göre oluşturulan bölgeler zamanla işlevlerini yitirebilir.



2) Haritada taralı olarak gösterilen bölgelerden hangisinde nüfus ve yerleşmenin seyrek olmasının nedeni yanlış verilmiştir?

- | Bölge | Nedeni |
|--------|---|
| A) I | İklimin soğuk ve tarıma elverişsiz olması |
| B) II | Sıcaklık ve nem değerlerinin çok yüksek olması |
| C) III | Yıllık yağış miktarının ve depremselliğin fazla olması |
| D) IV | Sıcak ve kurak iklim koşullarının görülmesi |
| E) V | Karasallığın şiddetli, ekonomik faaliyetlerin gelişmemiş olması |

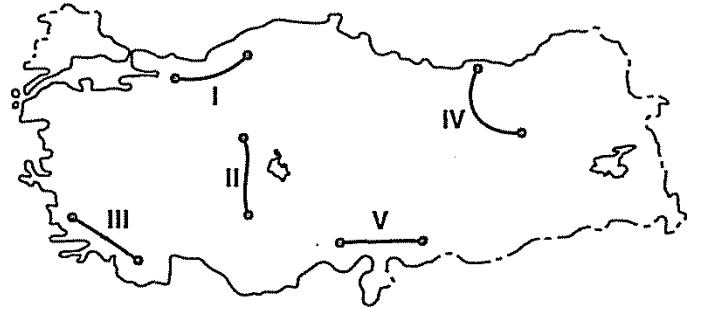
3) • Çok sıcak ve kuru

- Sıcak ve nemli
- Sıcak ve kurak
- Soğuk ve nemli

Aşağıdaki iklim tiplerinden hangisine ait hava karakteri yukarıda yoktur?

- A) Çöl iklimi B) Akdeniz iklimi
C) Ekvatorial iklim D) Tundra iklimi
E) Ilıman okyanus iklimi

4) Aşağıdaki haritada bazı merkezler arasındaki yol güzergâhları gösterilmiştir.



Bu güzergâhlardan hangisinde seyahat eden sürücülerin yol boyunca "Dikkat tünel girişi, farlarınızı yakınız." uyarısına rastlaması beklenmez?

- A) I B) II C) III D) IV E) V

5) Türkiye'de genellikle 2200 metreden yüksek dağlarda görülebilen bazı buzul şekillerine, Norveç'te deniz kıyısında rastlanabilmektedir.

Bu durum, Türkiye ile Norveç'in aşağıdakilerden hangisi bakımından farklı olmasıyla ilgilidir?

- A) Yükselti
B) Enlem
C) Denize göre konum
D) Rüzgâr yönü
E) Karasallık şiddeti



1) Türkiye'nin yıllık ortalama yağış dağılışı haritası ile yer şekillerini gösteren haritası karşılaştırıldığında, aşağıdaki yerlerden hangisinin, yağışın fazla olduğu yerlerle paralellik gösterdiği söylenebilir?

- A) Akarsu vadilerinin
- B) Yüksek kesimlerin
- C) Deniz kıyılarının
- D) Delta ovalarının
- E) Volkanik arazilerin

2) Akarsu yatağındaki su seviyesinde yıl içinde meydana gelen değişim fazla ise rejim düzensiz, az ise rejim düzenlidir.

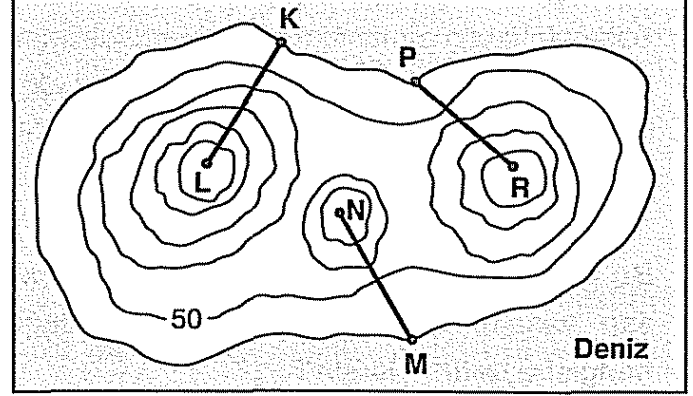
Buna göre, bir akarsuyun rejiminin düzenli olup olmadığı aşağıdakilerden hangisine bakılarak tespit edilemez?

- A) Akarsuyun yıllık akım grafiğine
- B) Akarsu yatağında belirli dönemlerde yapılan ölçümlere
- C) Akarsuyun ağız kısmında biriktirdiği malzemenin boyutuna
- D) Akarsu havzasındaki yağış rejimine
- E) Akarsu yatağının genişliğine

3) Ticarete yoğun olarak kullanılan deniz yolu güzergâhlarının belirlenmesinde aşağıdakilerden hangisi etkili değildir?

- A) Batı rüzgârları
- B) Golf - stream sıcak su akıntısı
- C) Kanal ve boğazlar
- D) Buz dağları
- E) Tarih değiştirme çizgisi

4) Aşağıda bir yörenin topoğrafya haritası gösterilmiştir.



Harita üzerinde yer alan K-L, M-N ve P-R doğrultuları arasındaki kuş uçuşu uzaklıkları birbirine eşittir.

Buna göre, arazi üzerinde eğimleri aynı olmak koşuluyla,

- K'dan L'ye "X"
- M'den N'ye "Y"
- P'den R'ye "Z"

doğrultusunda yapılacak olan karayollarının uzunlukları fazladan aza doğru aşağıdakilerden hangisinde sıralanmıştır?

- A) X, Y, Z
- B) Y, Z, X
- C) Z, X, Y
- D) X, Z, Y
- E) Y, X, Z

5) Yengeç Dönencesi ile 55° doğu boylamının kesiştiği nokta, Türkiye'ye göre hangi yönde yer alır?

- A) Kuzeydoğu
- B) Güney
- C) Güneybatı
- D) Güneydoğu
- E) Kuzeybatı



COĞRAFYA TYT DENEMELERİ

DENEME
3

cogrfyahocasi.com

1) Macellan ve arkadaşları, 1519'da İspanya'dan okyanusa açılarak ana hareket doğrultusu batı olmak üzere dünya turuna başladı ve 1522'de seyahatini tamamladı. Macellan ve arkadaşları seyir defterini dikkatlice tutmalarına rağmen, kendi tarihleriyle vardıkları yerin tarihinin uyuşmadığını fark ettiler.

Uluslararası bir saat sisteminin gerekliliğini ortaya çıkaran bu durum, aşağıdakilerden hangisiyle açıklanabilir?

- A) Yörüngenin şeklinin Dünya'nın hızını etkilemesi
- B) Batı rüzgârlarının etkisi
- C) Tarih değiştirme çizgisinin doğusu ve batısı arasında 1 günlük zaman farkının olması
- D) Seyir defterindeki küçük hataların bir günlük süre farkı oluşturması
- E) Ekvator'dan kutuplara doğru çizgisel hızın azalması

2) Aşağıdaki haritada Türkiye'de bazı dağlar gösterilmiştir.



Bu dağlarla ilgili olarak aşağıdaki bilgilerden hangisi yanlıştır?

- A) Batı Toroslar'da lapyta dolin, düden, mağara oluşumları yaygındır.
- B) Doğu Karadeniz Dağları'nda küçük çaplı buzul gölleri bulunur.
- C) Bozdağlar'da kış aylarında kayak yapılabilecek uygun yerler bulunmaktadır.
- D) Nur Dağları'nın güneyinde geniş bir çöküntü ovası vardır.
- E) Küre Dağları'nın kuzey yamaçları bol güneş isteyen kızılçam ormanları ile kaplıdır.

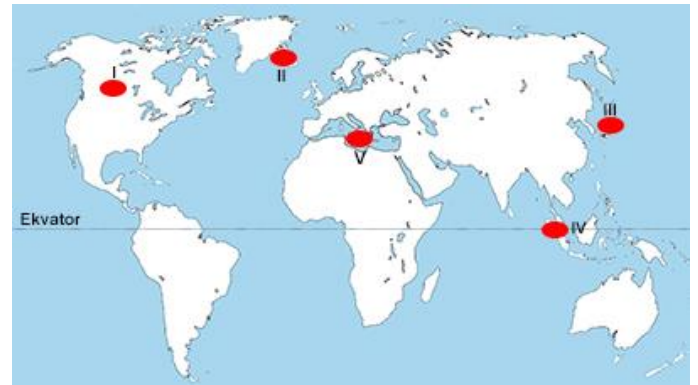
3) Aşağıda ekonomik fonksiyonlarına göre oluşturulan kent gruplarına verilen örneklerden hangisi **yanlıştır**?

Ekonomik fonksiyon	Kentler
A) Tarım	Tarsus - Söke - İnegöl
B) Ticaret	Mersin - İstanbul - İzmir
C) Sanayi	İzmit - İskenderun - Karabük
D) Turizm	Antalya - İstanbul - Bodrum
E) Ulaşım	Kırklareli - Artvin - Muğla

4) Aşağıdakilerden hangisi,

- epirojenik hareketler
 - buzulların erimesi
 - dalga ve akıntılarının şekillendirmesi
- olaylarının ortak özelliğidir?**
- A) Oluşumlarında mantodaki basınçların etkili olması
 - B) Kıyı çizgisini değiştirmeleri
 - C) Yüksek enlemlerde yaygın olarak görülmeleri
 - D) Büyük depremlere neden olmaları
 - E) Küresel ısınma sonucunda oluşmaları

5) Doğal afetlerin ortaya çıkardığı çevre sorunlarından biri de hava kirliliğidir.



Buna göre, haritada numaralarla gösterilen yerlerin hangisinde, volkanizmaya bağlı hava kirliliğinin daha az olması beklenir?

- A) I B) II C) III D) IV E) V



1) Aşağıdakilerden hangisi ekonomik yönden gelişmiş ülkelerin özellikleri arasında yer almaz?

- A) Dış alımda ham ürünlerin payının fazla olması
- B) Nitelikli iş gücü potansiyelinin az olması
- C) Kalkınma hızının nüfus artış hızından fazla olması
- D) Dış ticaret hacminin yüksek olması
- E) Kişi başına düşen kâğıt tüketiminin fazla olması

2) Süveyş Kanalı açılmasına rağmen Ümit Burnu Yolu'nun işlerliğinin devam etmesinin temel nedeni aşağıdakilerden hangisidir?

- A) Geçişlerin ücretsiz ve daha kolay olması
- B) Gemi trafiğinin az olması
- C) Doğal yollarla oluşması
- D) Çevresinin doğal kaynak bakımından zengin olması
- E) Hint ve Atlas okyanuslarını birbirine bağlaması

3) Meteorolojiden alınan bilgiye göre, yarın sıcakların 40 °C civarında olması bekleniyor. Yetkililer kalp hastası olanların, çocukların ve yaşlıların saat 11:00 -15:00 arasında zorunlu olmadıkça dışarı çıkmamaları gerektiğini, yüksek sıcaklıkların nemle birlikte hayatı olumsuz yönde etkileyeceğini bildirdi.

Bu uyarının aşağıdaki kentlerden hangisi için yapıldığı söylenemez?

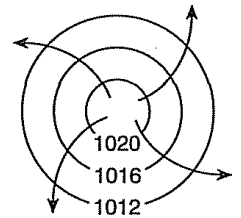
- A) Adana
- B) İzmir
- C) Antalya
- D) Hatay
- E) Sivas

4) Bölgede bulunan üç dağdan en yüksek 1672 metredir ve kuzeybatıda yer alır. Dağ üzerindeki kraterin bir bölümünde küçük bir göl bulunmaktadır. Bu dağın güneyinde yer alan ikinci dağın yükseltisi 812 metredir. Yörenin doğusunda yer alan üçüncü dağ ise 1100 metre yüksekliktedir. Bu üç dağdan kaynaklanan akarsular birleşerek batıdan doğuya akar ve kıyıda oluşturdukları geniş düzlükte kollara ayrılarak denize dökülür.

Parçaya göre, helikopterle yapılan bir uçuşun ardından topoğrafyası hakkında bilgi verilen yörede aşağıdaki yer şekillerinden hangisinin bulunduğu sonucuna varılamaz?

- A) Kapalı çukur
- B) Vadi
- C) Delta
- D) Menderes
- E) Peneplen

5) Yanda, Güney Yarım Küre'de yer alan yüksek basınç merkezine ait şekil verilmiştir.



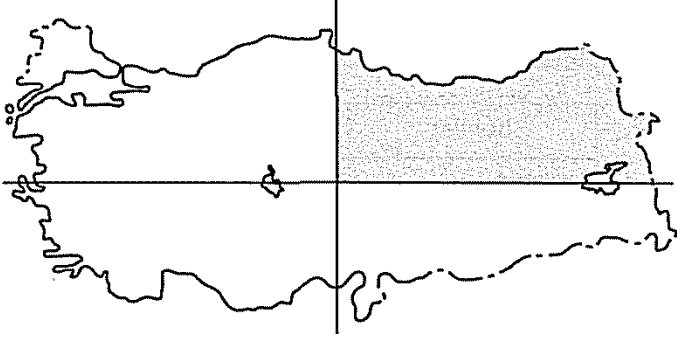
- I. Oklar, saat ibresi yönünde çizilirse, hâkim rüzgârlar soğutucu etki yapar.
- II. Basıncı gösteren sayıların değeri merkezden çevreye doğru büyüyecek şekilde yazılırsa rüzgârın yönü değişir.
- III. Rüzgârın yönünü gösteren oklar çevreden merkeze doğru çizilirse rüzgârın hızı azalır.
- IV. İzobar eğrilerinin sayısı artırılırsa basınç farkı artar.

Şekil üzerinde yapılacak yukarıdaki değişikliklerden hangilerinin oluşturacağı durumların doğru olduğu söylenebilir?

- A) I ve II
- B) I ve III
- C) II ve III
- D) II ve IV
- E) III ve IV



1) Aşağıdaki haritada Türkiye'nin bir bölümü taralı olarak gösterilmiştir.



Buna göre, aşağıdaki yerlerden hangisinin bu alanda yer aldığı söylenemez?

- A) Yaz ve kış sıcaklıklarının en düşük olduğu yörenin
- B) Türkiye'nin en yüksek dağıının
- C) Yaz saati uygulamasında yerel saati kullanılan boylamın
- D) Yıllık yağış miktarı en fazla olan ilin
- E) Kıta sahanlığının en geniş olduğu kıyıların

2) Aşağıdaki gelişmelerden hangisi beşeri ve ekonomik özelliklere göre belirlenen bölge sınırlarının değişmesine neden olmaz?

- A) Tarihi kalıntıların ortaya çıkarılması
- B) Ticari değeri yüksek bir madenin işletmeye açılması
- C) Tarımda sulama olanaklarının gelişmesi
- D) Bitki örtüsünün tahrip edilmesi
- E) Nüfus yoğunluğunun artması

- 3) • Psodomaki
• Garig
• Antropojen bozkır

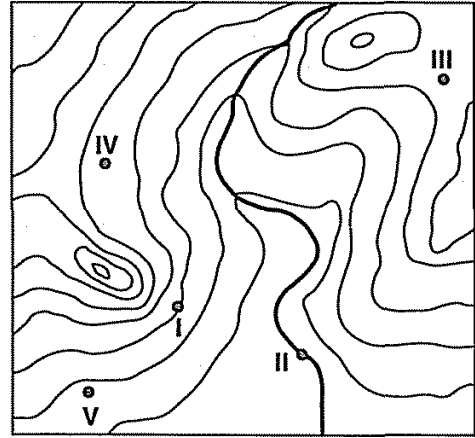
Aşağıdakilerden hangisi yukarıda verilen bitki formasyonlarının ortak özelliğidir?

- A) Aynı iklim bölgesinde yer almaları
- B) Doğal bitki örtüsünün tahrip edildiği alanlarda oluşmaları
- C) Volkanik arazilerde yaygın olmaları
- D) Yağış isteklerinin fazla olması
- E) Humuslu topraklarda yetişmeleri

4) Türkiye'de gece ve gündüz arasındaki sıcaklık değişimi fazla olan bir merkezînin aşağıdaki yerlerden hangisinde bulunduğu söylenebilir?

- A) Şanlıurfa Platosu'nda
- B) Bafra Deltası'nda
- C) Giresun kıyılarında
- D) Gökçeada'da
- E) Sinop Yarımadası'nda

5) Aşağıda bir yörenin eş yükselti eğrileriyle çizilmiş haritası gösterilmiştir.



Buna göre, yörede meydana gelen aşırı yağışların heyelan ve taşkın oluşturabileceği merkezler aşağıdakilerden hangisinde birlikte verilmiştir?

- A) I ve II B) II ve III C) II ve V
- D) III ve IV E) IV ve V



COĞRAFYA TYT DENEMELERİ

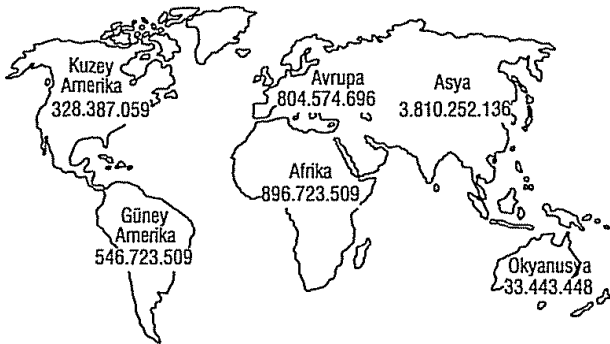
DENEME
6

cogrfyahocasi.com

1) Harita çiziminde kullanılan hava fotoğraflarının çekildiği yüksekliğin ölçek farkına etkisi göz önüne alındığında, Marmara Bölgesi'nin farklı yükseltilerden çekilmiş fotoğraflarına göre hazırlanan fiziki haritalarında aşağıdakilerden hangisinin aynı olması **beklenmez**?

- A) Marmara Denizi'nin gerçek alanının
- B) Çanakkale il merkezinin coğrafi koordinatlarının
- C) Uludağ'ın yükseltisinin
- D) İstanbul Boğazı'nın uzanış doğrultusunun
- E) İzmit ile Bursa arası haritadaki uzaklığın

2) Aşağıdaki haritada kıta nüfusları verilmiştir.



Kıta nüfuslarının farklı olmasının nedenleri ile ilgili aşağıdakilerden hangisi **yanlıştır**?

- A) Okyanusya kıtasında çöllerin geniş yer tutması
- B) Asya kıtasında Çin ve Hint gibi eski medeniyetlerin kurulduğu yerlerin bulunması
- C) Avrupa kıtasının dışarıdan çok fazla göç alması
- D) Afrika kıtasında doğum oranlarının yüksek olması
- E) Kuzey Amerika'da yerleşime elverişli alanların Afrika'dan az olması

3) Türkiye'de aşağıdaki yer şekillerinden hangisinin bulunduğu yerlerde tarımsal etkinlikler **daha yoğun**dur?

- A) Tabanlı vadi
- B) Kanyon
- C) Obruk
- D) Kırgıbayır
- E) Peri bacaları

4) Biri Kuzey diğeri Güney Yarım Küre'de yer alan iki merkezden doğuya doğru, aynı yükseltide ve aynı hızda hareket eden iki araç Dünya etrafındaki turlarını aynı sürede tamamlamıştır.

Bu araçların harekete başladıkları merkezler ile ilgili,

- I. Ekvator'a olan kuş uçuşu uzaklıkları aynıdır.
- II. Aynı boylam üzerinde yer alırlar.
- III. Başlangıç boylamına uzaklıkları eşittir.

yargılarından hangileri kesinlikle doğrudur?

- A) Yalnız I
- B) Yalnız III
- C) I ve II
- D) I ve III
- E) II ve III

5) Aşağıdaki tabloda dört kentin ocak ve temmuz ayı ortalama sıcaklıkları (°C) verilmiştir.

Kentler	Ocak (°C)	Temmuz (°C)
İstanbul	5	22
Yakutsk (Rusya)	-30	10
Sydney (Avustralya)	20	4
Kisumu (Kenya)	30	25

Bu kentlerle ilgili aşağıdakilerden hangisine ulaşılamaz?

- A) Kisumu kentinde güneş ışınlarının yıl içinde düşme açısındaki değişim daha azdır.
- B) Sydney Güney Yarım Küre'de yer almaktadır.
- C) Yakutsk kentinin ortalama yükseltisi diğer üç kentten daha fazladır.
- D) Yakutsk dışındaki kentlerde kış yağışları genelde yağmur şeklindedir.
- E) İstanbul ve Sydney'in kış sıcaklıkları birbirine yakındır.

Daha fazla Deneme Sınavı ve Konu Testi için sitemizi ziyaret ediniz. Başarılar.



1) "Araştırmalar Buzul Çağı'nda buralarda 1-2 km kalınlığında bir buzul örtüsünün bulunduğunu, sonradan buzulların erimesiyle karaların yükselmeye başladığını gösteriyor. Yükselme günümüzde de yavaş yavaş devam etmektedir."

Bu anlatıma aşağıdaki ülkelerden hangisi örnek verilebilir?

- A) İtalya B) Hollanda C) Norveç
D) Türkiye E) Belçika

2) Türkiye'de rüzgâr aşındırmasıyla oluşan yer şekillerine aşağıdaki yerlerden hangisinde daha **yaygın** olarak rastlanır?

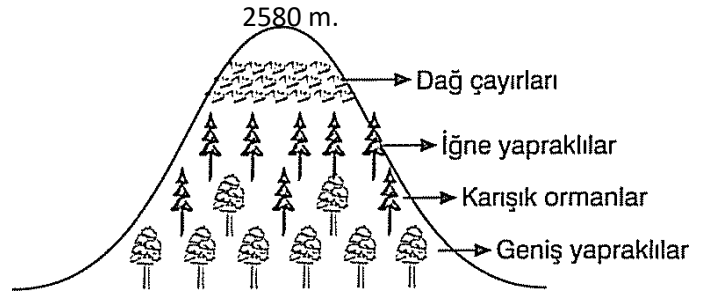
- A) Nevşehir - Göreme çevresi
B) Teke Yarımadası
C) Manyas Gölü çevresi
D) Trabzon - Rize arası
E) Hakkâri - Yüksekova yöresi

3) Sapanca Gölü'nden tarımda sulama faaliyetlerinde yararlanılırken Van Gölü'nden yararlanılamamaktadır.

Bu durum Van Gölü'nün aşağıdaki özelliklerinden hangisiyle ilgilidir?

- A) Yüz ölçümünün büyük olması
B) Gideğenin bulunmaması
C) Deniz seviyesinden yüksek olması
D) Derinliğinin fazla olması
E) Çevresindeki arazilerde tarımsal faaliyetlerin yoğun olmaması

4) Aşağıda bir dağ yamacındaki bitki örtüsünün değişimi gösterilmiştir.



Türkiye'de etkili olan iklim özellikleri göz önüne alındığında, bu dağın aşağıdaki illerden hangisinde yer aldığı söylenebilir?

- A) Kars B) Giresun C) Kayseri
D) Antalya E) Edirne

5) Bilinen ilk medeniyetlerin kurulduğu topraklardandır. Günümüzde ise yüzlerce yan ürünle birlikte sanayileşme sürecinin vazgeçilmez ham maddesi olan petrolü topraklarında barındıran nadir bölgelerdendir. Önemi daima korumaktadır. Bu nedenle büyük devletlerin ilgisini her zaman çekmiştir. Üç büyük dinin merkezi olması, bölgeye ayrı bir önem kazandırır.

Yukarıda özellikleri verilen bölge, aşağıdakilerden hangisidir?

- A) İskandinavya
B) Orta Doğu
C) Orta Asya
D) Güneydoğu Asya
E) Güney Amerika



1) • Soğuk hava kütlelerinin etkili olmaya başladığı sonbahar ve kış aylarında oluşumu artar.

- Yağışın oluşmasında farklı karakterdeki hava kütlelerinin yükselerek soğuması etkili olmaktadır,
- Dünya'da yayılış alanı geniş olan bu yağışlar, ülkemizdeki kış yağışlarının % 90'ını oluşturmaktadır.

Yukarıda özellikleri verilen yağış tipi aşağıdakilerden hangisidir?

- A) Yükselim (konveksiyonel) yağışları
- B) Yamaç (orografik) yağışları
- C) Tropikal yağışlar
- D) Cephesel (frontal) yağışlar
- E) Muson yağışları

2) **Aşağıdakilerden hangisi fiziki özelliklere göre oluşturulmuş bölgeler arasında yer almaz?**

- A) Dağlık alanlar
- B) Yüksek platolar
- C) Deprem alanları
- D) Serbest ticaret bölgeleri
- E) Kurak ve yarı kurak bölgeler

3) **Uluslararası ulaşım sistemlerinin gelişmesinin ve ulaşım çeşitliliğinin artmasının aşağıdakilerden hangisi üzerinde etkisi yoktur?**

- A) Ticaretin canlanması
- B) Ülkeler arası etkileşimin artması
- C) Ürünlerin kısa zamanda ve daha ucuza taşınması
- D) Doğal kaynak oluşumunun artması
- E) Turizm sektörünün büyümesi

4) Aşağıdaki tabloda aynı boylam üzerinde yer alan beş merkezin 21 Haziran ve 21 Aralık tarihlerindeki gündüz süreleri (saat) verilmiştir.

Merkezler	21 Haziran	21 Aralık
K	11	13
L	15	9
M	17	7
N	20	4
P	9	15

Bu merkezlerle ilgili aşağıdakilerden hangisi söylenemez?

- A) Ekvator'a en yakın olan kent K'dir.
- B) L kenti Kuzey Yarım Küre'de Orta Kuşak'ta yer almaktadır.
- C) 21 Aralık tarihinde güneşin en erken doğup en geç battığı kent P'dir.
- D) L kenti ile P kentinin yarım küreleri farklı, enlem dereceleri aynıdır.
- E) 21 Haziran tarihinde güneş ışınları N kentine, M kentinden daha büyük açıyla düşer.

5) 2010 yılı Dünya Kupası'nın düzenlendiği Güney Afrika Cumhuriyeti'ndeki şehirlerden olan Johannesburg'da hava sıcaklığı İstanbul'a göre 15 °C düşük ölçülmüştür.

İstanbul ile Johannesburg arasındaki sıcaklık farkının temel nedeni aşağıdakilerden hangisidir?

- A) Johannesburg'un ortalama yükseltisinin fazla olması
- B) İstanbul'un Ekvator'a daha yakın olması
- C) Güney Afrika Cumhuriyeti'nin batı kıyılarında soğuk su akıntısının etkili olması
- D) İki kentin farklı yarım kürelerde yer alması
- E) İstanbul'da nem oranının daha yüksek olması



1) Türkiye’de batıdan doğuya doğru gidildikçe yükseltinin artması,

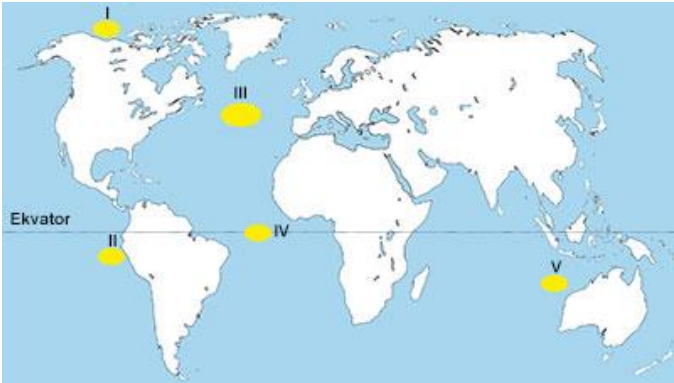
- I. Kış sıcaklığının Konya’da Ardahan’dan yüksek olması
II. Aydın’ın kış sıcaklığının Edirne’den yüksek olması
III. Bartın’da yaz sıcaklığının Mersin’den düşük olması

durumlarından hangileri üzerinde etkili olmamıştır?

- A) Yalnız I B) Yalnız III C) I ve II
D) I ve III E) II ve III

2) • Soğuk deniz suları oksijen, sıcak deniz suları ise plankton bakımından zengindir. Bu nedenle sıcak ve soğuk su akıntılarının etkili olduğu yerlerde balıkçılık gelişmiştir.

- Sıcak ve soğuk su akıntılarının karşılaşma alanlarında deniz yolu ulaşımı için tehlikeli sisler oluşur.



Buna göre, yukarıdaki durumların haritada numaralanmış alanlardan hangisinde yaşandığı söylenebilir?

- A) I B) II C) III D) IV E) V

3) İstanbul’da aşağıdaki tarihlerden hangisinde gündüz ve gece süreleri arasındaki fark **daha fazladır?**

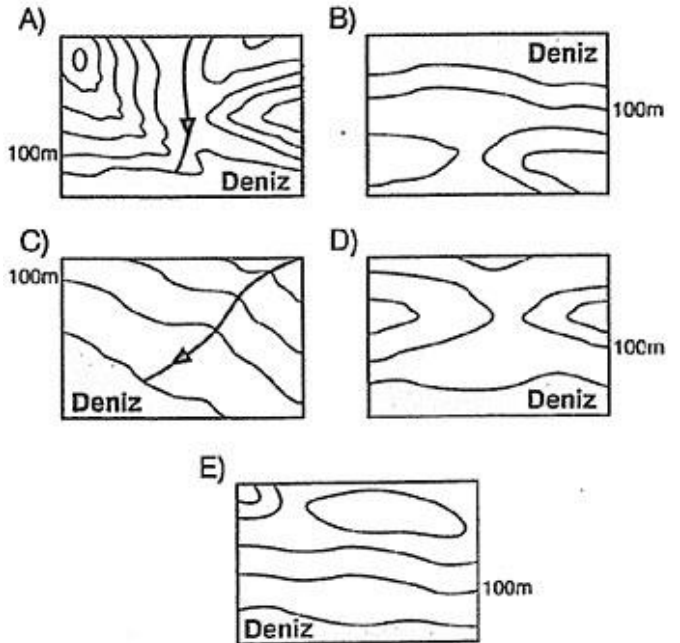
- A) 23 Eylül B) 15 Haziran C) 25 Mart
D) 2 Nisan E) 5 Ekim

4) İçinde bulunduğumuz yüzyılda bilgi ve iletişim alanında büyük gelişmeler yaşanmıştır. Hızlı bir şekilde devam eden bu gelişmeler, sadece bilimsel çalışmaların yapıldığı teknoloji kentlerinin (teknokent) kurulması düşüncesini ortaya çıkarmıştır. Günümüzde dünyada sadece bu amaçla kurulmuş bir kent yoksa da, teknolojinin çok yoğun olarak kullanıldığı ve geliştirildiği kentler bulunmaktadır.

Parçada sözü edilen kentlere aşağıdakilerden hangisi örnek olarak gösterilebilir?

- A) Hong Kong B) Marsilya C) Dikson
D) Roma E) La Paz

5) Yüzey şekillerinin engebeli olduğu yerlerde gerçek alan ile izdüşüm alan arasındaki fark fazladır. **Buna göre, aşağıda topoğrafya haritaları verilen yörelerin hangisinde, gerçek alan ile izdüşüm alan arasındaki farkın daha fazla olduğu söylenebilir? (Yörelerin izdüşüm alanları birbirine eşittir.)**





- 1) • Bölge sınırları zamanla değişebilir.
• Bir bölgede meydana gelen değişim, o bölgeyi başka bir bölge haline getirebilir.

Aşağıdakilerden hangisi yukarıda verilen yargılara örnek gösterilemez?

- A) Ormanlık alanların, tahrip edilmesi sonucu bozkıra dönüşmesi
B) Bir siyasi örgüte yeni üyelerin katılması
C) Eriyen buzulların yerini karaların alması
D) Gelgit etkisiyle kıyı çizgisinin gün içinde değişmesi
E) Bir yöredeki maden yataklarının işletilmesiyle yörenin çevreden yoğun göç alması

- 2) Nemli hava kütleleri dağ yamacında yükselirken her 100 metrede 0,5 °C soğur ve yağış bırakır.

Yağışla neminin çoğunu kaybetmiş olan kuru hava kütleleri, dağın diğer yamacında alçalırken her 100 metrede 1 °C ısınır ve fön rüzgârını oluşturur.

Yer şekli özellikleri göz önüne alındığında, fön rüzgârının aşağıdaki illerden hangisinde daha çok görülmesi beklenir?

- A) Konya B) Şanlıurfa C) İzmir
D) Edirne E) Erzurum

- 3) Boyları uzun olan ve birçok kol ile beslenen akarsular genellikle karma rejimlidir.

Buna göre, aşağıdakilerden hangisi bir akarsuyun karma rejimli olduğunun göstergelerinden biridir?

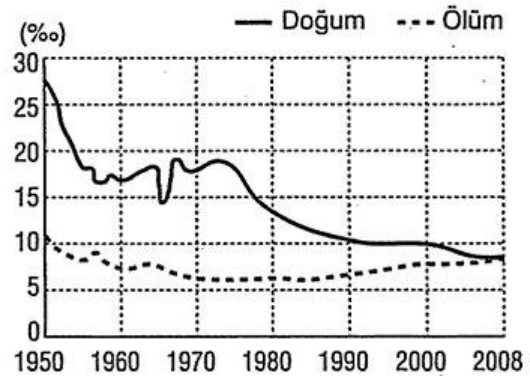
- A) Eğimli bir yatak içinde akması
B) Akış hızının az olması
C) Debinin yılda birkaç kez yükselmesi
D) Kimyasal aşındırmanın fazla olması
E) Yatağında ulaşım yapılabilmesi

- 4) Günümüzdeki göçlerin önemli bir bölümünü, az gelişmiş ülkelere sanayileşmiş ülkelere doğru yapılan işçi göçleri oluşturur.

Az gelişmiş ülkelerde aşağıdaki uygulamalardan hangisinin yapılması, bu göçlerin azalmasında daha az etkili olur?

- A) Yeni maden yataklarının işletmeye açılması
B) Tarımsal alanlarda sulama ve gübreleme olanaklarının artırılması
C) Nüfus planlamalarıyla doğum oranının düşürülmesi
D) Yabancı sermayenin ülkeye girişinin kolaylaştırılması
E) Halkın nüfus yoğunluğu az olan yörelere yerleştirilmesi

- 5) Aşağıda, bir ülkenin 1950 - 2008 yılları arasındaki doğum ve ölüm oranları (%) gösterilmiştir.



Grafikten yararlanarak,

- I. 1950 yılında doğal nüfus artışı en fazladır.
II. Ölüm oranındaki değişim doğum oranına göre daha azdır.
III. 1970 yılından itibaren toplam nüfus miktarı azalmıştır.

bilgilerinden hangilerine ulaşılabilir?

- A) Yalnız I B) Yalnız III C) I ve II
D) I ve III E) II ve III



COĞRAFYA TYT DENEMELERİ

cogrfyahocasi.com

COĞRAFYA 10'LU TYT DENEMELERİ CEVAP ANAHTARI

DENEME 1	1.C	2.C	3.E	4.B	5.B												
DENEME 2	1.B	2.E	3.E	4.D	5.D												
DENEME 3	1.C	2.E	3.E	4.B	5.E												
DENEME 4	1.B	2.E	3.B	4.E	5.D												
DENEME 5	1.E	2.D	3.B	4.A	5.A												
DENEME 6	1.E	2.E	3.A	4.A	5.C												
DENEME 7	1.C	2.A	3.B	4.B	5.B												
DENEME 8	1.D	2.D	3.D	4.E	5.D												
DENEME 9	1.E	2.C	3.B	4.A	5.A												
DENEME 10	1.D	2.A	3.C	4.E	5.C												

Daha fazla Deneme Sınavı ve Konu Testi için sitemizi ziyaret ediniz. Başarılar.