

1) Yukarıda numaralandırılmış alanların hangisinde bitki topluluğu yapraklarını dökmeyen geniş yapraklı ormanlardır?

- A) I B) II C) III D) IV E) V

2) Ekvatorial iklim, aşağıda verilen bölgelerden hangisinde etkili değildir?

- A) Amazon Havzası B) Kongo Havzası
C) Endonezya D) Hindistan
E) Malezya

3) Aşağıda dört farklı iklim tipiyle ilgili birer özellik verilmiştir.

- Bitki örtüsü yüksek boylu ot topluluklarından oluşan savandır. Tipik ağacı şemsiye şeklindeki akasyadır.
- Günlük ve yıllık sıcaklık farkının en az olduğu iklimdir.
- Orta kuşak karalarının batı kıyılarında etkilidir.
- Doğu Avrupa, Sibiryaya ve Kanada'da etkili olup sıcaklık farkı çok fazladır.

Aşağıdakilerden hangisi, bu iklim tiplerinden biri değildir?

- A) Subtropikal B) Okyanusal
C) Karasal D) Muson
E) Ekvatorial

- Sıcaklık ortalaması düşüktür.
- Yaz yağışları görülür.
- Günlük ve yıllık sıcaklık farkı fazladır.

4) Yukarıda verilen özellikler aşağıdaki iklim tiplerinden hangisinde görülür?

- A) Muson iklimi B) Ekvatorial iklim
C) Çöl iklimi D) Akdeniz iklimi
E) Sert karasal iklim

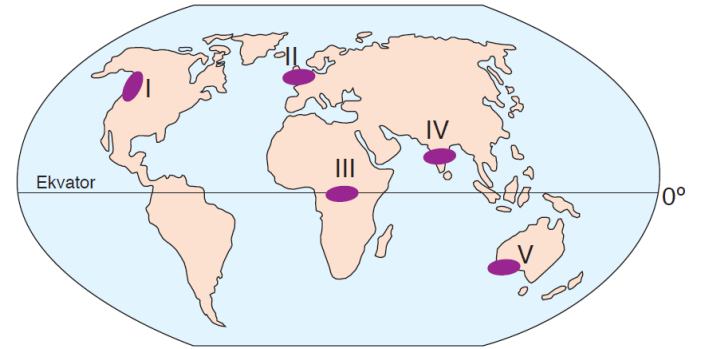
5) Aşağıdaki kıtalardan hangisinde çöl iklimi etkili değildir?

- A) Güney Amerika B) Afrika
C) Asya D) Avrupa
E) Kuzey Amerika

- Bitki örtüsü yönünden çok fakir olan
- Alçalıcı hava hareketinin etkisinde kalan
- Günlük sıcaklık farkı çok yüksek olan

6) İklim tipi aşağıdakilerden hangisidir?

- A) Akdeniz B) Muson
C) Step D) Çöl
E) Tundra



7) Yukarıda numaralandırılmış alanların hangisinde Akdeniz ikliminin özellikleri görülür?

- A) I B) II C) III D) IV E) V

I. Bizim yaşadığımız yerde hava yılın büyük bölümünde kapalı ve yağışlıdır. Bu durumun oluşmasına etki eden en büyük faktör sıcak okyanus akıntısı ve Batı rüzgârlarıdır.

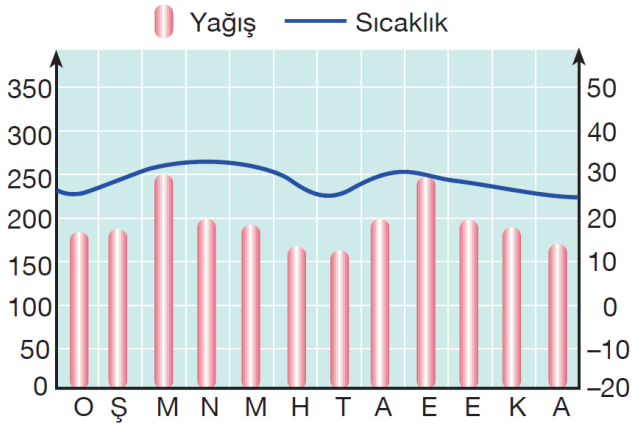
II. Bizim buralarda pirinç tarımı yoğun olarak yapılır. Özellikle yaz aylarında yağışın artması pirinçten aldığımız verimi artırmaktadır.

III. Bizim yaşadığımız yerde sıcaklık, yılın büyük bölümünde 0°C'nin altındadır. Topraklarımız verimsiz olduğu için buradaki halk daha çok balıkçılık yaparak geçimini sağlamaktadır

8) Yukarıda verilen iklim tipleri aşağıdakilerin hangisinde doğru verilmiştir?

- | I | II | III |
|--------------|------------|--------------|
| A) Akdeniz | Karasal | Okyanusal |
| B) Okyanusal | Muson | Tundra |
| C) Muson | Ekvatorial | Sert karasal |
| D) Okyanusal | Savan | Kutup |
| E) Karasal | Okyanusal | Tundra |





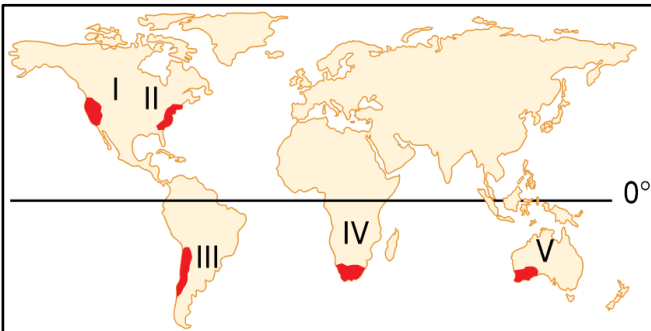
9) Buna göre, yukarıda verilen yağış grafiğinden yararlanarak aşağıdaki yargılardan hangisi doğrudur?

- A) Akarsu rejimi düzenlidir.
B) Toplu yerleşmeler görülür.
C) Fiziksel çözülme fazladır.
D) Humus bakımından zengin topraklar bulunur.
E) Tarım toprakları nadasa bırakılır.

- En sıcak ay ortalaması 10°C'yi geçmeyen
- Kutup daireleri çevresindeki karaların iç kesimlerinde etkili olan
- Bitki örtüsü çoğunlukla soğuğa dayanıklı yosun, ot ve cılız çalılardan oluşan

10) iklim tipinin aşağıdaki bölgelerden hangisinde etkili olduğu söylenemez?

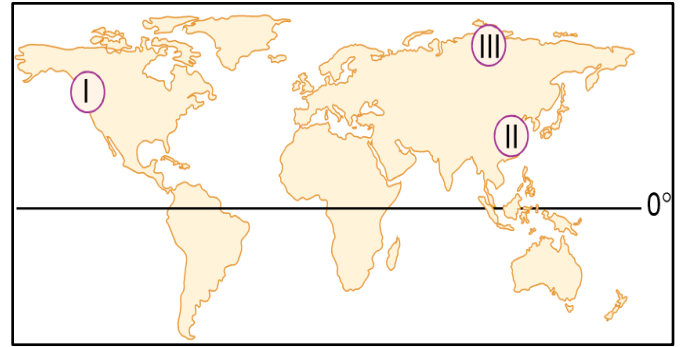
- A) İskandinavya Yarımadası'nın kuzey kıyıları
B) Avustralya'nın kuzey kıyıları
C) Sibiry'a'nın kuzey kıyıları
D) Kanada'nın kuzey kıyıları
E) Grönland Adası'nın kıyıları



11) Yukarıdaki dünya haritasında gösterilen bölgelerden hangisinde Akdeniz ikliminin özellikleri görülmez?

- A) I B) II C) III D) IV E) V

- Yıl boyunca yağışlıdır.
 - Cephe yağışları etkilidir.
 - Batı Avrupa ve Kanada'nın batısında yaşanır.
 - Kışları serin ve yağışlıdır.
- 12) Yukarıda önemli özellikleri verilen iklim tipi aşağıdakilerden hangisidir?
- A) Okyanusal iklim
B) Tundra iklimi
C) Ekvatorial iklim
D) Muson iklimi
E) Akdeniz iklimi



13) Haritadaki numaralanmış merkezlerde görülen iklim tipleri aşağıdaki seçeneklerin hangisinde doğru verilmiştir?

- | I | II | III |
|---------------|-----------|-----------|
| A) Okyanusal | Muson | Tundra |
| B) Muson | Tundra | Okyanusal |
| C) Ekvatorial | Tundra | Okyanusal |
| D) Akdeniz | Okyanusal | Tundra |
| E) Okyanusal | Tundra | Step |

İklim	Yağış Türü	Bitki Örtüsü	Toprak Türü
Ekvatorial	Yükselim	Orman	1
Akdeniz	2	Maki	Terra rossa
Step	Yükselim	3	Kahverengi step

14) Yukarıda tabloda rakamlarla ifade edilen alanlara aşağıdaki seçeneklerden hangisi yazılmalıdır?

- | 1 | 2 | 3 |
|------------|----------|--------|
| A) Podzol | cephe | Bozkır |
| B) Podzol | Yükselim | Orman |
| C) Podzol | Yamaç | Maki |
| D) Laterit | Yükselim | Maki |
| E) Laterit | Cephe | Bozkır |

