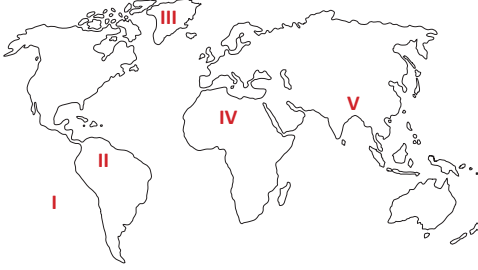


1- Yukarıdaki dünya haritasında numaralandırılmış noktalardan hangisi yeryüzündeki ilk yerleşme alanlarından biri değildir?

- A) I B) II C) III D) IV E) V

Aşağıdaki dünya haritasında yerleşmeyi sınırlandıran bazı alanlar numaralandırılarak gösterilmiştir.



2- Haritadaki alanlara bakıldığında yerleşmeyi sınırlandıran hangi faktör yanlış eşleştirilmiştir?

- A) I – Okyanuslar
B) II – Sık ormanlar
C) III – Buzullar
D) IV – Bataklıklar
E) V – Yükselti ve Engebe

Yeryüzünde sanayi ve ticari faaliyetlerin yoğun olduğu bölgelerde nüfus fazladır.



3- Buna göre haritadaki şehirlerden hangisi yukarıdaki açıklamaya uygun bir yer değildir?

- A) Meksika B) Liverpool C) Moskova
D) Dubai E) Tokyo

Yerleşmelerin sona erdiği en yüksek seviyeye yerleşme üst sınırı adı verilir. Yerleşme üst sınırı genel olarak ekvatorдан kutuplara doğru azalır.

4- Buna göre aşağıdaki ülkelerden hangisinde yerleşme üst sınırının daha yüksek olması beklenir?

- A) Belçika B) Rusya C) Türkiye
D) Kanada E) Peru

- I. Bakı
II. Çöller
III. Dağlar
IV. Ovalar
V. Bataklıklar

5- Yukarıdakilerden hangileri yerleşmeyi sınırlandıran faktörlerden değildir?

- A) I ve II B) I ve III C) I ve IV
D) II ve IV E) IV ve V

Deniz ve okyanuslar nüfus ve yerleşmeyi sınırlandıran en önemli faktörler arasında yer almaktadır. Ancak günümüzde deniznin doldurulmasıyla oluşturulan yapay yerleşim alanları kurulmaktadır.



6- Bu duruma aşağıdaki ülkelerden hangisi örnek olarak verilebilir?

- A) Nijer
B) Belarus
C) Japonya
D) Kırgızistan
E) Macaristan

Dünya üzerindeki yerleşilmiş ya da yerleşilebilir alanlara I, yerleşilmemiş alanlara da II denir.

7- Yukarıdaki cümlede boşluklara hangi kelimeler yazılmalıdır?

- | | I | II |
|----|----------|------------|
| A) | Yerleşme | Hinterland |
| B) | Kırsal | Şehirsiz |
| C) | Ökümen | Anökümen |
| D) | Hamada | Anhamada |
| E) | Siklon | Antisiklon |

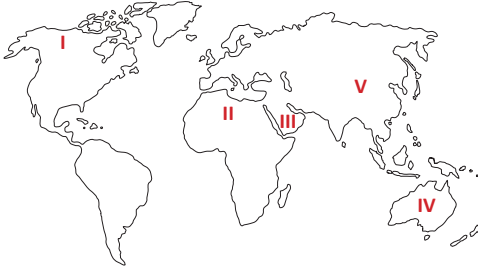


Yeryüzündeki ilk yerleşmelerde tatlı su kaynakları önemli rol oynamıştır. İlk insanlar genellikle tatlı su kaynaklarının bulunduğu akarsu boylarına yerleşmiştir.

8- Aşağıdaki akarsulardan hangisi ilk yerleşmelerin yapıldığı yerlerden biri değildir?

- A) Nil Nehri
- B) Ren Nehri
- C) Ganj Nehri
- D) İndus Nehri
- E) Fırat Nehri

Sıcaklığın yüksek ve yağış miktarının çok az olduğu kurak bölgelerde yerleşmeler azdır.



9- Haritada numaralandırılan noktalardan hangisi kuraktan dolayı seyrek nüfuslu alanlardan değildir?

- A) I
- B) II
- C) III
- D) IV
- E) V

Aşağıda yerleşmeyi sınırlandıran bazı faktörler verilmiştir.

- Soğuk kutup bölgeleri
- Sıcak ve kurak bölgeler
- Gür ormanlık alanlar
- Dağlık ve engebeli alanlar

10- Aşağıdakilerden hangisi verilen bölgelere örnek oluşturmaz?

- A) Himalayalar
- B) Amazon Havzası
- C) Batı Avrupa
- D) Grönland
- E) Büyük Sahra

Tropikal kuşakta insanlar daha çok yüksek kesimleri yerleşme için tercih ederken, orta kuşakta insanlar genellikle alçak kesimlerde yerleşmektedir.

11- Buna göre tropikal kuşakta insanların yükseklerle yerleşmesinin temel sebebi nedir?

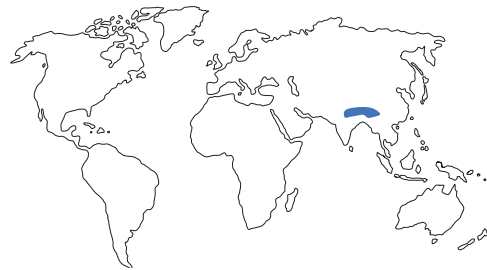
- A) Yüksek kesimlerin tarım için daha elverişli olması
- B) Yüksek kesimlerde yer altı kaynaklarının fazla olması
- C) Alçak kesimlerin çok sıcak ve nemli olması
- D) Alçak kesimlerde ormanların az olması
- E) Düzlük alanların yükseklerde fazla olması

Bolivya'nın El Alto şehri, deniz seviyesinden yaklaşık 4.000 metre yüksekte kurulmuş bir yerleşmedir. Yükseltisi çok fazla olmasına rağmen bu şehirde bir milyona yakın insan yaşamaktadır. Ülkemizde bu yükseltide kalıcı yerleşmelere rastlamak mümkün değildir.

12- El Alto şehrinde yaklaşık bir milyon kişinin yerleşebilmesinin temel nedeni aşağıdakilerden hangisidir?

- A) Güneş ışınlarının yıl boyunca eğik açılarla gelmesi
- B) Eski çağlardan kalma turizm mekanlarının fazla olması
- C) Stratejik açıdan ülkenin savunma ihtiyacı için önemli olması
- D) Tropikal kuşakta yer aldığı için sıcaklığın çok fazla düşmemesi
- E) Tarım ve hayvancılık açısından çok verimli alanların bulunması

Aşağıdaki dünya haritasında belirli bir alan koyu renkle gösterilmiştir.



13- Haritada gösterilen alanda nüfus ve yerleşmenin az olmasının temel sebebi aşağıdakilerden hangisidir?

- A) Sanayi faaliyetlerin az olması
- B) Ormanların çok yoğun olması
- C) Yıkıcı depremlerin görülmesi
- D) Şiddetli kuraklığın yaşanması
- E) Yükselti ve engebelerin fazla olması