



Coğrafya öğretmeni Hasan Bey, yaz tatilini değerlendirmek amacıyla arkadaşlarıyla Karadeniz turuna çıkmıştır. Hasan Bey ve arkadaşları Karadeniz Bölgesi'ni gezerken A yerleşmesine geldiklerinde bu bölgedeki insanların tarım ve hayvancılıkla uğraştıklarını görmüşlerdir. Muhtar ile konuştuklarında buranın nüfusunun yaklaşık 1000 kişi olduğunu öğrenmişlerdir. Muhtar bölgeyi gezdirirken evler birbirinden çok uzak olduğu için Hasan Bey ve arkadaşları çok yorulmuştur.

1- Hasan Bey ve arkadaşlarının gezdiği A yerleşmesi için aşağıdakilerden hangisi söylenemez?

- A) Gezdikleri bölge kırsal yerleşme türüne örnektir.
- B) Ekonomik işlevlerine göre tarım ve hayvancılıkla uğraşan bir yerleşmedir.
- C) Yerleşme planına göre dairesel bir yerleşme görülmektedir.
- D) Evlerin birbirinden uzak olması dokusuna göre dağınık yerleşme olduğunu gösterir.
- E) Nüfusunun 1000 kişi olması ve muhtarın bulunması burasının köy yerleşmesi olduğunu gösterir.

- I. Sıcaklığın az olması
- II. Su kaynaklarının az olması
- III. Arazinin düz olması

2- Yukarıdakilerden hangileri toplu yerleşmelerin özelliklerinden biri değildir?

- A) Yalnız I
- B) Yalnız II
- C) Yalnız III
- D) I ve II
- E) I ve III

Şehirler nüfuslarına göre küçük, orta, büyük, metropoliten ve mega şehir olarak ayrılır. Aşağıdaki tabloda bazı şehirlerin 2019 yılı nüfusları verilmiştir.

Şehir	Nüfusu (2019)
Göksun	52.255
Niğde	362.861
Adana	2.237.940
İstanbul	15.519.267

3- Tabloda aşağıdaki şehir sınıflamalarından hangisine örnek yoktur?

- A) Küçük şehir
- B) Orta büyüklükte şehir
- C) Büyük şehir
- D) Metropoliten şehir
- E) Mega şehir

Nüfus miktarı bakımından köylerden büyük, şehirlerden ise küçük yerleşmelerdir. Bu yerleşmelerin köylerden farkı belediye teşkilatının bulunmasıdır. Ülkemizde nüfusu 10.000 ve altında olan yerler genellikle bu tür yerleşmelerdir.

4- Yukarıda özellikleri anlatılan yerleşme türü aşağıdakilerden hangisidir?

- A) Köy
- B) Kaza
- C) Bucak
- D) Kasaba
- E) Vilayet

Köyaltı yerleşmeleri, köyden daha az nüfusa sahip olan ve köyden ayrılan kişilerin kurduğu yerleşmelerdir.

5- Aşağıdaki yerleşmelerden hangisi köy altı yerleşmesi değildir?

- A) Yayla
- B) Belde
- C) Divan
- D) Çiftlik
- E) Mezra

- I. Nüfus miktarı
- II. İdari statü
- III. Fiziki özellikler
- IV. Göreceli konum

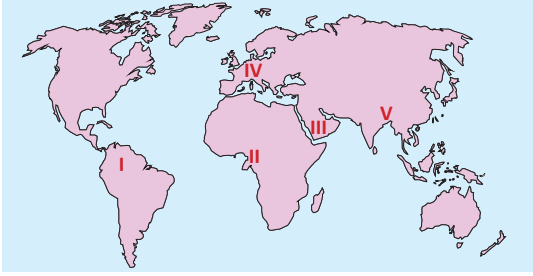
6- Yukarıdakilerden hangileri bir yerleşim yerinin kır ya da şehir yerleşmesi olarak ayrılmasında dikkate alınan unsurlardandır?

- A) I ve II
- B) I ve III
- C) II ve III
- D) I ve IV
- E) III ve IV





Sıcaklığın yüksek ve yağış miktarının az olduğu bölgelerde mesken yapımında toprak kullanılır. Toprak evlerin en yaygın olanı kerpiç evlerdir.



7- Haritada numaralandırılmış bölgelerden hangisinde toprak meskenlerin yaygın olması beklenir?  
A) I B) II C) III D) IV E) V

Aşağıdaki görselde dokusuna göre dağınık yerleşme özelliğine sahip bir köy gösterilmiştir.



8- Bu köy yerleşmesinde;

- I. Ulaşım gelişmiştir.
- II. Su kaynakları azdır.
- III. Arazide engebe fazladır.
- IV. Tarım arazileri parçalıdır.

verilen özelliklerden hangileri gözlenir?

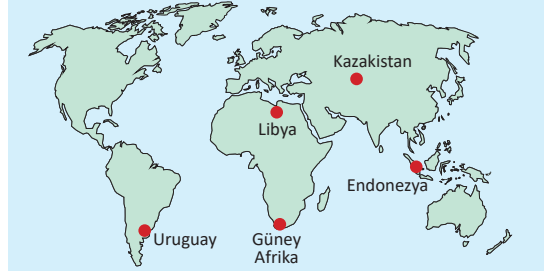
- A) I ve II B) I ve III C) I ve IV  
D) II ve IV E) III ve IV

Eskimolar Kuzey Kutup Bölgesi'nde, yılın büyük bir kısmını karla kaplı, buzla örtülü, verimsiz bir arazide geçiren avcı toplayıcı bir toplumdur. İnuit de denilen Eskimolar Kuzey Kanada, Alaska, Grönland ve Sibirya'yı içeren geniş bir coğrafyada hayatlarını sürdürmüştür. Bu bölgenin doğal koşullarına uygun olarak kar bloklarının yığılması ile oluşturulan kubbe şeklinde basit barınaklar yapmışlardır.

9- Eskimoların kardan yaptığı bu meskenlere ne ad verilir?

- A) İglo B) Kerpiç C) Ahşap  
D) Serender E) Bungalov

İklim şartları insanların birçok faaliyetini etkilediği gibi mesken tiplerini de etkilemektedir. Orman örtüsünün fazla olduğu kırsal yerleşmelerde daha çok ahşap meskenler yaygındır.



10- Buna göre, haritada gösterilen ülkelerin hangisinde kırsal yerleşmelerdeki meskenlerin yapımında ahşap malzemelerin daha çok kullanılması beklenir?

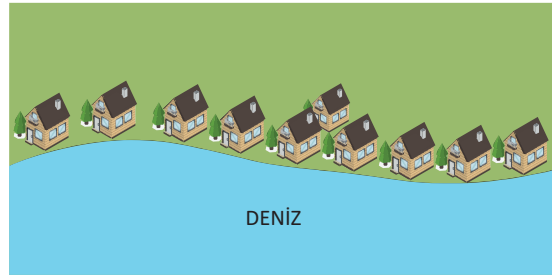
- A) Libya B) Uruguay C) Endonezya  
D) Kırgızistan E) Güney Afrika

Tek mesken ile köy arasında kalan yerleşmelere köyaltı yerleşmeleri adı verilir. Köyaltı yerleşmelerinin ortaya çıkmasında bazı faktörler etkili olmaktadır.

11- Aşağıdakilerden hangisi bu faktörler arasında yer almaz?

- A) Arazinin dağlık ve engebeli olması  
B) Tarlaların köy merkezlerine uzak olması  
C) Fabrikaların köy merkezlerine uzak olması  
D) Aile içinde çeşitli anlaşmazlıkların yaşanması  
E) Hayvan otlatmak için köyden uzak yerlere gidilmesi

Aşağıda bir yerleşim yerine ait plan verilmiştir.



12- Yukarıdaki meskenler yerleşme planına göre hangi grupta yer alır?

- A) Yol boyu B) Hat boyu C) Kıyı boyu  
D) Dairesel E) Çizgisel