



Ülkemizde yerleşmeyi etkileyen doğal ve beşeri faktörler vardır.

1- Aşağıdakilerden hangisi ülkemizde yerleşmeyi etkileyen doğal faktörler arasında yer almaz?

- A) İklim
- B) Sanayi
- C) Yer şekilleri
- D) Jeolojik yapı
- E) Su kaynakları

Anadolu'da yerleşmelerin günümüzden yaklaşık 12 bin yıl önce başladığı bilinmektedir. Anadolu'daki ilk yerleşmelerde insanlar mağaraları barınak olarak kullanmışlardır.

2- Buna göre, Anadolu yarımadasında insanların barınak olarak kullandıkları mağaralar arasında aşağıdakilerden hangisi yoktur?

- A) Ballica Mağarası
- B) Beldibi Mağarası
- C) Karain Mağarası
- D) Üçağzılı Mağarası
- E) Yarımburgaz Mağarası

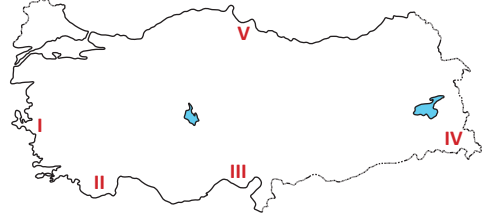
Neolitik Çağ'da Anadolu'da tarım ve hayvancılığın başlaması, hayvanların evcilleştirilmesi sonucu ilk köy tipi yerleşmeler ortaya çıkmıştır.



3- Haritadaki yerleşmelerden hangisi Neolitik Çağ'da Anadolu'da kurulan ilk köy yerleşmeleri arasında yer almaz?

- A) Haçılar
- B) Çayönü
- C) Çatalhöyük
- D) Yassıhöyük
- E) Aşıklıhöyük

Ülkemizde bazı bölgelerde sıcaklık ve yağış koşulları uygun olmasına rağmen dağlık ve engebeli arazi yapısından dolayı nüfus yoğunluğu azdır.



4- Buna göre haritadaki numaralandırılmış noktalardan hangisi açıklamaya uygun bir yerdir?

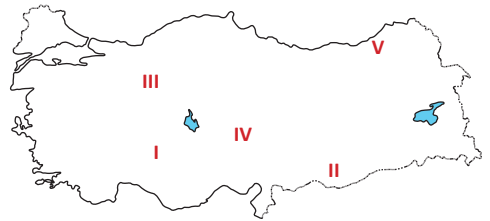
- A) I
- B) II
- C) III
- D) IV
- E) V

Ülkemizde bazı yerleşmelerin büyüüp gelişmesinde o bölgeden çıkarılan yer altı kaynaklarının etkisi fazladır.

5- Buna göre aşağıdaki yerleşmelerden hangisinin nüfusunun fazla olmasında yer altı kaynakları etkili değildir?

- A) Bodrum
- B) Elbistan
- C) Karabük
- D) Yatağan
- E) Zonguldak

Ülkemizde su kaynaklarının az olduğu ve arazinin düz olduğu alanlarda insanlar genellikle toplu yerleşmeler şeklinde meskenlerini kurarlar.



6- Buna göre, haritada numaralandırılmış yerlerden hangisinde toplu yerleşmelerin görülmesi beklenmez?

- A) I
- B) II
- C) III
- D) IV
- E) V



Ülkemizde önemli yolların kavşak noktasında bulunan yerleşmelerde nüfus fazladır. Ana ulaşım yollarına yakın olmayan yerlerde ise nüfus genellikle daha azdır.

7- Buna göre, aşağıdaki şehirlerden hangisi ulaşım olanaklarının gelişmesinden dolayı nüfusu fazla olan yerleşmelerden biri değildir?

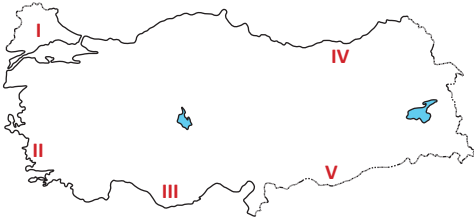
- A) Artvin
- B) Bolu
- C) Kayseri
- D) Konya
- E) Afyonkarahisar

İl merkezi birden fazla belediyeye bölünmüş ve kalabalık nüfuslu illerde belediye hizmetlerinin sağlıklı bir şekilde sürdürülmesi ve belediyeler arasında eşgüdüm sağlanması amacıyla büyükşehir belediyeleri oluşturulmuştur. Toplam nüfusu 750.000'den fazla olan şehirler, fiziki yerleşim durumları ve ekonomik gelişmişlik düzeyleri de dikkate alınarak büyükşehir belediyesine dönüştürülmüştür.

8- Buna göre aşağıdaki illerimizden hangisinde büyükşehir belediyesi teşkilatı yoktur?

- A) Denizli
- B) Hatay
- C) Sivas
- D) Tekirdağ
- E) Trabzon

Özellikle kırsal yerleşmelerdeki meskenlerin yapımında doğal çevre çok etkilidir. Doğal çevrede yaygın bulunan malzemeler bu bölgelerdeki evlerin yapımında kullanılır.



9- Buna göre haritada numaralandırılan bölgelerden hangisinde ahşap meskenler daha yaygındır?

- A) I
- B) II
- C) III
- D) IV
- E) V

Üniversitenin aynı bölümünü kazanan üç öğrenci memleketleri hakkında şu bilgileri vermektedir.

**Ahmet:** Benim memleketimde Neolitik Çağ'da kurulmuş ilk köy yerleşmelerinden biri olan Çatalhöyük yer almaktadır. Su kaynakları az ve arazi düz olduğu için toplu yerleşme bizim oralarda yaygındır.

**Ayşe:** Bizim oralarda o kadar eski yerleşim yerleri yok. Ana ulaşım yollarına uzak olduğu için nüfusumuz da fazla değil. Engebeli araziden dolayı evlerimiz birbirinden uzakta yer alıyor.

**Fatma:** Benim memleketimin bulunduğu alan da çok eskiden beri yerleşim alanı olarak kullanılmış. Yerleşmeler zamanla artmış ve şehirler kurulmuş. İlimizde büyükşehir belediyesi hizmet vermektedir.

10- Yukarıdaki öğrencilerin memleketleri aşağıdakilerden hangisidir?

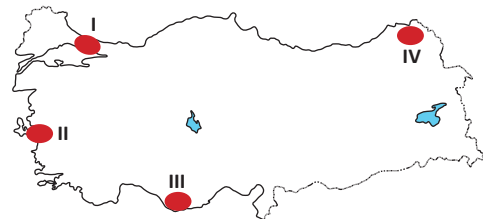
Ahmet	Ayşe	Fatma
A) Çorum	Bursa	Şanlıurfa
B) Konya	Artvin	Diyarbakır
C) Konya	Samsun	Adıyaman
D) Artvin	Muğla	Şanlıurfa
E) Samsun	Şanlıurfa	Muğla

Anadolu topraklarında; iklim şartlarının uygun olması, tarım alanlarının ve su kaynaklarının fazla olmasından dolayı birçok medeniyet yaşamıştır.

11- Aşağıdakilerden hangisi bu medeniyetler arasında yer almaz?

- A) Hititler
- B) Aztekler
- C) Urartular
- D) Frigyalılar
- E) Bizans İmparatorluğu

Ülkemizde nüfusun çok yoğun olduğu yerlerin başında, sanayi ve ticaretin gelişmiş olduğu alanlar yer almaktadır.



12- Buna göre, haritada numaralandırılarak gösterilen alanlardan hangileri bu duruma örnek olarak verilebilir?

- A) I ve II
- B) I ve III
- C) II ve III
- D) II ve IV
- E) III ve IV