



Aşağıdaki dünya haritası üzerinde bir iklim tipinin görüldüğü alanlar taranarak gösterilmiştir.



1- Haritadaki taralı alanlarda görülen iklim tipi aşağıdakilerden hangisidir?

- A) Step İklimi
B) Akdeniz iklimi
C) Savan iklimi
D) Çöl İklimi
E) Okyanusal iklim

Aşağıdaki dünya haritasında Amerika Birleşik Devletleri'nin (ABD) toprakları taranarak gösterilmiştir.



2- ABD'nin topraklarının bulunduğu alanlar dikkate alındığında hangi iklim tipinin bu ülkede görülmesi beklenmez?

- A) Ekvatorial iklim
B) Akdeniz iklimi
C) Okyanusal iklim
D) Çöl iklimi
E) Tundra iklimi

I. Yaz yağışları ile yeşeren, kış aylarında ise sararan uzun boylu otlar ve yer yer ağaçlar yer alır.

II. Yaz aylarında buzların çözünmesi sonucu ortaya çıkan çalı, yosun ve cılız otlar yer alır.

3- Yukarıda bitki örtüsü hakkında bilgi verilen iklimler hangi seçenekte doğru olarak verilmiştir?

- | | I | II |
|----|---------|---------|
| A) | Çöl | Muson |
| B) | Tundra | Savan |
| C) | Savan | Tundra |
| D) | Step | Akdeniz |
| E) | Akdeniz | Kutup |

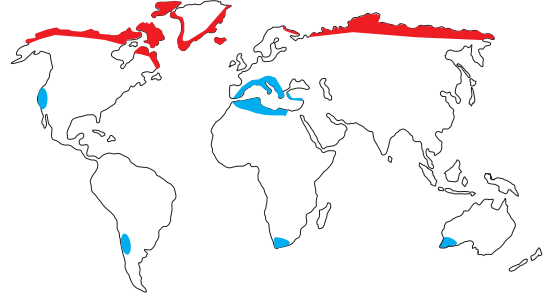
Aşağıdaki tabloda bir yöreye ait ortalama sıcaklık ve yağış değerleri verilmiştir.

	Ocak	Şubat	Mart	Nisan	Mayıs	Haziran	Temmuz	Ağustos	Eylül	Ekim	Kasım	Aralık
Sıcaklık (°C)	9,5	10	13	17,5	21	25,6	28	29	26	22	15	11
Yağış (mm)	110	89	65	51,1	47	20,5	6	5	18	42	71	121

4- Tablodaki değerlere bakıldığında, seçeneklerdeki ifadelerden hangisi yanlıştır?

- A) Yıllık toplam yağış miktarı 600 mm'den fazladır.
B) Yıllık ortalama sıcaklık yaklaşık 19 °C'dir.
C) Kuzey Yarım Küre'de yer alan bir yöredir.
D) En yağışlı mevsim kış, en kurak mevsim yazdır.
E) Karasal iklim koşullarının etkili olduğu bir yöredir.

Aşağıdaki dünya haritası üzerinde iki farklı iklim tipinin görüldüğü alanlar kırmızı ve mavi renklerle gösterilmiştir.



5- Bu iklim tipleri seçeneklerden hangisinde doğru olarak verilmiştir?

- | | | |
|----|---|--|
| | | |
| A) | Tundra iklimi | Ekvatorial iklim |
| B) | Okyanusal iklim | Sert Karasal iklim |
| C) | Savan iklimi | Sert Karasal iklim |
| D) | Akdeniz iklimi | Tundra iklimi |
| E) | Akdeniz iklimi | Çöl iklimi |

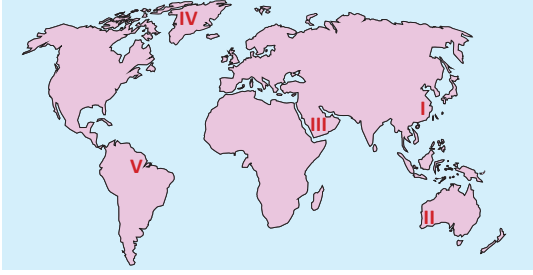
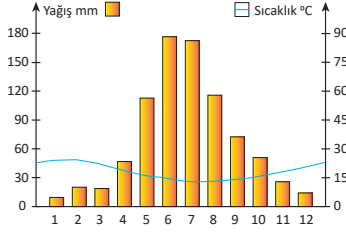
Bir bölgede yıllık toplam yağışın aylara dağılımının dengeli olmasına düzenli yağış rejimi, yağışın belirli aylarda yoğunlaşmasına ise düzensiz yağış rejimi adı verilir.

6- Yukarıdaki bilgiler dikkate alındığında aşağıdaki bölgelerin hangisinde yağış rejimi düzenlidir?

- A) Sibirya'nın kuzeyi
B) Güneydoğu Asya
C) Dönenceler çevresi
D) Amazon Havzası
E) Akdeniz çevresi

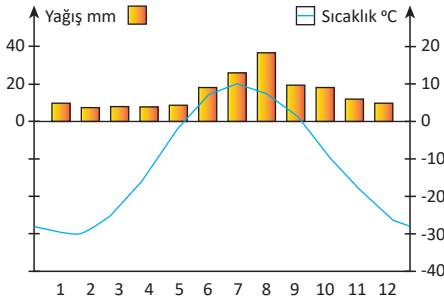


Yandaki grafikte bir yöreye ait aylık ortalama sıcaklık ve yağış değerleri gösterilmiştir.



7- Bu yöre haritada numaralandırılmış noktalardan hangisi olabilir?

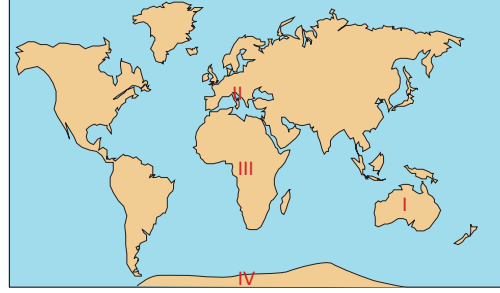
- A) I
B) II
C) III
D) IV
E) V



8- Grafikteki bilgiler incelendiğinde bu yörenin aşağıdaki koordinatlardan hangisinde olması beklenir?

- A) 0° 20°
B) 120° 100°
C) 120° 100°
D) 70° 90°
E) 160° 140°

Aşağıdaki dünya haritası üzerinde dört farklı iklim tipinin görüldüğü alanlar gösterilmiştir.



9- Aşağıdaki iklim tiplerinden hangisi haritada işaretli yerlerden birinde görülmez?

- A) Çöl iklimi
B) Akdeniz iklimi
C) Tundra iklimi
D) Kutup iklimi
E) Ekvatorial iklim

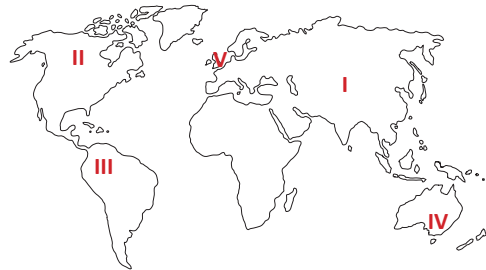
Aşağıda dört farklı iklim tipinin özellikleri anlatılmıştır.

- Yağışlar oldukça azdır. Günlük sıcaklık farkı 50 °C'yi geçebilir. Dönenceler çevresinde ve orta kuşak karalarının iç kesimlerinde görülür.
- Güneş ışınları yıl boyunca dik ve dike yakın açılarla gelir. Sıcaklık ve yağış miktarı fazladır. Yıllık sıcaklık farkı çok azdır.
- Karaların iç kesimlerinde görülür. Kışlar soğuk, yazlar ise sıcaktır. İlk bahar yağışları ile yeşeren otlar yaz aylarında kurur.
- Toprak yılın büyük bölümünde donmuş haldedir. Sıcaklık yılın birkaç ayı 0 °C'yi geçer. Bu aylarda buzlar erir ve bataklıklar oluşur.

10- Aşağıdaki iklim tiplerinden hangisinin özellikleri anlatılmamıştır?

- A) Çöl iklimi
B) Akdeniz iklimi
C) Tundra iklimi
D) Ekvatorial iklim
E) Ilıman karasal iklim

Aşağıdaki dünya haritasında beş farklı nokta numaralandırılarak gösterilmiştir.



11- Numaralandırılarak gösterilen noktalardan hangi ikisinin yağış rejimi düzenlidir?

- A) I ve II
B) II ve III
C) II ve IV
D) III ve IV
E) III ve V