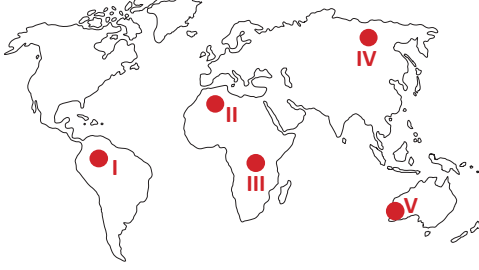




Aşağıdaki dünya haritası üzerinde bazı noktalar numaralandırılarak gösterilmiştir.

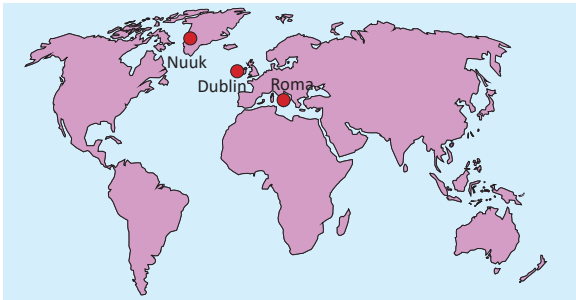


1- Yukarıdaki dünya haritasında numaralandırılan noktalarda görülen iklimlerle ilgili aşağıdaki seçeneklerden hangisi yanlıştır?

- A) I – Ekvatorial İklim  
B) II – Çöl İklimi  
C) III – Savan İklimi  
D) IV – Muson İklimi  
E) V – Akdeniz İklimi

Coğrafya öğretmeni Melis Hanım, yaz tatilini değerlendirmek amacıyla aşağıdaki dünya haritasında gösterilen üç farklı şehre seyahat etmiştir. Melis Hanım coğrafya öğretmeni olduğu için gezdiği şehirlerdeki doğal bitki örtüsü dikkatini çekmiştir. Bu üç şehirde karşılaştığı bitki türleri aşağıdaki gibidir:

- **Roma:** yabani zeytin, defne, zakkum gibi türlerden oluşan maki türleri.
- **Dublin:** geniş ve iğne yapraklı ağaçlardan oluşan karışık ormanlar.
- **Nuuk:** yaz aylarında yeşeren yosun, ot, liken ve çiçekli bitkiler.

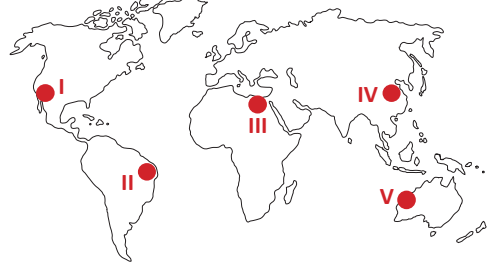


2- Coğrafi konumları da dikkate alındığında Melis Hanım'ın gezdiği üç şehirde hangi iklimler görülür?

- |              | <u>Roma</u> | <u>Dublin</u> | <u>Nuuk</u>  |
|--------------|-------------|---------------|--------------|
| A) Akdeniz   |             | Okyanusal     | Tundra       |
| B) Akdeniz   |             | Okyanusal     | Sert Karasal |
| C) Step      |             | Ekvatorial    | Akdeniz      |
| D) Step      |             | Okyanusal     | Tundra       |
| E) Okyanusal |             | Savan         | Çöl          |

Aşağıda bir iklim tipinin özellikleri sıralanmıştır:

- Dünyada 30°-40° enlemleri arasındaki kıyı bölgelerde görülür.
- Yaz ayları sıcak ve kurak, kışlar ise ılık ve yağışlıdır.
- Yıllık ortalama sıcaklık 15-20 °C arasındadır.
- Yıllık ortalama yağış miktarı 600-1000 mm arasındadır.
- Doğal bitki örtüsü kızılçam ormanları ve makidir.



3- Yukarıda özellikleri anlatılan iklim tipi, haritada numaralandırılan noktalardan hangisinde görülür?

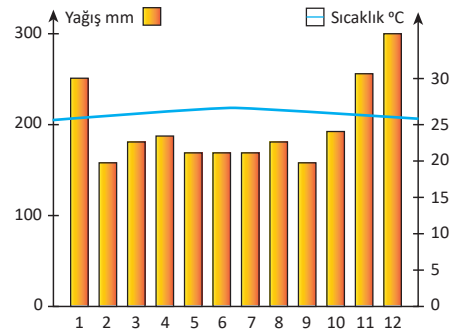
- A) I      B) II      C) III      D) IV      E) V

Büyük iklimler sıcak, ılıman ve soğuk olmak üzere üç ana gruba ayrılmaktadır.

4- Buna göre aşağıdaki iklim tiplerinden hangisi ılıman iklimler arasında yer almaz?

- A) Muson iklimi      B) Okyanusal iklim  
C) Akdeniz iklimi      D) Ilıman karasal iklim  
E) Sert karasal iklim

Aşağıdaki grafikte Singapur'un sıcaklık ve yağış ortalamalarının aylara göre dağılışı gösterilmiştir.

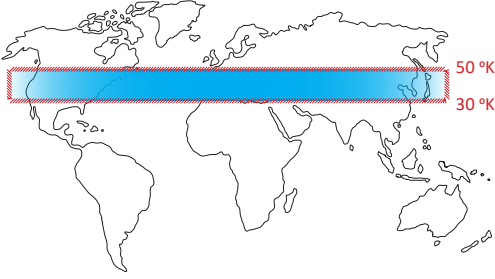


5- Grafikteki bilgiler dikkate alındığında aşağıdaki ifadelerden hangisi yanlıştır?

- A) Yıllık toplam yağış 2300 mm'den fazladır.  
B) Yıllık sıcaklık farkı 1-2 °C'dir.  
C) Ekvatorial iklim görülür.  
D) Yağış rejimi düzenlidir.  
E) Bağıl nem oranı düşüktür.



Aşağıdaki dünya haritasında Kuzey Yarım Küre'de 30°-50° enlemleri arası taranarak gösterilmiştir.



6- Haritada taranarak gösterilen alanda aşağıdaki iklim tiplerinden hangisi görülmez?

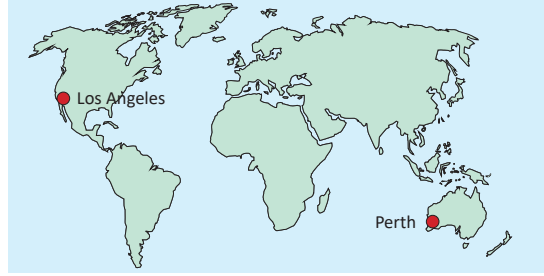
- A) Akdeniz İklimi
- B) Karasal İklim
- C) Okyanusal İklim
- D) Çöl İklimi
- E) Savan İklimi

- En yaygın olarak görüldüğü yer, Güney ve Güneydoğu Asya'dır.
- Mevsimlik (devirli) rüzgarlar bu iklim tipinin oluşmasını sağlamıştır.
- Orografik yağışlar görülür ve yağışın büyük bir kısmı yaz aylarında düşer.
- Bitki örtüsü kışın yapraklarını döken ormanlardır.

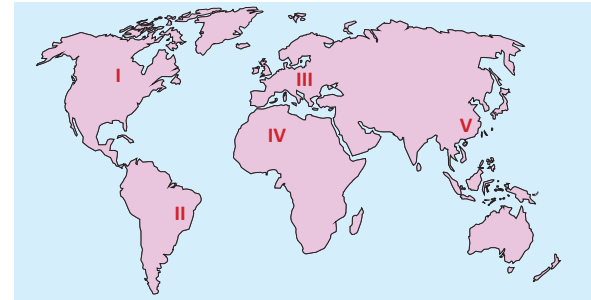
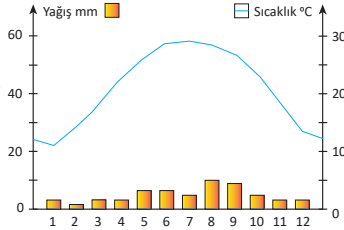
8- Yukarıda özellikleri sıralanan iklim tipi aşağıdakilerden hangisidir?

- A) Akdeniz iklimi
- B) Savan iklimi
- C) Muson iklimi
- D) Ekvatorial iklim
- E) Okyanusal iklim

Aşağıdaki dünya haritası üzerinde doğal bitki örtüsü birbirine benzer olan Los Angeles ve Perth şehirleri gösterilmiştir.



Yandaki grafikte bir bölgenin aylık ortalama yağış ve sıcaklık değerleri gösterilmiştir.



7- Grafikteki sıcaklık ve yağış değerleri, dünya haritasında işaretli noktalardan hangisine ait olabilir?

- A) I
- B) II
- C) III
- D) IV
- E) V

9- Bu şehirlerin bitki örtülerinin benzer olması öncelikle hangi özelliklerinin aynı olduğunu gösterir?

- A) Bakı
- B) Enlem
- C) Boylam
- D) Yükselti
- E) İklim

- I. Yağış rejimi düzenlidir.
- II. Yıllık sıcaklık farkı 2-3 °C'dir.
- III. Güneydoğu Aysa kıyılarında görülür.
- IV. Bitki örtüsü kışın yaprağını döken ormanlardır.

10- Yukarıdakilerden hangileri Ekvatorial iklimin özellikleri arasında gösterilemez?

- A) Yalnız I
- B) Yalnız II
- C) I ve III
- D) II ve III
- E) III ve IV