



9. SINIF KONU TESTLERİ

TEST

9

İZOHİPSLER

1) Haritalar yer şekillerini gösterirken çeşitli nedenlerle bozulmalar olur.

Bu bozulmaların en az olduğu yöntem aşağıdakilerden hangisidir?

- A) Kabartma yöntemi
- B) Renklendirme yöntemi
- C) İzohips yöntemi
- D) Gölgeleme yöntemi
- E) Tarama yöntemi

2) İzohips yöntemi ile çizilen bir fiziki haritadan yararlanılarak aşağıdaki bilgilerden hangisine ulaşılamaz?

- A) Yer şekillerinin eğimi
- B) İki kent arasındaki uzaklık
- C) Bölgenin coğrafi konumu
- D) Kentlerin idari sınırları
- E) Yamaçların yükselti farkı

3) - Işık almayan yerler koyu renkle gösterilir.

- Harita çiziminde yardımcı bir yöntemdir.
- Yükselti kesin olarak belirlenemez.
- Haritanın bir köşesinden 45° lik bir açıyla ışık verildiği düşünülür.

Yukarıda yer şekillerini haritaya aktarmada kullanılan bir yöntemle ilgili çeşitli bilgiler verilmiştir.

Bu yöntem aşağıdakilerden hangisidir?

- A) Konik yöntem
- B) İzohips yöntemi
- C) Gölgeleme yöntemi
- D) Kabartma yöntemi
- E) Silindirik yöntem

4) Türkiye fiziki haritasında aşağıdaki bölgelerden hangisi kahverengi ve tonları ile gösterilir?

- A) Ergene havzası
- B) Kıyı Ege
- C) Çukurova
- D) Harran Ovası
- E) Erzurum- Kars Platosu

5) Tarama yöntemi ile çizilmiş bir fiziki haritada çizgilerin kısa, kalın ve sık olması aşağıdakilerden hangisini gösterir?

- A) Eğimin fazla olduğunu
- B) Yükseltinin fazla olduğunu
- C) Ormanların çok olduğunu
- D) Yağış miktarının çok olduğunu
- E) Denizlerin fazla olduğunu

6) Öğretmen Osman Bey "Haritalarda yer şekillerinin ve yükselti basamaklarının gösterilmesi sırasında en yaygın olan yöntem sizce nedir?" diye sorduğunda,

Besime: İzohips ve renklendirme yöntemi

Rabia: Kabartma ve tarama yöntemi

Merve: Renklendirme ve tarama yöntemi

Yağmur: Gölgeleme ve renklendirme yöntemi

Nigâr: İzohips ve gölgeleme yöntemi diye cevap vermiştir.

Bu öğrencilerden hangisinin verdiği cevap doğrudur?

- A) Besime
- B) Rabia
- C) Merve
- D) Yağmur
- E) Nigâr

7) - Yer şekillerini üç boyutlu gösterir.

- Yapımı ve taşınması zordur.
- Hata payı diğerlerine oranla azdır.
- Harita üzerinde çeşitli renkler de kullanılır.

Yukarıda yer şekillerini haritada göstermek için yararlanılan hangi yöntemden söz edilmektedir?

- A) Tarama
- B) Gölgeleme
- C) Renklendirme
- D) İzohips
- E) Kabartma

8) Leyla; proje ödevi için Doğu Anadolu Bölgesi'nin tarama yöntemi ile haritasını hazırlamış ve harita ile ilgili şu tespitleri yapmıştır.

- I. Yükseltinin fazla olduğu yerlerde taramalar kısa, kalın ve sık çizilmiştir.
- II. Doğu Anadolu Bölgesi'nde eğimli alanlar olduğu gibi düz alanlar da vardır.
- III. Dik yamaçlarda çizgiler daha kalın ve sık çizilmiştir.

Bu tespitlerden hangileri yanlıştır?

- A) Yalnız I
- B) I ve II
- C) I ve III
- D) II ve III
- E) I, II ve III

cogrfayahocasi.com

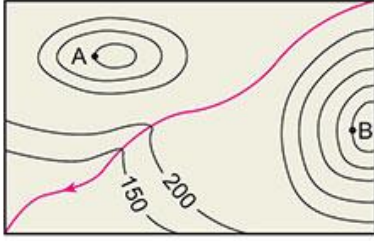
cogrfayahocasi.com

cogrfayahocasi.com

cogrfayahocasi.com



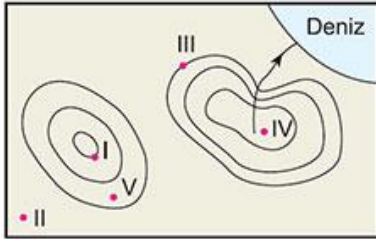
9)



Yukarıdaki izohips haritasında gösterilen A ve B noktalarının yükseltisi aşağıdakilerin hangisinde doğru olarak verilmiştir?

- | <u>A</u> | <u>B</u> |
|----------|----------|
| A) 350 | 400 |
| B) 300 | 450 |
| C) 350 | 450 |
| D) 400 | 550 |
| E) 450 | 550 |

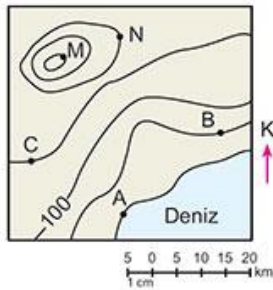
10)



Yukarıdaki izohips haritasında numaralandırılmış noktalardan hangisinin yüksekliği diğerlerinden fazladır?

- A) I B) II C) III D) IV E) V

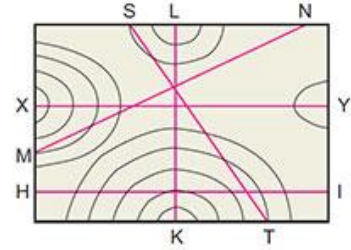
11)



Yukarıda verilen izohips haritasından yararlanılarak aşağıdakilerden hangisi tespit edilemez?

- A) A ve B noktaları arasındaki kuş uçuşu uzaklık
B) N noktasının M'ye göre konumu
C) C noktasının yüksekliği
D) Bölgenin hangi yarım kürede yer aldığı
E) B ve M noktaları arasındaki yükselti farkı

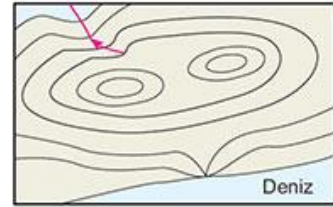
12)



Yukarıdaki izohips haritasından alınan doğrultulardan hangisinde yükselti farkı en fazladır?

- A) X – Y B) M – N C) K – L
D) S – T E) H – I

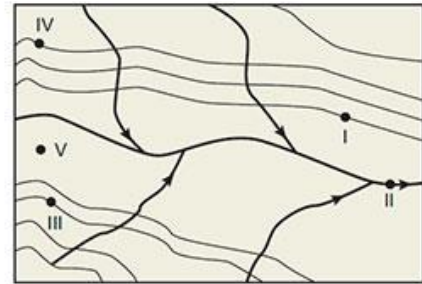
13)



Yukarıdaki izohips haritasında aşağıdaki yer şekillerinden hangisi gösterilmemiştir?

- A) Falez B) Boyun C) Vadi
D) Yamaç E) Çanak

14)



Yukarıdaki izohips haritasında gösterilen noktalardan hangisinin yükseltisi diğerlerinden daha azdır?

- A) I B) II C) III D) IV E) V

15) Eş yükselti eğrilerinin sıklığı arazinin eğimine bağlı olarak değişir.

İzohips eğrilerinin sık olduğu bir yer aşağıdakilerden hangisidir?

- A) Delta ovası B) Şelale
C) Deniz kıyısı D) Kapalı çukur
E) Vadi tabanı