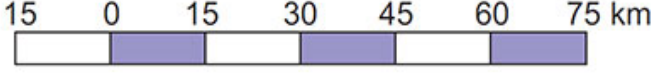


1) Aşağıda bir çizik ölçek verilmiştir. (Çentikler arası 1 cm'dir.)



Bu çizik ölçeğin kesir ölçek olarak değeri aşağıdakilerden hangisidir?

- A) 1/25 000 B) 1/150 000 C) 1/750 000
D) 1/1.500 000 E) 1/15.000 000

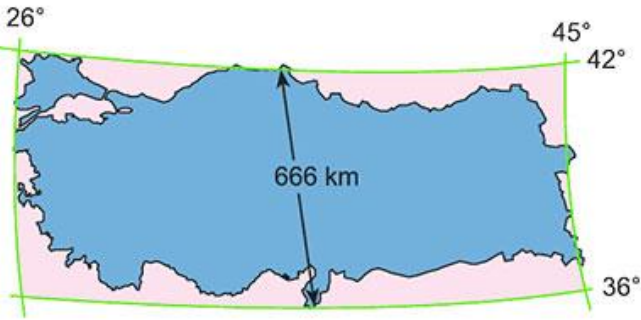
2) Bir mahallenin planının çizilmesi durumunda aşağıdaki ölçeklerden hangisinin kullanılması **daha uygun olur?**

- A) 1/10.000 B) 1/50.000 C) 1/250.000
D) 1/500.000 E) 1/1.000.000

3) 1/600.000 ölçekli bir haritada 8 cm olarak gösterilen bir yol 1/200.000 ölçekli bir haritada kaç cm olarak gösterilir?

- A) 12 B) 18 C) 24 D) 36 E) 48

4)



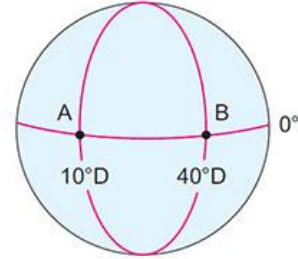
Sinop ve Hatay arasındaki kuş uçuşu uzaklığın 10 cm olarak gösterildiği yukarıdaki haritanın ölçeği aşağıdakilerden hangisidir?

- A) 1/1.110.000 B) 1/11.100.000
C) 1/6.660.000 D) 1/2.220.000
E) 1/66.600.000

5) 1/600.000 ölçekli bir haritada 8 cm olarak gösterilen bir yol 1/200.000 ölçekli bir haritada kaç cm olarak gösterilir?

- A) 12 B) 18 C) 24 D) 36 E) 48

6)

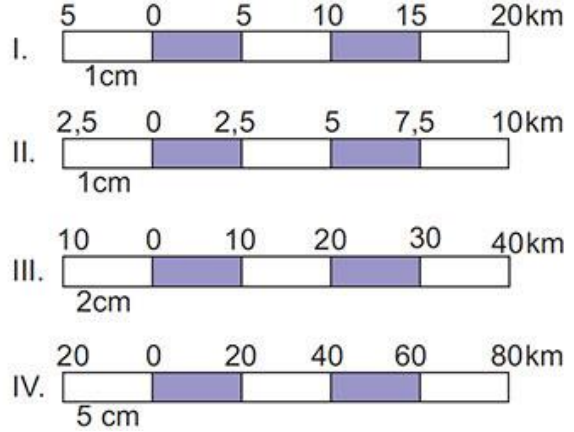


Yukarıdaki küre üzerinde A ve B noktalarının coğrafi koordinatları verilmiştir.

Bu iki nokta arasındaki uzaklığı 10 cm olarak gösteren haritanın ölçeği aşağıdakilerden hangisidir?

- A) 1/111.000 B) 1/11.100.000
C) 1/3.330.000 D) 1/33.300.000
E) 1/66.600.000

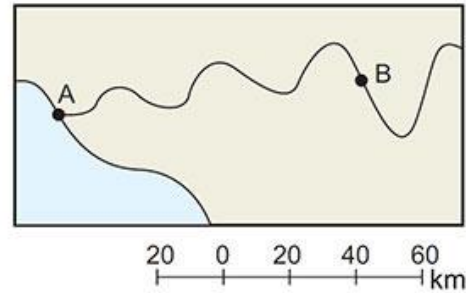
7) Aşağıda dört ayrı çizik ölçek verilmiştir.



Bu ölçeklerden hangilerinin ayrıntıları gösterme oranları eşittir?

- A) I ve II B) I ve III C) II ve III
D) II ve IV E) III ve IV

8)



Yukarıdaki haritada gösterilen A ve B kentleri arası kuş uçuşu uzaklık yaklaşık olarak kaç km'dir?

- A) 90 B) 120 C) 200 D) 250 E) 300

9) 1/900.000 ölçekli bir haritada 8 cm² olarak gösterilen bir göl gerçekte kaç km² dir?

- A) 72
- B) 128
- C) 256
- D) 566
- E) 648

10) 1/600.000 ölçekli bir haritada iki kent arasındaki uzaklık 4 cm olarak ölçülmüştür.

Bu uzaklığın 8 cm olarak ölçüldüğü haritanın ölçeği aşağıdakilerden hangisidir?

- A) 1/300.000
- B) 1/900.000
- C) 1/1.000.000
- D) 1/1.200.000
- E) 1/15.000.000

11) Sinop'tan çıkan bir araç saatte 100 km giderek 5 saatte Çankırı'ya ulaşmıştır.

Sinop ve Çankırı arasındaki mesafe 1/1.000.000 ölçekli bir haritada kaç cm olarak gösterilmiştir?

- A) 5
- B) 50
- C) 75
- D) 750
- E) 5000

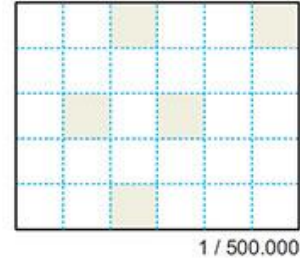
12) 1/400.000 ölçekli bir haritada 8 cm² olarak gösterilen bir göl, 1/1000000 ölçekli bir haritada kaç cm² olarak gösterilir?

- A) 1.28
- B) 12.8
- C) 18.9
- D) 24.4
- E) 30.6

13) Gerçekte 400 km² olan bir gölü 16 cm² olarak gösteren haritanın ölçeği aşağıdakilerden hangisidir?

- A) 1/25.000
- B) 1/50 000
- C) 1/100 000
- D) 1/250.000
- E) 1/500 000

14)

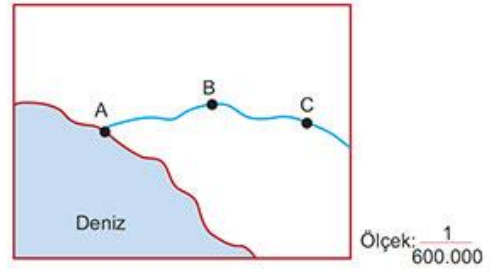


Yanda verilen karelerin bir kenarı 2 cm'dir.

Buna göre, taralı alanların toplam gerçek yüz ölçümü aşağıdakilerden hangisinde doğru olarak verilmiştir?

- A) 40
- B) 160
- C) 200
- D) 300
- E) 500

15)



Yukarıdaki haritada A - B arası uzaklık 5 cm, B - C arası uzaklık 4 cm olarak gösterilmiştir.

Buna göre A - C arası uzaklık gerçekte kaç km'dir?

- A) 25
- B) 34
- C) 54
- D) 340
- E) 540