



# 9. SINIF KONU TESTLERİ

TEST

17

## YERLEŞMELERİN GELİŞİMİ

1) Yeryüzünde yerleşmeye uygun alanlar olduğu gibi yerleşmeye uygun olmayan bazı alanlar da vardır. Bu alanlara anökümen alanlar denir.

**Aşağıdakilerden hangisi anökümen alanlardan biri değildir?**

- A) Yüksek dağlar
- B) Şelaleler
- C) Gür ormanlar
- D) Sıcaklığı 10°C'nin altında olan yerler.
- E) Taban seviyesi ovaları

2) Paleolitik Çağ'da insanlar küçük gruplar hâlinde göçebe olarak yaşıyorlar avcılık ve toplayıcılıkla geçimlerini sürdürüyorlardı.

**Paleolitik Çağ'da ülkemizde kurulan yerleşim birimlerine aşağıdakilerden hangisi örnek olarak verilebilir?**

- A) Antalya - Karain Mağarası
- B) Bursa - Cumalıkızık
- C) Trabzon - Sümela Manastırı
- D) İzmir - Efes
- E) Muğla - Bodrum

3) - Aşırı kurak ve sıcaklık fazla

- Yer şekilleri engebeli ve yüksek

- Çok soğuk ve karla kaplı

- Aşırı nemli ve gür ormanlarla kaplı

Yukarıda yerleşmeyi sınırlandıran, bazı faktörler verilmiştir.

**Buna göre aşağıda verilen yerlerden hangisi verilen özelliklere sahip olan bölgelerden biri değildir?**

- A) Tibet Platosu
- B) Grönland
- C) Kongo Havzası
- D) Mezopotamya
- E) Avustralya'nın iç kesimleri

4) Öğrenci değişim programı ile başka bir ülkeye giden Osman arkadaşlarına bulunduğu ülke ile ilgili olarak şu bilgileri vermiştir.

- Oldukça dağlık ve engebelidir.

- Nüfusun büyük bölümü ülkenin güneyinde toplanmıştır

- Kuzey bölümler çok soğuk ve buzullarla kaplıdır.

- Yaz geç gelir ve çok kısa sürer.

- Sahiller ılıman iklim ve balıkçılık nedeniyle daha kalabalık nüfusa sahiptir.

**Buna göre Osman'ın hangi ülkeye gittiği söylenebilir?**

- A) İsviçre
- B) İngiltere
- C) Norveç
- D) Almanya
- E) İrlanda Cumhuriyeti

5) Süreç içinde insanların yaşamlarını sürdürebilmek için kullandıkları doğal meskenlere;

I. ağaç kovukları,

II. ahşap evler,

III. mağaralar,

IV. kerpiç evler

**gibi barınaklardan hangileri örnek verilemez?**

- A) Yalnız I
- B) I ve III
- C) II ve III
- D) II ve IV
- E) III ve IV

6) I. La Paz kenti dünyanın en yüksekte kurulan yerleşmesidir.

II. Sydney dünyanın en sıcak kentidir.

III. Dikson kenti Kuzey Kutbu'na en yakın yerleşmedir.

**Yukarıda verilen bilgilerden hangileri yanlıştır?**

- A) Yalnız I
- B) Yalnız II
- C) I ve II
- D) I ve III
- E) II ve III

7) İnsanlar yaklaşık olarak MÖ 10.000 yıllarına denk gelen Neolitik Çağ'da kerpiç, taş ve kamış gibi maddeleri kullanarak evler inşa etmişler ve akarsu veya göl kenarlarına yerleşmişlerdir.

**Bu dönemde Anadolu'da kurulan yerleşmeler arasında aşağıdakilerden hangisi yer alır?**

- A) Çatalhöyük
- B) Safranbolu
- C) Milet
- D) Nemrut Dağı
- E) Beypazarı

8) Buzul Çağı'nın sona ermesiyle yerleşik hayata geçen insanların temel geçim kaynağı aşağıdakilerden hangisidir?

- A) Madencilik
- B) Tarım
- C) Ticaret
- D) Sanayi
- E) Turizm



9) Tarihte kurulan ilk yerleşmelerin tamamının kırsal yerleşmeler olduğu görülür.

**Bu durum üzerinde;**

I. iklim şartları,

II. insanların ekonomik faaliyetleri,

III. yer şekillerinin uzanışı

**özelliklerinden hangilerinin etkili olduğu söylenebilir?**

A) Yalnız I      B) Yalnız II      C) I ve II

D) I ve III      E) II ve III

10) Aşağıdakilerden hangisi bir yerleşim biriminin kurulmasında doğal koşulların etkisine örnek olarak verilemez?

A) Karadeniz Bölgesi'nde dağlık yerleşmenin yaygın olması

B) Kuzey Afrika'da yerleşmelerin Nil vadisinde yoğunlaşması

C) İsveç'te nüfusun ülkenin güneyinde yoğunlaşması

D) Batı Avrupa'da nüfus sayısının fazla olması

E) Orta Asya'nın nüfusunun az olması

11) İlk yerleşmelerin mağaralarda ve doğal barınaklarda yoğunlaşması aşağıdakilerden hangisi ile daha çok ilişkilidir?

A) İklim ve yabani hayvanlardan korunma

B) Tarım alanlarını kontrol altında tutabilme

C) Bir arada yaşama isteği

D) Yerleşik hayata geçme

E) Gıda maddelerini saklama

12) Orta kuşakta insanlar genel olarak 2500 metreden daha alçak olan yerleri yerleşim alanı olarak seçerler. Yüksek enlemlerde bu yükselti daha düşük değerlere iner. Bununla beraber tropikal kuşaktaki La Paz kenti 4000 m yükseklikte kurulmuş bir şehirdir.

**Bu kentin kurulduğu yükseltinin fazla olmasında;**

I. bölgenin sıcaklık ve nem değerlerinin fazla olması,

II. yüksek kesimlerde yer altı kaynaklarının bulunması,

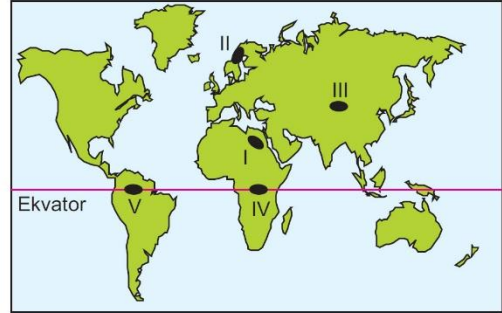
III. bölgede güvenlik sorunlarının yaşanması

**özelliklerinden hangileri etkilidir?**

A) Yalnız I      B) Yalnız II      C) I ve II

D) I ve III      E) II ve III

13) Kurak ve yarı kurak bölgelerde su kenarlarında yerleşmeler daha fazladır.

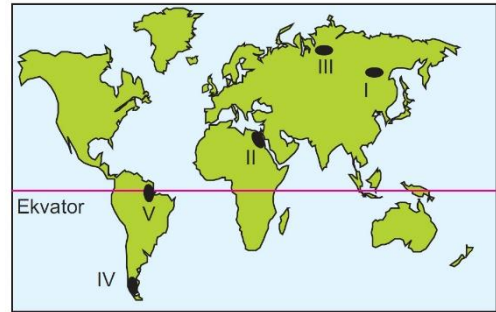


Buna göre, yukarıdaki haritada numaralanmış alanlardan hangilerinde su kenarlarındaki yerleşmeler daha fazladır?

A) I ve II      B) I ve III      C) II ve III

D) II ve IV      E) III ve V

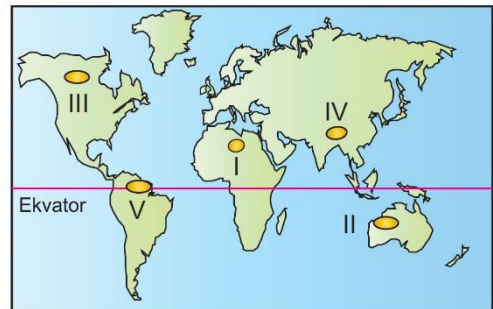
14)



Yukarıdaki haritada gösterilenlerden hangisi Dünya'da ilk yerleşmelerin kurulduğu alanlardan biridir?

A) I      B) II      C) III      D) IV      E) V

15)



Yukarıdaki haritada numaralandırılan yerlerden hangisinde yerleşmelerin az olmasına neden olarak engebeli arazi yapısı gösterilebilir?

A) I      B) II      C) III      D) IV      E) V