



9. SINIF KONU TESTLERİ

TEST

15

DÜNYA'DAKİ İKLİM TİPLERİ

- I. Akdeniz
- II. Ekvatorial
- III. Muson
- IV. Okyanusal

Yukarıda verilen iklim tiplerinden hangilerinde belirgin bir kurak dönem yoktur?

- A) Yalnız II B) I ve II C) I ve III
D) II ve IV E) III ve IV

2) • Nemlilik fazladır.

- Yıllık sıcaklık farkı azdır.
- Nemcil ormanlar yaygındır.
- Kimyasal çözülme fazladır.

Yukarıda önemli özellikleri verilen iklim tipi aşağıdakilerden hangisidir?

- A) Muson B) Karasal C) Savan
D) Ekvatorial E) Tundra

3) Bir bölgede kışın sıcaklık -35°C 'ye kadar inerken yazın 20°C 'ye kadar çıkmakta, en fazla yağış yaz mevsiminde düşmektedir. Kışın kar uzun süre yerde kalabilmekte ancak yazın eriyen karlar bölgede ılık bir havanın yaşandığına kanıt oluşturmaktadır.

Yukarıda önemli özellikleri anlatılan iklim aşağıdakilerden hangisidir?

- A) Okyanusal iklim B) Tundra iklimi
C) Karasal iklim D) Muson iklimi
E) Step iklimi

4) Bir bölgede araştırma yapan bir bilim insanı gezdiği bölgede kızılcık alanlarının bulunduğunu, ancak insanlar tarafından tahrip edildiği bölgelerde kısa boylu ve iğne yapraklı ağaçların yetiştiğini tespit etmiştir.

Bu kişinin aşağıdaki bölgelerden hangisinde bu araştırmayı yaptığı söylenebilir?

- A) Afrika'da Kap Bölgesi
B) Kuzeybatı Avrupa
C) Hindistan'ın güneyi
D) Kazakistan
E) Orta Amerika

5) Bir bölgede farklı iklim tiplerinin görüldüğüne kanıt olarak,

- I. kırsal alanda konut tiplerinin farklı olması,
- II. farklı yer altı kaynaklarına sahip olması,
- III. farklı bitki türlerinin yetişmesi,
- IV. tarım ürünü çeşidinin fazla olması

durumlarından hangileri gösterilemez?

- A) Yalnız II B) I ve II C) II ve III
D) II ve IV E) III ve IV

6) Aşağıda bazı iklim tipleri ve bu iklimlerin doğal bitki örtüleri eşleştirilmiştir.

- I. Akdeniz - Maki
- II. Ekvatorial – İğne yapraklı orman
- III. Karasal - Tayga
- IV. Muson – Tundra

Bu eşleştirmelerden hangileri yanlıştır?

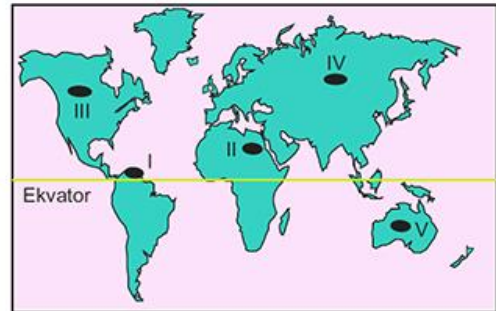
- A) I ve II B) I ve III C) II ve III
D) II ve IV E) III ve IV

7) Durdane internet üzerinden haberleştiği arkadaşından yaşadığı bölgede havanın sürekli sisli ve kapalı olduğunu, serin geçen yaz boyu sık sık yağış olduğunu ancak en fazla yağışın sonbaharda düştüğünü öğreniyor. Bunun yanında karışık yapraklı ormanların bulunduğunu, kışın zaman zaman kar yağışları da olabildiğini arkadaşına yazıyor.

Buna göre Durdane'nin arkadaşının hangi ülkede yaşadığı söylenebilir?

- A) İtalya B) İngiltere C) Rusya
D) Brezilya E) Japonya

8)



Yukarıdaki haritada numaralandırılan bölgelerden hangilerinde iğne yapraklı ağaç türleri daha yaygındır?

- A) I ve II B) I ve III C) II ve IV
D) III ve IV E) III ve V



9) Dünya genelinde iklimlerin dağılışını gösteren bir haritadan aşağıdakilerden hangisi hakkında kesin bir bilgi edinilebilir?

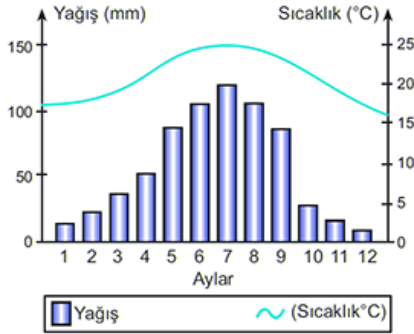
- A) Nüfus sayısı
- B) Ekonomik gelişme düzeyi
- C) Doğal bitki örtüsü
- D) Yükselti değerleri
- E) Okyanus akıntıları

10) • En fazla yağış yazın düşer, kış mevsimi kurak geçer.
• Yıllık yağış miktarı 250 mm'den azdır.
• Yazlar sıcak ve kurak kışlar soğuk ve yağışlıdır.
• 10° – 20° enlemleri arasında görülür. Yazı yağışlı, kışları kuraktır.

Yukarıda belli başlı özellikleri verilen iklimler arasında aşağıdakilerden hangisi yer almaz?

- A) Akdeniz
- B) Muson
- C) Çöl
- D) Step
- E) Savan

11) Aşağıda bir bölgenin aylık sıcaklık ve yağış değerleri verilmiştir.



Bu iklim tipi ile ilgili olarak aşağıdakilerden hangisi söylenemez?

- A) Yağış rejimi düzensizdir.
- B) Bitki örtüsü savandır.
- C) Yaz kuraklığı belirgindir.
- D) Kar yağışı görülmez.
- E) Fiziksel çözülme azdır

12) • Yıl boyunca yağışlıdır.

- Cephe yağışları etkilidir.
- Batı Avrupa ve Kanada'nın batısında yaşanır.
- Kışları serin ve yağışlıdır.

Yukarıda önemli özellikleri verilen iklim tipi aşağıdakilerden hangisidir?

- A) Akdeniz
- B) Okyanusal
- C) Ekvatorial
- D) Muson
- E) Tundra

13) Bitki coğrafyası konusunda araştırma yapan bir bilim insanı üç farklı bölgede çalışmış ve bu bölgelerin bitki örtüleri ile ilgili şu değerlendirmeleri yapmıştır.

I. Oldukça cılız olan çalılardan oluşan bitkiler kışın donmakta yazın 2 - 3 ay çözülen toprakta kısa bir süre yeşil olarak kalmaktadır.

II. İlkbaharda yeşeren yazın sararıp kuruyan kısa boylu otlardan oluşmaktadır.

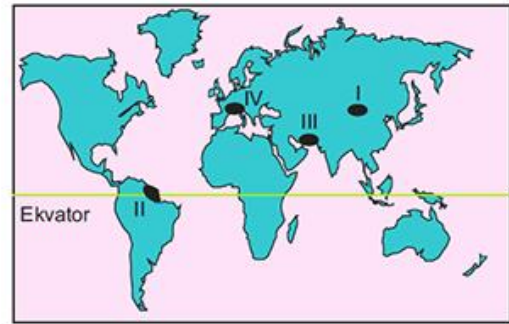
III. İğne yapraklı ve bütün yıl yeşil kalan ağaçlar doğal bitki örtüsünü oluşturmaktadır.

Buna göre bilim insanının araştırma yaptığı bölgelerin bitki örtüleri aşağıdakilerin hangisinde doğru olarak verilmiştir?

- | | I | II | III |
|-----------|--------|-------|-----|
| A) Tayga | Maki | Orman | |
| B) Step | Orman | Maki | |
| C) Tundra | Maki | Step | |
| D) Tayga | Tundra | Maki | |
| E) Tundra | Step | Tayga | |

14) • X bitkisi her mevsim yağışa ihtiyaç duyan ve düşük sıcaklıklara dayanıksız bir bitkidir.

• Y bitkisi yaz kuraklığına dayanıklı ancak kışları ılık olan yerlerde yetişen küçük-sert yapraklı bir bitkidir.



Buna göre, bu bitkiler haritada numaralanmış alanların hangilerinde yetişme ortamı bulmaktadır?

- | | X | Y |
|----|-----|-----|
| A) | I | II |
| B) | II | III |
| C) | II | IV |
| D) | III | IV |
| E) | II | I |