

1) Aşağıda, bazı iller ile bu illerin yer aldıkları bölge grupları eşleştirilmiştir.

- I. Afyonkarahisar - Tarım bölgesi
- II. Antalya - Turizm bölgesi
- III. Kocaeli - Sanayi bölgesi
- IV. Mersin - Serbest ticaret bölgesi
- V. Hakkâri - Maden bölgesi

Buna göre, il - bölge eşleştirmelerinden hangisi yanlıştır?

- A) I B) II C) III D) IV E) V

- 2) I. Muson iklimi bölgesi
II. Ovalık bölge
III. Fiyortlu kıyı bölgesi
IV. Deprem bölgesi

Türkiye'de, yukarıdaki bölge türlerinden hangileri yoktur?

- A) I ve II B) I ve III C) I ve IV
D) II ve III E) III ve IV

- 3) I. Menteşe
II. Konya
III. Hakkâri
IV. Çukurova

Yukarıdaki yörelerden hangilerinin belirlenmesinde dağlar etkili olmuştur?

- A) I ve II B) I ve III C) I ve IV
D) II ve III E) III ve IV

4) Nüfus özellikleri göz önünde bulundurulduğunda, aşağıdaki yerlerin hangisi sık nüfuslu bölgeler arasında yer almaz?

- A) Çukurova
B) Ege kıyıları
C) Ankara ve çevresi
D) Gaziantep çevresi
E) Gelibolu Yarımadası

5)



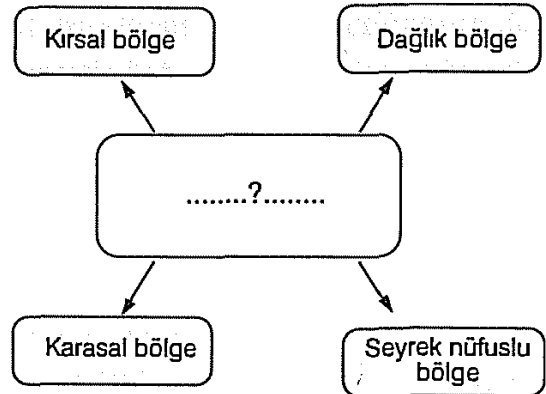
Haritada taralı olarak gösterilen alanlar, bölge sınıflandırmasında aşağıdaki ölçütlerden hangisi kullanılırsa aynı bölge türü içinde yer alır?

- A) İklim özellikleri
B) Yer şekilleri eğimi
C) Nüfus yoğunluğu
D) Doğal bitki örtüsü
E) Denize göre konum

6) Aşağıdaki bölge türlerinden hangisinin sınırı, kesin hatlarla birbirinden ayrılabilir?

- A) İç Anadolu Bölgesi
B) Kıyı Ege turizm bölgesi
C) Akdeniz orman bölgesi
D) Fırat Nehri su toplama bölgesi
E) Batı Anadolu I. derece deprem bölgesi

7)



Yukarıdaki şemada soru işareti olan bölüme, aşağıdaki yerlerden hangisinin yazılması daha uygundur?

- A) Çukurova B) Hakkâri Yöresi
C) Menteşe Yöresi D) Tuz Gölü çevresi
E) Samsun ve Ordu çevresi



8) Türkiye'de yoğun nüfuslu bölgeler ile aşağıdakilerden hangisinin dağılışı **daha çok** paralellik gösterir?

- A) Turizm bölgelerinin
B) Sanayi bölgelerinin
C) Orman bölgelerinin
D) Karasal iklim bölgelerinin
E) Dağlık ve engebeli bölgelerinin

- 9) I. Konum
II. Turizm
III. Yer şekilleri
IV. Ticaret

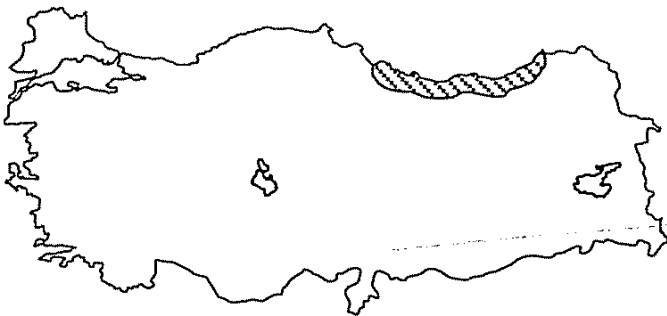
Yukarıdakilerden hangileri, coğrafi bölgeleri oluşturan doğal faktörler arasında **gösterilemez**?

- A) I ve II B) I ve III C) II ve III
D) II ve IV E) III ve IV

10) Aşağıdaki illerden hangisi, hem turizm hem de tarım bölgesi içinde yer alır?

- A) Rize B) Kocaeli C) Muş
D) Antalya E) Zonguldak

11)



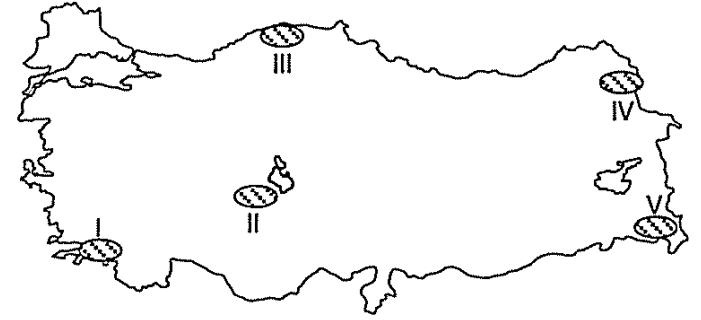
Haritada taranarak gösterilen alanla ilgili, aşağıdaki bölge isimlendirmelerinden hangisi **yanlıştır**?

- A) Dağlık bölge
B) Tarım bölgesi
C) Sanayi bölgesi
D) Orman bölgesi
E) Karadeniz iklimi bölgesi

12) Türkiye'de aşağıdaki bölge tiplerinden hangisinin yayılış alanı **daha çok** kıyılarda yer almaktadır?

- A) Tarım bölgesi
B) Bozkır bölgesi
C) Orman bölgesi
D) Maden bölgesi
E) Deprem bölgesi

13)



Haritada taranarak numaralandırılan alanların hangisi, turizm bölgesi nitelendirmesine **daha çok** uygunluk gösterir?

- A) I B) II C) III D) IV E) V

- 14) I. Adana
II. Giresun
III. Bursa
IV. Kocaeli

Yukarıdaki illerin hangileri, ekonomik özelliklere göre oluşturulan bölge sınıflandırmalarında, hem tarım bölgesi içinde hem de sanayi bölgesi içinde yer alırlar?

- A) I ve II B) I ve III C) II ve III
D) II ve IV E) III ve IV

15) Aşağıdakilerden hangisi, Türkiye'deki maki bitki örtüsü bölgelerinin genel özelliklerinden biridir?

- A) Yüzey şekillerinin sade olması
B) Yazların sıcak ve kurak geçmesi
C) Kış yağışlarının kar şeklinde olması
D) Yağışın mevsimlere düzenli dağılması
E) Kahverengi bozkır topraklarının yaygın olması

