

1) I. Şehirler ilk defa günümüzden yaklaşık 5 - 6 bin yıl önce Orta Doğu ve yakın çevresinde ortaya çıkmıştır.

II. Sanayi inkişabıyla birlikte şehirleşme süreci hızlanmıştır.

III. İlk şehirlerin ortaya çıkmasında köy yerleşmelerindeki tarım arazilerinin yeterli gelmemesi etkili olmuştur.

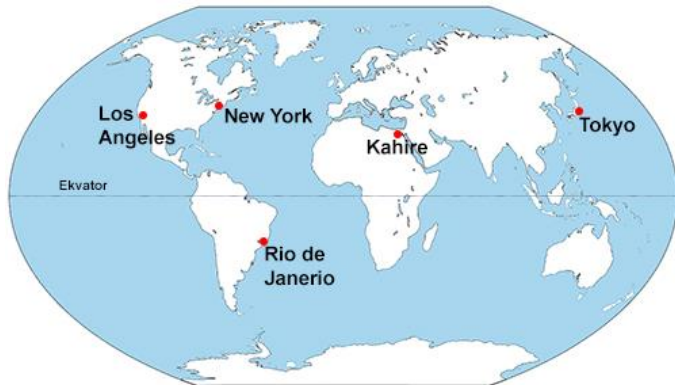
IV. Günümüzde dini fonksiyonu ön plana çıkan şehirler daha fazla gelişme göstermiştir.

Yukarıdaki şehirleşme ile ilgili verilen bilgilerden hangileri doğrudur?

- A) I ve II B) I ve III C) II ve III
D) II ve IV E) III ve IV

2) Dünya'daki büyük şehirlerin dağılışı incelendiğinde, aşağıdaki özelliklerden hangisine sahip oldukları söylenemez?

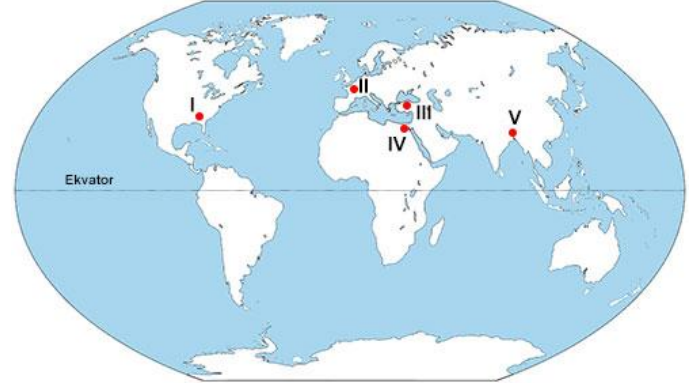
- A) Ekvator'a yakın oldukları
B) Genellikle orta kuşakta buldukları
C) Gelişmiş ulaşım ağlarına sahip oldukları
D) Sanayi faaliyetlerinin merkezi durumunda oldukları
E) Denize kıyısı olanların hinterlandlarının geniş oldukları



3) Haritada gösterilen şehirlerin ortak özelliği aşağıdakilerden hangisidir?

- A) Akdeniz ikliminin hüküm sürmesi
B) Kuzey Yarım Küre'de yer almaları
C) Kalkınma hızlarının yüksek olması
D) Nüfus artış hızlarının yüksek olması
E) Nüfuslarının on milyondan fazla olması

4)



Haritada numaralandırılarak gösterilen şehirlerden hangisi diğerlerine göre daha sonra kurulmuştur?

- A) I B) II C) III D) IV E) V

5) Aşağıdakilerden hangisi, bir şehrin etki alanını sınırlandıran etmenlerden biridir?

- A) Nüfus miktarının fazla olması
B) Sanayi faaliyetlerinin gelişmiş olması
C) Ulaşım olanaklarının gelişmemiş olması
D) Yer üstü ve yer altı kaynakları bakımından zengin olması
E) Sanayi ve hizmet sektöründe çalışan nüfusun fazla olması

6) Avrupa'nın en büyük sanayi bölgelerinden biri olan Ruhr Bölgesi'nde yer almaktadır. 18. yüzyılda küçük bir şehir iken, geniş kömür havzalarına bağlı olarak hızla gelişmiştir.

Yukarıda özellikleri verilen şehir aşağıdakilerden hangisidir?

- A) Marsilya B) Essen C) Paris
D) Atina E) Viyana

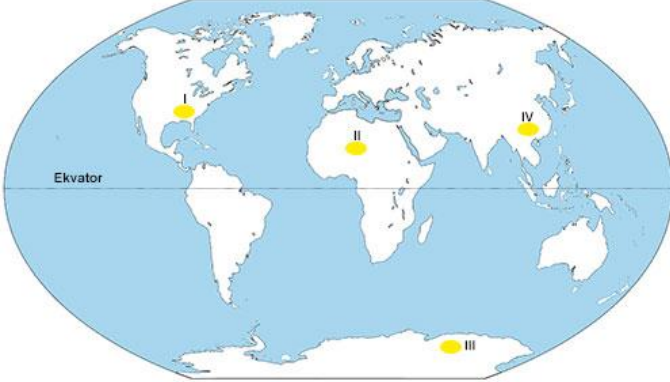
- 7) I. Paris
II. Oxford
III. Şam
IV. Marsilya

Yukarıdaki şehirlerden hangilerinin gelişmesinde idari merkez olmaları etkili olmuştur?

- A) I ve II B) I ve III C) II ve III
D) II ve IV E) III ve I



8)



Haritada taranarak numaralandırılan bölgelerin hangisinde, şehirlerin büyüüp gelişmesi için gerekli olan koşulların bulunduğu söylenemez?

- A) I ve II B) I ve III C) II ve III
D) II ve IV E) III ve IV

9) Aşağıdaki şehirlerden hangisinin nüfusu yıl içinde daha fazla değişiklik gösterir?

- A) Şam B) Ankara C) Mekke
D) Essen E) Marsilya

10) Aşağıdakilerden hangisi, Tokyo şehrinin özelliklerinden biri değildir?

- A) Sanayi, ticaret ve kültür merkezi konumundadır.
B) 35 milyon nüfusuyla Dünya'nın en büyük şehridir.
C) Maden kömürü, demir cevheri ve petrol yatakları bakımından zengindir.
D) Büyüüp gelişmesinde ulaşım olanaklarının gelişmiş olmasının önemli payı vardır.
E) 1923 yılındaki depremde ve II Dünya Savaşı'nda büyük yıkımlara uğramasına karşılık, 1950'li yıllarda hızla büyüyerek bugünkü seviyesine ulaşmıştır.

11) Dünya'daki önemli şehirlerin pek çoğu orta kuşakta yer almaktadır.

Bu durum üzerinde, aşağıdakilerden hangisi daha etkili olmuştur?

- A) Verimli toprakların bulunması
B) Yer şekillerinin engebesiz olması
C) Elverişli iklim koşullarının yaşanması
D) Zengin doğal kaynakların bulunması
E) Okyanus ve denizlerin geniş yer kaplaması

12) New York şehrinin Dünya üzerindeki etki alanı Sudan'ın başkenti Hartum şehriden fazladır. Bu durum, New York ve Hartum şehirlerinin aşağıdakilerden hangisi yönüyle farklı olmalarının bir sonucudur?

- A) Yüz ölçümleri
B) Buldukları kıtalar
C) Ortalama yükseltileri
D) Fonksiyonel özellikleri
E) Yıllık ortalama yağış miktarları

13) Aşağıdaki şehirlerden hangisinin gelişmesinde sanayi fonksiyonu ön plana çıkmıştır?

- A) Essen B) Şam C) Marsilya
D) Mekke E) Vatikan

14) Bir yerleşim merkezinin kent sayılmasında aşağıdakilerden hangisi ölçüt olamaz?

- A) Tüketici sayısının fazla olması
B) İş bölümünün belirginleşmesi
C) Nüfusun 10 000'in üzerinde olması
D) Tarım dışı faaliyetlerin gelişmesi
E) Geniş bir alana yayılmış olması

15) Bir kentin fonksiyonel özellikleri ne kadar çeşitli ve gelişmişse küresel çapta etkilediği alan da o kadar geniş olmaktadır.

Buna göre, aşağıdaki kentlerden hangisinin küresel çapta etki alanının diğerlerinden daha dar olması beklenir?

- A) Berlin B) Londra C) Paris
D) Moskova E) Prag

