

1.



Yukarıda çıkarıldığı alanlar gösterilen maden aşağıdakilerden hangisidir?

- A) Manganez
- B) Volfram
- C) Boksit
- D) Krom
- E) Bor

2. Bir madenin ekonomik değerinin yüksek olması,

I. madenin tenörünün yüksek olmasına,

II. kullanım alanının geniş olması,

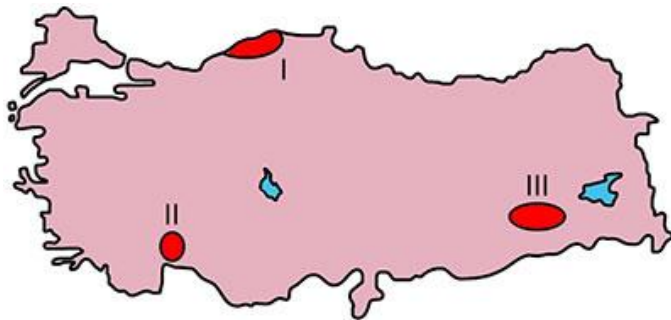
III. rezervinin fazla olması,

IV. enerji kaynağı olması

etmenlerinden hangisine daha az bağlıdır?

- A) Yalnız I
- B) Yalnız IV
- C) I ve II
- D) I ve III
- E) II ve III

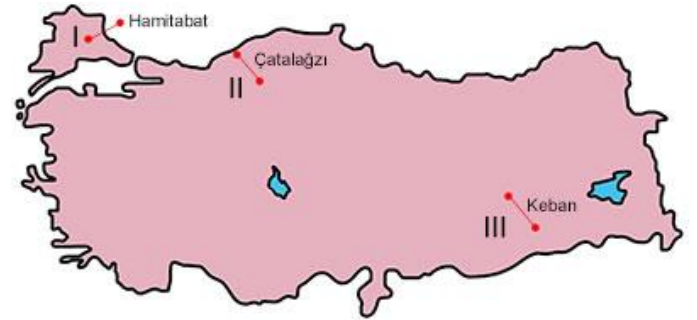
3.



Yukarıda çıkarıldığı alanlar gösterilen madenler aşağıdakilerden hangisinde verilmiştir?

- | | | |
|---------------|-----------|--------|
| I | II | III |
| A) Taşkömürü | Boksit | Petrol |
| B) Doğal gaz | Krom | Fosfat |
| C) Taş kömürü | Alüminyum | Bor |
| D) Linyit | Volfram | Demir |
| E) Demir | Bakır | Krom |

4.



Yukarıda enerji üretim santralleri verilmiştir.

Bu yerlerde kullanılan enerji kaynakları aşağıdakilerden hangisinde verilmiştir?

- | | | |
|---------------|------------|-----------|
| I | II | III |
| A) Petrol | Taş kömürü | Su gücü |
| B) Doğal gaz | Taş kömürü | Su gücü |
| C) Taş kömürü | Petrol | Su gücü |
| D) Su gücü | Linyit | Doğal gaz |
| E) Su gücü | Linyit | Petrol |

5. Aşağıda verilen yörelerin hangisinde güneş enerjisine bağlı santral kurulması daha ekonomik olur?

- A) Rize
- B) İstanbul
- C) Edime
- D) Ankara
- E) Şanlıurfa

6.



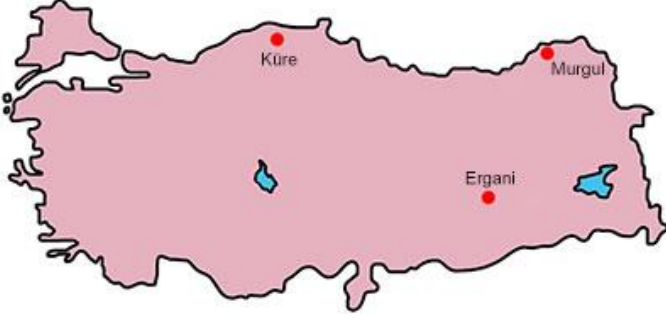
Yukarıda demir, bor, petrol ve kromun çıkarıldığı ve işlendiği yerler gösterilmiştir.

Bunlardan hangisi yanlış verilmiştir?

- A) I
- B) II
- C) III
- D) IV
- E) V



7.



Yukarıda çıkartıldığı önemli maden yatakları gösterilen yeraltı zenginliğimiz aşağıdakilerden hangisidir?

- A) Krom B) Demir
C) Bakır D) Bor
E) Boksit

8.



Yukarıda verilen Sarayköy ve Germencik'te aşağıda verilen enerji kaynaklarından hangisi kullanılır?

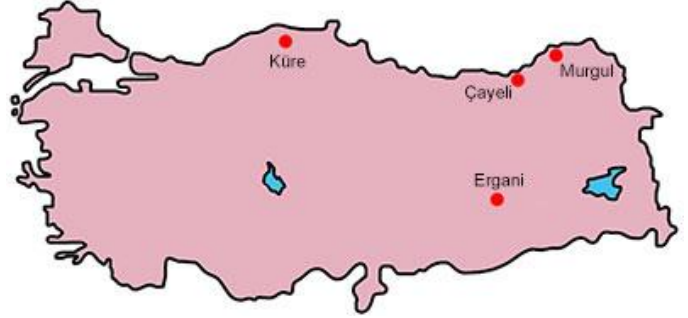
- A) Rüzgâr B) Güneş C) Jeotermal
D) Biomas E) Petrol

9. • Kolay işlenebilen ve iletkenliği yüksek bir maddedir.
• Elektrik ve elektronik sanayide kullanılır.
• Türkiye'de yaygın olarak çok eskiden beri çıkartılır.

Yukarıda özellikleri verilen maden aşağıdakilerden hangisidir?

- A) Bakır B) Krom C) Demir
D) Manganez E) Boksit

10.



Yukarıda çıkarıldığı önemli merkezleri gösterilen maden aşağıdaki yerlerin hangisinde işletilmektedir?

- A) Samsun B) Antalya C) Zonguldak
D) Kars E) Sivas

11.



Yukarıda önemli yatakları verilen madenler sırasıyla aşağıdakilerden hangisidir?

- | I | II | III |
|------------|--------|---------|
| A) Uranyum | Nikel | Volfram |
| B) Krom | Bakır | Demir |
| C) Volfram | Kükürt | Fosfat |
| D) Demir | Boksit | Krom |
| E) Demir | Bor | Bakır |

12. • Eskişehir çevresinde önemli yatakları bulunur.
• Kolay işlenebilen bir taştır.
• Süs eşyası yapımında kullanılır.

Yukarıda özellikleri verilen madde aşağıdakilerden hangisidir?

- A) Lüle taşı B) Oltu taşı
C) Mermer D) Barit
E) Zımpara taşı

