

1. Her türlü iklim ve toprak koşullarına uyumlu olmasına rağmen, Türkiye'de en az Karadeniz Bölgesi'nde yetiştirilen tarım ürünü aşağıdakilerden hangisidir?

- A) Kenevir B) Üzüm C) Mısır  
D) Tütün E) İncir

2. Aşağıdaki tarım ürünü ve bu ürünlerin en fazla yetiştirildiği bölge eşleştirmelerinden hangisi yanlıştır?

Tarım ürünü	Bölge
A) Zeytin	Ege
B) Çay	Karadeniz
C) Üzüm	Güneydoğu Anadolu
D) Buğday	İç Anadolu
E) Ayçiçeği	Marmara

3. Aşağıdaki tarım ürünlerinden hangisi, Türkiye'nin hem kıyı bölgelerinde hem de iç bölgelerinde yetiştirilir?

- A) Turunçgiller  
B) Çay  
C) Pamuk  
D) Fındık  
E) İncir

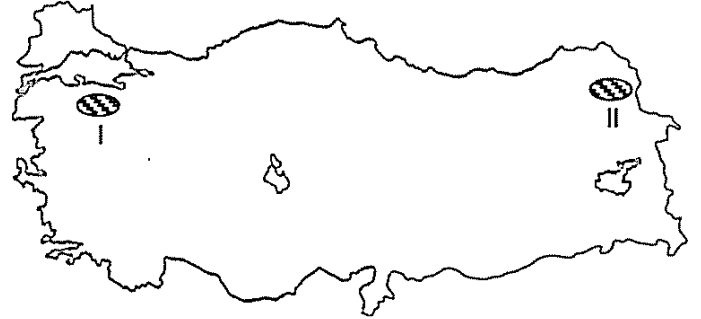
4. İklim özellikleri göz önüne alındığında, aşağıdaki illerden hangisinde zeytin yetiştirilmesi daha zordur?

- A) Muğla  
B) Balıkesir  
C) Aydın  
D) Edirne  
E) Gaziantep

5. Pamuğun, Doğu Karadeniz kıyılarında yetiştirilmemesinin temel nedeni aşağıdakilerden hangisidir?

- A) Ekili alanların az olması  
B) Kış aylarının soğuk geçmesi  
C) Yaz aylarının yağışlı geçmesi  
D) Ekonomik değerinin düşük olması  
E) Topraklardaki kireç oranının düşük olması

6.



Yukarıdaki haritada taranarak numaralandırılan alanlarda yetişen aynı tür tarım ürünlerinin farklı zamanlarda olgunlaşması, aşağıdakilerden hangisinin farklı olmasıyla açıklanabilir?

- A) Toprak türlerinin  
B) Jeolojik yapılarının  
C) Tarım yöntemlerinin  
D) Ortalama yükseltilerinin  
E) Güneş ışınlarının düşme açısının

7. Aşağıdakilerden hangisi, Türkiye'de tarım alanlarının genişlemesinde etkili olan faktörler arasında gösterilemez?

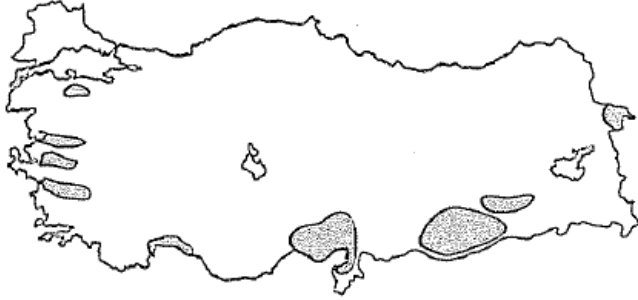
- A) Makine kullanımının artması  
B) Verimsiz alanların tekrar tarıma kazandırılması  
C) Akarsu havzalarına hidroelektrik santrallerinin kurulması  
D) Çayır ve otlak alanlarının sürülerek tarlaya dönüştürülmesi  
E) Orman alanlarının tahrip edilerek tarım alanına dönüştürülmesi



8. Aşağıdakilerden hangisi, Türkiye’de tarımda makineleşmeye geçilmesinin sonuçları arasında **gösterilemez**?

- A) Çayır ve mera alanlarının azalması
- B) Köyden kente doğru olan göçlerin artması
- C) Tarım ürünlerinin üretim miktarlarında artışlar olması
- D) Kırsal alanlarda kişi başına düşen millî gelirin daha az olması
- E) Tarımda insan ve hayvan gücüne duyulan ihtiyacın azalması

9. Aşağıdaki haritada Türkiye'deki bir tarım ürününün yoğun olarak yetiştirildiği başlıca yöreler gösterilmiştir.



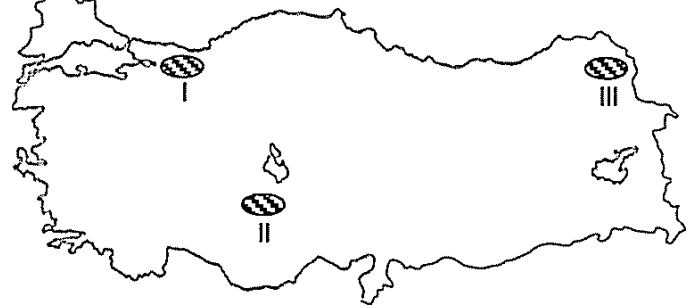
Buna göre bu tarım ürünü aşağıdakilerden hangisidir?

- A) Üzüm
- B) Pamuk
- C) Zeytin
- D) Tütün
- E) Şeker pancarı

10. Türkiye’de, toprağın verimini artırmak ve tarımı geliştirmek için aşağıdakilerden hangisi gerekli **değildir**?

- A) Tohum ıslahı
- B) Gübreleme
- C) Makineleşme
- D) Çiftçi sayısını artırma
- E) Sulama

11. Aşağıdaki haritada Türkiye’deki üç hayvan türünün yoğun olarak yetiştirildiği yöreler taranarak gösterilmiştir.



Bu hayvan türleri, aşağıdakilerden hangisinde doğru olarak verilmiştir?

- | I        | II    | III   |
|----------|-------|-------|
| A) Tavuk | Koyun | Sığır |
| B) Sığır | Tavuk | Koyun |
| C) Koyun | Sığır | Tavuk |
| D) Tavuk | Sığır | Koyun |
| E) Sığır | Koyun | Tavuk |

12. Zeytin, kış aylarının ılık ve yağışlı, yaz aylarının sıcak ve kurak geçtiği yerlerde yetişen bir bitkidir.

**Ahmet Ankara’da yaşadığına göre, zeytin yetiştiriciliği yapıp yapamayacağı hakkında ne söylenebilir, neden?**

- A) Yapamaz, çünkü Ankara’da kışlar soğuk geçer.
- B) Yapar, çünkü zeytin Türkiye’de her yerde yetişir.
- C) Yapar, çünkü zeytin istediği iklimi Ankara’da bulur.
- D) Yapamaz, çünkü Ankara’da doğal bitki örtüsü bozkırdır.
- E) Yapamaz, çünkü Ankara’da yağışlar ilkbaharda daha çok düşer.

13. Aşağıdaki yörelerin hangisinde, modern (intensif) tarım yöntemleri **daha az** kullanılır?

- A) Balıkesir
- B) Konya
- C) Ergene
- D) Nevşehir - Niğde
- E) Hakkâri

