

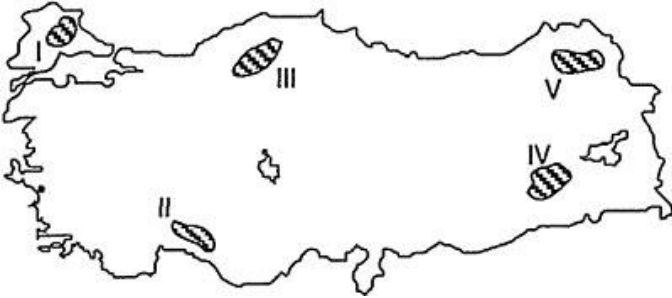
1) Aşağıdaki il çiftlerinden hangisinde traverten oluşumuna daha çok rastlanır?

- A) Antalya - Denizli
- B) İzmir - Aydın
- C) Mersin - Konya
- D) Bursa - Balıkesir
- E) Hatay - Gaziantep

2) Aşağıdakilerden hangisi, karstik aşındırma yoluyla meydana gelmemiştir?

- A) Toroslardaki lapyalar
- B) Cennet Obruğu
- C) Damlatış Mağarası
- D) Elmalı Polyesi
- E) Pamukkale travertenleri

3)



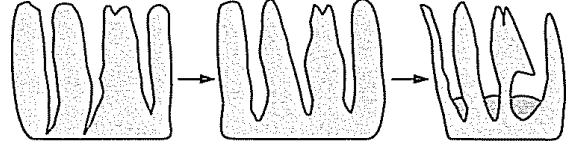
Yukarıda numaralandırılan yörelerin hangisinde, karstik şekiller yaygın olarak görülür?

- A) I B) II C) III D) IV E) V

4) Aşağıdaki karstik mağaralardan hangisi, Akdeniz Bölgesi'nin Antalya Bölümü'nde değildir?

- A) Damlatış
- B) insuyu
- C) Narlıkuyu
- D) Karain
- E) Kızılin

5) Aşağıda, karstik aşınım şekillerinden olan lapyanın gelişim süreci gösterilmiştir



Bu şeklin aşağıdaki illerimizden hangisinde bulunduğu söylenemez?

- A) Mersin B) Antalya C) Erzincan
- D) Çankırı E) Trabzon

6) Akdeniz Bölgesi'nin kıyı kesiminde, kanyon vadi tipinin diğer bölgelere göre daha fazla olması aşağıdakilerden hangisiyle açıklanabilir?

- A) Yağış miktarının fazla olmasıyla
- B) Akarsu boylarının uzun olmasıyla
- C) Dağların denize paralel uzanmasıyla
- D) Sıcaklık ortalamasının fazla olmasıyla
- E) Karstik arazinin geniş alan kaplamasıyla

7) Akdeniz Bölgesi'nin batısında karstik kökenli ovalar yaygındır. Bu alandaki çöküntü havzalarının bir kısmı sular altında kalmış ve birçok göl oluşmuştur. Bazı çöküntü havzalarında da karstik ovalar oluşmuştur.

Aşağıdakilerden hangisi, bu şekilde oluşan ovalardan değildir?

- A) Acıpayam B) Elmalı C) Tosya
- D) Korkuteli E) Kestel

8) Türkiye'de bulunan aşağıdaki obruklardan hangisi Silifke'nin doğusunda oluşmuştur?

- A) Kızılören B) Cennet
- C) Timraş D) Kuruobruk
- E) Çalideniz

9) Buzulların, rüzgârların, dalgaların ve akıntıların etkileri göz önüne alındığında, Türkiye'de aşağıdaki yer şekillerinden hangisi en az görülür?

- A) Falez B) Kıyı kumulu C) Delta
- D) Kıyı oku E) Sirk çanağı



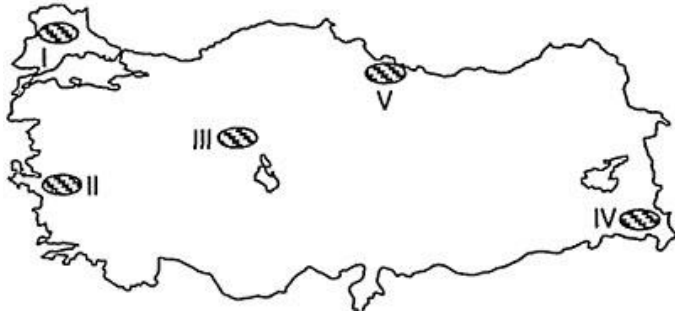
10)

- I. Moren
- II. Şahit kaya
- III. Hörgüç kaya

Türkiye’de görülen yukarıdaki yer şekillerinden hangilerinin oluşumunda buzul biriktirmesi etkili olmuştur?

- A) Yalnız I
- B) Yalnız II
- C) Yalnız III
- D) I ve II
- E) II ve III

11)



Haritada taranarak numaralandırılan alanların hangisinde, buzulların bulunduğu yüksek dağlar daha fazladır?

- A) I
- B) II
- C) III
- D) IV
- E) V

12) Aşağıdaki şekillerden hangisinin bulunmaması, Türkiye’de buzulların daha çok yüksek yerlerde etkili olduğunu gösterir?

- A) Sirk gölü
- B) Buzul vadisi
- C) Fiyort kıyı
- D) Falez
- E) Moren tepesi

13) Ülkemizin üç tarafı denizlerle çevrili olduğundan değişik kıyı tipleri vardır.

Aşağıdakilerden hangisi, bunlardan birine örnek verilemez?

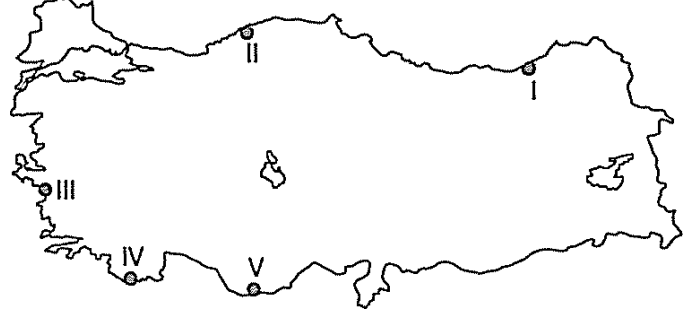
- A) Enine
- B) Boyuna
- C) Skyer
- D) Dalmaçya
- E) Limanlı

14) Aşağıdakilerden hangisi, Türkiye kıyılarında gelgit olayının etkili olması hâlinde oluşmaz?

- A) Haliç
- B) Delta
- C) Boyuna kıyı
- D) Falez
- E) Körfez

15) Kıyıdan 200 metre derinliğe kadar olan sahaya şelf alanı denir. Yüksek kıyılarda şelf alanı dar, alçak kıyılarda şelf alanı geniştir.

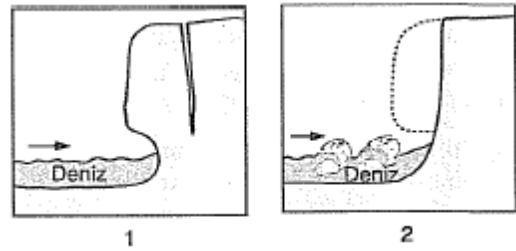
Aşağıdaki Türkiye haritasında kıyıda yer alan beş yöre verilmiştir.



Buna göre, bu yörelerden hangisinin kıyılarında şelf alanının daha geniş olduğu söylenebilir?

- A) I
- B) II
- C) III
- D) IV
- E) V

16) Aşağıdaki şekillerde, dalgaların dik kıyılan aşındırması sonucu oluşan kıyı şekli gösterilmiştir.



Bu tür şekiller, aşağıda verilen illerin hangisinin kıyılarında yaygın olarak görülür?

- A) İzmir
- B) Balıkesir
- C) Giresun
- D) İstanbul
- E) Aydın

