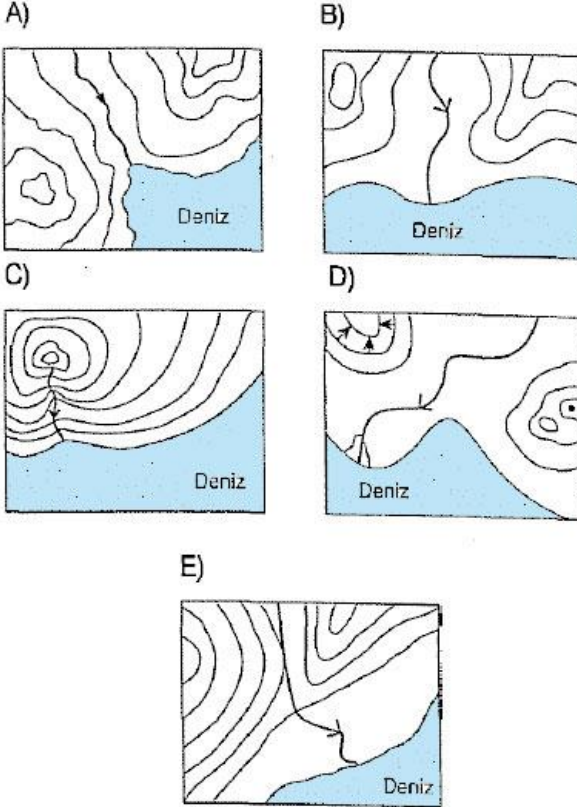


1) Akıntıların oluşumunda aşağıdakilerden hangisinin etkisi yoktur?

- A) Seviye farkı
- B) Gelgit
- C) Rüzgârlar
- D) Derinlik farkı
- E) Yoğunluk farkı

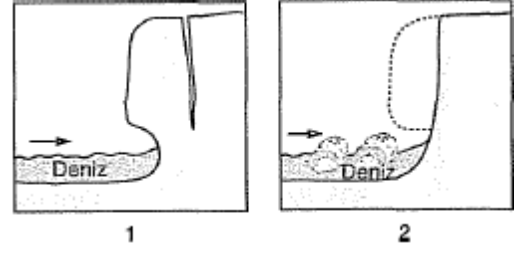
2) Aşağıda izohips haritalarıyla gösterilen kıyılardan hangisinde dalga aşındırması, dalga biriktirmesinden fazladır?



3) Bir kıyıda falezlerin yaygın olarak görülmesi, öncelikle aşağıdakilerden hangisine bağlanabilir?

- A) Gelgit genişliğinin fazla olmasına
- B) Kıta sahanlığının geniş olmasına
- C) Koy ve körfez sayısının fazla olmasına
- D) Dağların kıyıya yakın ve paralel uzanmasına
- E) Kıyı gerisindeki dağların karstik arazilerden oluşmasına

4)



Yukarıda oluşum aşamaları gösterilen kıyı şekli aşağıdakilerden hangisidir?

- A) Falez
- B) Kıyı oku
- C) Lagün
- D) Tombolo
- E) Plaj

5)

- I. Tombolo
- II. Plaj
- III. Falez
- IV. Haliç

Yukarıdaki yer şekillerinden hangileri, dalga biriktirmesi sonucunda oluşmuştur?

- A) I ve II
- B) I ve III
- C) II ve III
- D) II ve IV
- E) III ve IV

6) Falezlerin, deniz boyunca uzanan dağların olduğu yüksek kıyılarda çok görülmesi, aşağıdakilerden hangisiyle açıklanamaz?

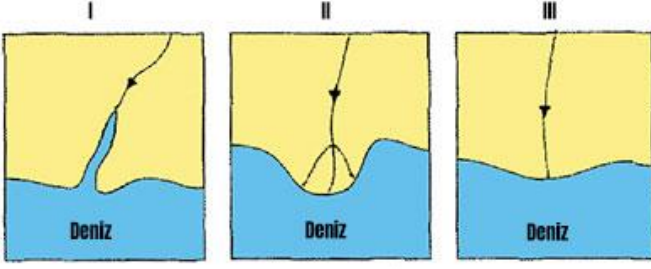
- A) Gelgit genişliğinin az olmasıyla
- B) Kıta sahanlığının dar olmasıyla
- C) Koy ve körfezlerin az olmasıyla
- D) Dalga aşındırmasının fazla olmasıyla
- E) Dağların kıyıya yakın ve paralel olmasıyla

7) Aşağıdaki yeryüzü şekillerinden hangisi, dalga ve akıntıların etkisiyle oluşmamıştır?

- A) Kıyı oku
- B) Tombolo
- C) Falez
- D) Şahit kaya
- E) Lagün



8)



Yukarıda haritaları verilen bölgelerden hangilerinin kıyı kesiminde, gelgit genliği fazla ve akıntılarının etkisi **güçlüdür**?

- A) Yalnız I B) Yalnız II C) Yalnız III
D) I ve II E) II ve III

9) Ay'ın ve Güneş'in çekim gücü etkisiyle okyanuslarda görülen alçalma ve yükselme hareketlerine gelgit denilmektedir.

Buna göre, aşağıdakilerden hangisi gelgit olayının **fazla etkili** olduğu kıyılarda görülecek bir durumdur?

- A) Haliçlerin oluşması
B) Kıyı kirlenmesinin artması
C) Kıyı set göllerinin oluşması
D) Akarsu ağızlarında delta oluşması
E) Akarsu vadilerinin önlerinin kapanması

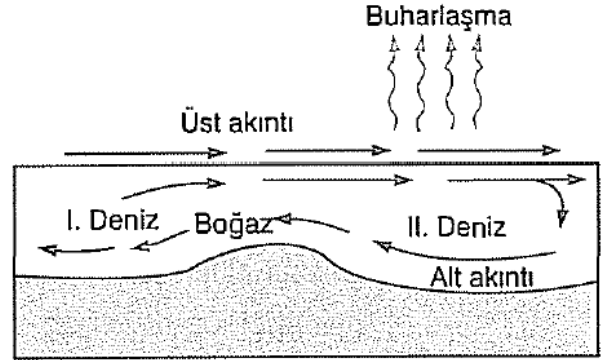
10) Yükseltisi az olan bir kıyıda, aşağıdaki kıyı şekillerinden hangisi **daha az** oluşur?

- A) Lagün
B) Kumsal
C) Falez
D) Tombolo
E) Kıyı kordonu

11) Mısır, İtalya ve Türkiye gibi ülkelerde, gelgit genliğinin **az olduğunun kanıtı** olarak, aşağıdakilerden hangisi gösterilebilir?

- A) Delta ovalarının bulunması
B) Yükseltisi az kıyıların bulunması
C) Turizm olanaklarının fazla olması
D) Akarsu rejimlerinin düzensiz olması
E) Yer altı sularının oluşturduğu şekillerin olması

12) Aşağıdaki şekilde, iki deniz arasında yer alan boğazda akıntılarının yönü gösterilmiştir.



Akıntılarını etkileyen faktörler düşünüldüğünde, şekildeki yer için aşağıdaki yargılardan hangisi **söylenebilir**?

- A) II. denizdeki su kaybı daha azdır.
B) I. denizdeki tuz oranı daha fazladır.
C) I. denizin beslenme kaynakları daha azdır.
D) II. denizden I. denize doğru üst akıntı olmaktadır.
E) Her iki deniz suyu arasında yoğunluk farkı vardır.

13) Kıyı oku ve tombolo, kıta sahanlığının genişlediği kıyılarda, dalga ve akıntılarının getirdiği malzemelerin birikmesiyle oluşan yer şekilleridir. Buna göre, kıyı oku ve tombolonun oluşumunda aşağıdakilerden hangisi **önemli** bir etkidir?

- A) Kıyının sığ olması
B) Kıyı uzunluğunun az olması
C) Gelgit genliğinin fazla olması
D) Sıradağların kıyıya yakın ve paralel olması
E) Kıyı gerisindeki dağların yükseltisinin fazla olması

14) Aşağıdakilerden hangisi, denizlerdeki dalgaların oluşmasına neden olan etkenlerden biri **değildir**?

- A) Rüzgârlar
B) Volkanizma
C) Epirojenez olayı
D) Deniz altı heyelanı
E) Dünya'nın Güneş çevresinde dönmesi

15) Kıyılarda oluşan dalga birikim şekilleri arasında, aşağıdakilerden hangisi **gösterilemez**?

- A) Kıyı oku B) Lagün C) Kumsal
D) Tombolo E) Yalıyar

