

Türkiye'de baraj göllerinin akarsular tarafından alüvyonlarla doldurulma süresi ortalama 100 - 200 yıl iken bu süre Avrupa ülkelerinde 300 - 400 yıldır.

1) Bu durum, Türkiye'nin hangi özelliğinin bir sonucudur?

- A) Barajların derinliğinin az olması
- B) Akarsu boylarının kısa olması
- C) Tarımsal sulamada barajlardan çok fazla su kullanılması
- D) Baraj havzalarında erozyonun şiddetli olması
- E) İklim koşullarının yarı kurak olması

Aşağıda Türkiye'de görülen bazı toprak türleri, üzerinde yetişen bitki örtüsü ve yürütülen hayvancılık faaliyeti ile ilgili eşleştirme yapılmıştır.

Terra rossa toprak	Maki ve çalılar	Kıl keçisi yetiştiriciliği
Kahverengi bozkır toprakları	Çayır	Büyükbaş hayvancılık
Kahverengi orman toprakları	Orman ve çiçekli bitkiler	Arıcılık
Çernezyom	Orman	Küçükbaş hayvancılık

2) Yapılan eşleştirmelerden hangileri yanlıştır?

- A) I ve II
- B) I ve III
- C) II ve III
- D) II ve IV
- E) III ve IV

Çernezyomlar bitki besin maddeleri bakımından zengin olmasına karşılık, tarım için uygun değildir. Çünkü ...

3) Paragrafın sonuna aşağıda verilenlerden hangisi getirilmelidir?

- A) ... buldukları yerde yaz ayları kısa, serin ve yağışlı geçmektedir.
- B) ... buldukları yerde yer şekilleri oldukça engebelidir.
- C) ... buldukları yerde tarımsal faaliyetlere gerektiği kadar önem verilmemektedir.
- D) ... buldukları yerde yaz mevsimi oldukça sıcak ve kurak geçmektedir.
- E) ... buldukları yerde sanayi faaliyetlerine daha fazla önem verilmektedir.



4) Haritada taranarak gösterilen yörelerde görülen toprak tipi ile ilgili olarak aşağıda verilenlerden hangisi yanlıştır?

- A) Toprak katmanları gelişmemiştir.
- B) Tarımsal faaliyetlerin yoğun olarak yapıldığı yerlerdir.
- C) Toprağa dayalı sanayi kollarının ham maddesini oluşturur
- D) Organik ve inorganik maddelerce zengin topraklardır.
- E) Toprağın kalınlığı sürekli olarak artmaktadır.

I. İç bölge topraklarının büyük çoğunluğunun üzerinde tahıl tarımı yapılır.

II. Arazi yapısı dağlık ve engebeli olduğu için toprak erozyonu şiddetlidir.

III. Kahverengi bozkır toprakları iklim koşullarından dolayı kuzey kıyılarımızda yaygındır.

IV. Deniz kıyısında oluşmuş alüvyal toprakların tamamında pamuk tarımı yapılır.

5) Yukarıda Türkiye toprakları ve toprak kullanımıyla ilgili verilen bilgilerden hangileri yanlıştır?

- A) I ve II
- B) I ve III
- C) II ve III
- D) II ve IV
- E) III ve IV

I. Ağaçlandırma yapılması

II. Meraların ıslah edilmesi

III. Toprağın aşırı işlenmesi

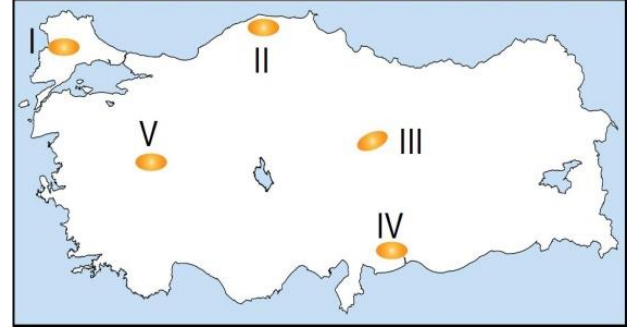
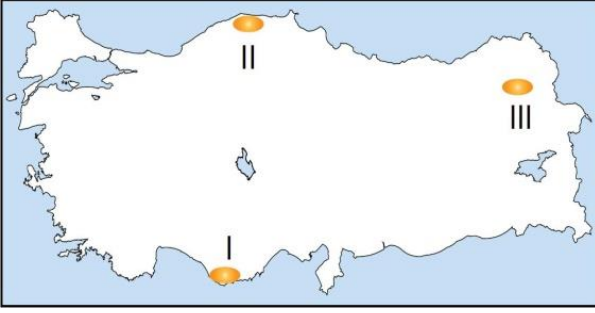
IV. Nöbetleşe ekim yönteminin uygulanması

V. Tarım alanlarının eğime paralel sürülmesi

6) Yukarıdakilerden hangisi erozyondan korunma yöntemleri içerisinde olumsuz bir uygulamadır?

- A) I ve II
- B) II ve IV
- C) III ve IV
- D) III ve V
- E) II, IV ve V





7) Haritada numaralandırılarak verilen alanlarda görülebilecek toprak çeşitleri aşağıdakilerden hangisinde verilmiştir?

- | I | II | III |
|----------------|------------------|-------------|
| A) Çernezyom | Kahverengi step | Alüvyal |
| B) Alüvyal | Çernezyom | Kolüvyal |
| C) Terra rossa | Kahverengi orman | Çernezyom |
| D) Vertisoller | Alüvyal | Rendzinalar |
| E) Terra rossa | Litosoller | Çernezyom |

10) Yukarıdaki haritada numaralandırılarak verilen alanların hangisinde kahverengi ve kestane renkli bozkır topraklara rastlanmaz?

- A) I B) II C) III D) IV E) V

Fiziksel ve kimyasal ayrışmayla ana kaya üzerinde oluşan, içerisinde birçok organik maddenin bulunduğu toprak örtüsünden çeşitli şekillerde yararlanır.

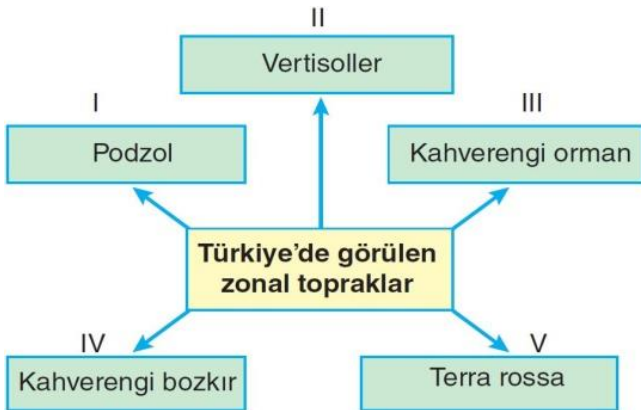
11) Aşağıdakilerden hangisi topraktan yararlanma şekillerinden biri değildir?

- A) Hayvancılık faaliyetleri
B) Seramik ve fayans üretimi
C) Tarımsal faaliyetler
D) Enerji üretimi
E) Ormancılık faaliyetleri

Kestane renkli bozkır toprakları, yıllık yağışın 1000 milimetrenin üzerinde olduğu yerlerde (I), kısa boylu otlar, meşe ormanları ve çalılar altında oluşan topraklardır (II). Bunlar İç Anadolu, Doğu Anadolu ve İç Batı Anadolu'da ve Göller Yöresi'nde yaygındır (III). Toprakta yeteri kadar organik madde bulunmamaktadır (IV). Bu toprakların bir kısmında tarım yapılmakla birlikte önemli bir kısmı ise otlak olarak değerlendirilmektedir (V).

8) Yukarıda kestane renkli bozkır topraklarıyla ilgili olarak verilen yargılardan kaç tanesi yanlıştır?

- A) I B) II C) III D) IV E) V



9) Yukarıdaki kavram haritasında kaç numaralı eşleştirmede yanlışlık yapılmıştır?

- A) I B) II C) III D) IV E) V

Kumlu-tüflü topraklar; volkanik kum, kül (volkanik tüfler) ile volkanik kökenli olmayan kumlar üzerinde oluşmuşlardır. Organik madde, kireç ve kil bakımından fakir olan bu topraklar çok geçirimlidir. Su tutma kapasiteleri çok düşük olan bu topraklar, Türkiye'de çoğunlukla volkanik anakaya üzerinde oluşmuştur.

12) Buna göre, kumlu-tüflü toprakların görülebileceği yerlere örnek olarak aşağıdaki yerlerden hangisi verilebilir?

- A) Amasra B) Çukurova
C) Hakkâri D) Avanos
E) Ilgaz Dağları

13) Aşağıdaki toprak türlerinden hangisi Türkiye'de daha yaygındır?

- A) Tuzlu topraklar B) Kahverengi orman
C) Çernezyom D) Rendzinalar
E) Kahverengi step

