

1) Türkiye'de taş kömürü, petrol ve linyit gibi farklı enerji kaynaklarına rastlanması aşağıdakilerden hangisine kanıttır?

- A) Arazi yapısının farklı jeolojik dönemlerde oluştuğuna
- B) Ortalama yükseltinin batıdan doğuya arttığına
- C) İklim çeşitliliğinin fazla olduğuna
- D) Yer şekillerinin dağlık ve engebeli olduğuna
- E) Depremlerin etkili olduğuna

2) Aşağıda verilen ovalardan hangisi Doğu Anadolu'da yer almaz?

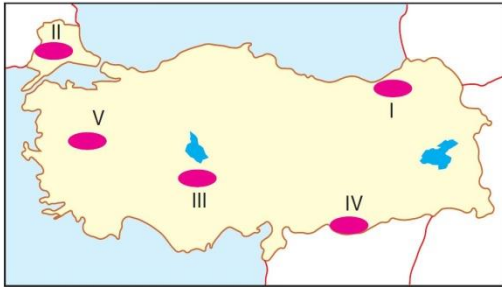
- A) Pasinler Ovası
- B) Tercan Ovası
- C) Altınbaşak Ovası
- D) Iğdır Ovası
- E) Malatya Ovası

Dalga ve akıntıların oluşturduğu kıyı oklarının koy ve küçük körfezlerin önünü kapatmasıyla lagünler (kıyı set gölü) oluşur.

3) Buna göre, aşağıdakilerden hangisi Türkiye'de oluşmuş lagünlere bir örnektir?

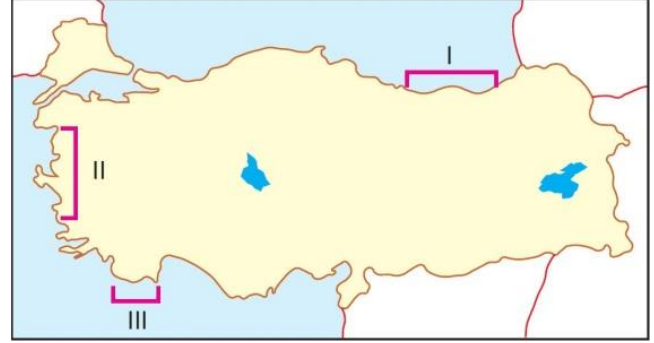
- A) Sapanca Gölü
- B) Tuz Gölü
- C) Mogan Gölü
- D) Tortum Gölü
- E) Küçük Çekmece Gölü

Heyelan sonucu yer değiştiren toprak ve kaya bloklarının akarsu vadisinin önünü kapatmasıyla heyelan set gölleri oluşur.



4) Buna göre, heyelan olayının Türkiye'de oluşumu ve bölgelere dağılışı düşünüldüğünde haritada gösterilen alanlardan hangisinde heyelan set gölleri fazladır?

- A) I
- B) II
- C) III
- D) IV
- E) V



5) Yukarıdaki haritada numaralandırılmış kıyılarda sırasıyla hangi kıyı tipleri görülür?

- | I | II | III |
|-------------|----------|----------|
| A) Enine | Boyuna | Ria |
| B) Boyuna | Enine | Dalmaçya |
| C) Ria | Dalmaçya | Enine |
| D) Boyuna | Ria | Dalmaçya |
| E) Dalmaçya | Enine | Ria |

6) Aşağıdaki dağlardan hangisinde IV. jeolojik zamanda meydana gelen buzullaşma sonucu oluşmuş yer şekillerine rastlanmaz?

- A) Kaçkar Dağları
- B) Sultan Dağları
- C) Bolkar Dağları
- D) Bozdağlar
- E) Buzul Dağları

7) "Türkiye arazisi yakın bir jeolojik zamanda oluşmuştur. Bundan dolayı akarsu aşındırma şekillerinden Türkiye'de pek rastlanmaz." diyen bir kişinin cümlesinde boş bırakılan yere aşağıdaki yer şekillerinden hangisinin yazılması doğru olur?

- A) Çentik vadiye
- B) Kanyon vadiye
- C) Dev kazanına
- D) Peneplene
- E) Boğaz vadiye

8) Türkiye arazisinin şekillenmesi ve bugünkü görünümünü kazanmasında buzulların etkisi oldukça azdır.

Bu durum, Türkiye'nin;

I. Alanının küçük olması

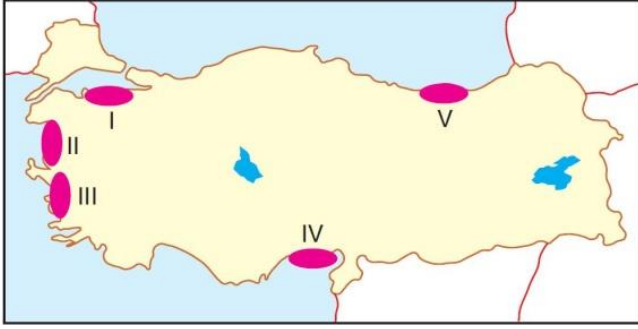
II. Orta kuşakta yer alması

III. Akarsu havzalarının dar olması

özelliklerinden hangisiyle açıklanabilir?

- A) Yalnız I
- B) Yalnız II
- C) Yalnız III
- D) I ve II
- E) II ve III



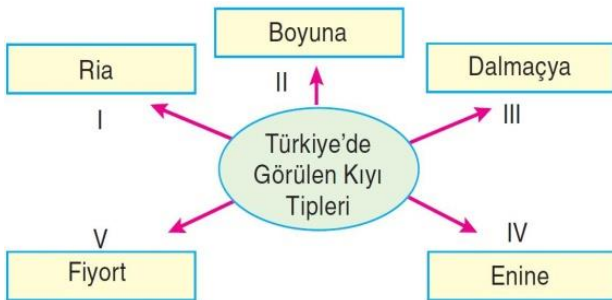


9) Buna göre, yukarıdaki haritada gösterilen kıyılardan hangisinde falez oluşumuna daha çok rastlanır?

- A) I B) II C) III D) IV E) V

10) Türkiye'deki plato alanlarıyla ilgili aşağıda verilen bilgilerden hangisi yanlıştır?

- A) Platoların en geniş yer kapladığı bölge İç Anadolu'dur.
B) Akarsular tarafından derince aşındırılmış yüksek düzlüklerdir.
C) Ardahan Platosu lav düzlüğü platosudur.
D) Nüfuslanma ve yerleşmeye en uygun Çatalca – Kocaeli platosudur.
E) Cihanbeyli platosunda karstik şekiller yaygındır.



11) Yukarıdaki kavram haritasında yapılan eşleştirmelerden hangisi yanlıştır?

- A) I B) II C) III D) IV E) V

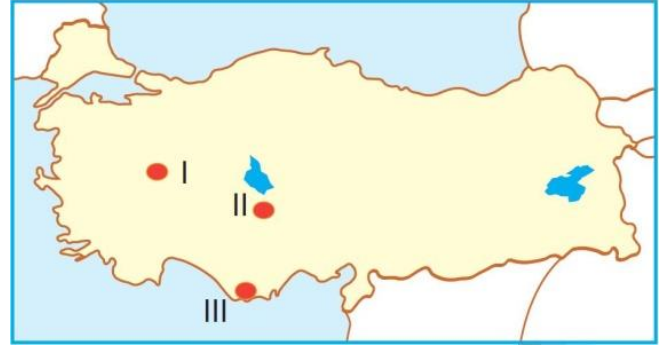
12) Türkiye'de kıyı şekillenmesi üzerinde;

- I. Buzullar
II. Gel - git
III. Dalga
IV. Akıntı

gibi dış kuvvetlerden hangileri etkili olmamıştır?

- A) I ve II B) I ve III C) II ve III
D) II ve IV E) III ve IV

Aşağıdaki haritada Türkiye'nin plato alanlarından bazıları gösterilmiştir.



13) Bu platolar, aşağıdakilerden hangisinde doğru verilmiştir?

- | I | II | III |
|---------------|------------|-----------|
| A) Haymana | Obruk | Teke |
| B) Yazılıkaya | Cihanbeyli | Taşeli |
| C) Ardahan | Taşeli | Obruk |
| D) Yazılıkaya | Obruk | Taşeli |
| E) Bozok | Haymana | Uzunyayla |

Türkiye arazisinin şekillenmesinde en az etkiye sahip dış kuvvet buzullardır. Buzullar IV. jeolojik zaman içerisinde iklim değişimlerinden dolayı 2000 m ve üzerindeki yüksek yerlerde küçük çaplı aşındırma ve biriktirme şekilleri oluşturmuştur.

14) Türkiye'nin aşağıda verilen özelliklerinden hangisi buzul etkisinin az olmasına yol açmıştır?

- A) Bir yarımada olması
B) Orta kuşağın güneyinde yer alması
C) İklim çeşitliliğinin fazla olması
D) Oluşumunu farklı jeolojik zamanlarda tamamlaması
E) İç ve Doğu Anadolu'da volkanizmanın etkili olması

- I. İnsuyu Mağarası
II. Peri bacaları
III. Cennet - Cehennem Obruqları
IV. Meke Tuzlası

15) Yukarıdaki yer şekillerinden hangisi ya da hangileri Türkiye'deki karstik oluşumlara örnek değildir?

- A) Yalnız II B) I ve II C) II ve III
D) II ve IV E) I, II ve IV

