



1- Ülkemizde birçok toprak çeşidinin görülmesinde;

- I. Farklı iklimlerin görülmesi
- II. Depremlerin sıkça görülmesi
- III. Yeryüzü şekillerinin farklılaşması
- IV. Farklı kayaç türlerinin bulunması

gibi faktörlerden hangileri etkili olmamıştır?

- A) Yalnız I
- B) Yalnız II
- C) I ve III
- D) II ve IV
- E) III ve IV

2- Ülkemizin mutlak ve göreceli konum özellikleri dikkate alındığında, aşağıdaki toprak tiplerinden hangisinin ülkemizde görülmesi beklenmez?

- A) Alüvyal
- B) Litosol
- C) Tundra
- D) Çernozyom
- E) Terra-rossa

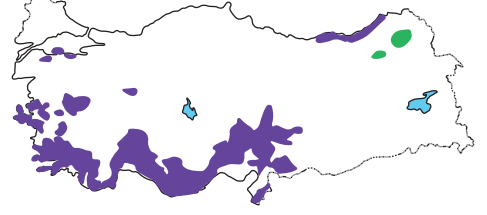
Aşağıdaki Türkiye haritasında belirli bir alan taranarak gösterilmiştir.



3- Haritada taranarak gösterilen alanda aşağıdaki toprak tiplerinden hangisine rastlanmaz?

- A) Alüvyal
- B) Kolüvyal
- C) Rendzina
- D) Vertisol
- E) Çernozyom

Aşağıdaki Türkiye haritasında iki farklı toprak tipinin görüldüğü alanlar gösterilmiştir.



4- Haritada farklı renklerle gösterilen toprak tipleri aşağıdakilerden hangisidir?

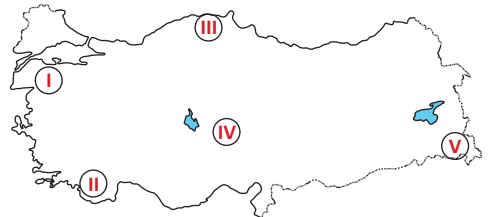
- | | |
|----------------|-----------|
| A) Terra-rossa | Çernozyom |
| B) Terra-rossa | Vertisol |
| C) Alüvyal | Kolüvyal |
| D) Alüvyal | Çernozyom |
| E) Rendzina | Kolüvyal |

Su içerisinde çözünmüş halde bulunan tuzların, sıcaklığın artmasıyla birlikte suyun buharlaşması ve içerisindeki tuzu yüzeyde ve derinlerde biriktirmesi sonucu halomorfik topraklar oluşur.

5- Ülkemizde bu tür topraklar seçeneklerde verilen alanlardan hangisinde görülür?

- A) Çukurova Deltası'nda
- B) Konya Ovası'nda
- C) Taşeli Platosu'nda
- D) Muş Ovası'nda
- E) Kapadokya Yöresi'nde

Regosol topraklar, volkanik bölgelerde akarsuların taşıdığı kumlar üzerinde oluşan topraklardır. Bu topraklar soğan ve patates tarımı açısından oldukça verimlidir.



6- Haritada gösterilen alanlardan hangisinde Regosol topraklara rastlanır?

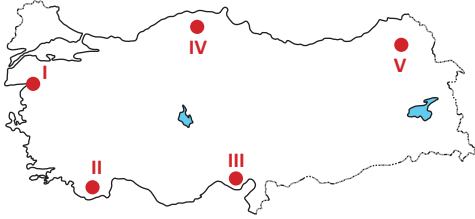
- A) I
- B) II
- C) III
- D) IV
- E) V



- Akarsuların taşıdığı materyalleri biriktirmesi sonucu oluşan topraklardır.
- Topraktaki mineral miktarı fazla olduğu için çok verimli topraklardır.
- Çukurova, Bafra ve Menemen ovaları bu toprakların görüldüğü yerlerdendir.

7- Yukarıdaki bazı özellikleri verilen toprak tipi aşağıdakilerden hangisidir?

- A) Alüvyal
- B) Kolüvyal
- C) Terra-rossa
- D) Kahverengi bozkır
- E) Kahverengi Orman



8- Haritada numaralandırılarak gösterilen alanlardan hangisinde terra-rossa topraklar yaygındır?

- A) I
- B) II
- C) III
- D) IV
- E) V

Haluk Bey, Coğrafya branşında yüksek lisans tezi hazırlamaktadır. Tez konusu ise Adana il sınırları içerisindeki toprak tiplerinin incelenmesidir.

9- Buna göre Haluk Bey'in Adana il sınırları içerisinde **en fazla** karşılaşılabilecek toprak tipleri aşağıdakilerden hangisidir?

- A) Alüvyal -- Kolüvyal
- B) Litosol -- Regosol
- C) Çernozyom -- Rendzina
- D) Terra-rossa -- Rendzina
- E) Terra-rossa -- Alüvyal

Geçen hafta Türkiye'nin toprak tipleri konusunu işleyen Sevgi Hanım, öğrencilerine bu konu hakkında akıllarında kalanları söylemelerini istemiştir. Öğrencilerinden bazıları aşağıdaki bilgileri aktarmıştır:

Kerem: Ülkemizde laterit ve tundra toprakları görülmez.

İlayda: Erzurum-Kars Platosu'nda rendzina topraklar görülür.

Nazlı: Çukurova ve Bafra gibi delta ovalarımızda alüvyal topraklar yaygındır.

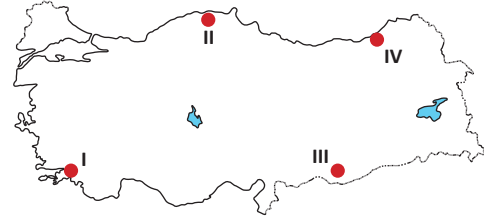
Berke: Teke ve Taşeli Platosu'nda terra-rossa topraklar yaygın olarak görülür.

Kemal: İç bölgelerimizde kestane ve kahverengi bozkır toprakları yaygındır.

10- Öğrencilerin aktardığı bilgilerden hangisi **yanlıştır**?

- A) Kerem
- B) İlayda
- C) Nazlı
- D) Berke
- E) Kemal

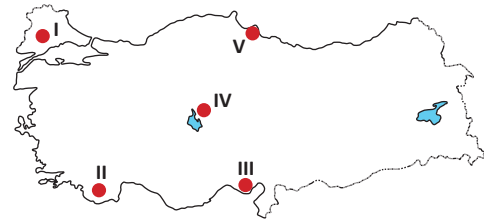
Yağışlı bölgelerde topraktaki tuz oranı az, yağışın düşük olduğu bölgelerde ise topraktaki tuz oranı fazladır.



11- Haritada numaralandırılarak gösterilen alanlarda topraktaki tuzluluk oranı **en fazla** ve **en az** olan hangisidir?

	<u>En fazla</u>	<u>En az</u>
A)	I	IV
B)	I	II
C)	III	II
D)	III	IV
E)	IV	II

Dağlık ve engebeli alanlarda toprak kalınlığı daha azdır.



12- Haritada taranarak gösterilen alanlardan hangisinde toprak kalınlığı **daha azdır**?

- A) I
- B) II
- C) III
- D) IV
- E) V