



Ülkemizde özellikle yaz aylarında insanların belirli bir süreliğine başka yerlere gitmesine mevsimlik (geçici) göç adı verilir.

1- Aşağıdaki faaliyetlerden hangisi ülkemizdeki mevsimlik göçlerin nedenleri arasında yer almaz?

- A) Tarım
- B) Turizm
- C) Sanayi
- D) İnşaat
- E) Yayılacılık

24 Ocak 2020 tarihinde Elazığ ilimizde yaklaşık 40 saniye süren 6.8 büyüklüğünde bir deprem yaşandı. Depremde 41 vatandaşımız hayatını kaybetmiştir. Deprem sonrasında ise bazı vatandaşlarımızın başka yerlere göç ettiği gözlemlenmiştir.

2- Elazığ depremi sonrasında meydana gelen göçün nedeni aşağıdakilerden hangisidir?

- A) İşçi göçü
- B) Doğal afet göçü
- C) Mübadele göçü
- D) Sosyal nedenli göç
- E) Ekonomik nedenli göç

Coğrafya Öğretmeni Emrah Bey, Türkiye'de göçler konusu ile ilgili bir etkinlik hazırlamıştır. Öğrencisi Ece'nin bu etkinliğe verdiği cevaplar aşağıda gösterilmiştir.

		Göçün türü
I	Suriye'deki savaştan kaçan insanların Türkiye'ye sığınması	Siyasi nedenli göç
II	Trabzon'da selden etkilenen birçok kişinin göç etmesi	Doğal afet göçü
III	Aziz Sancar'ın akademik çalışmaları için ABD'ye gitmesi	Beyin göçü
IV	Bursa'da otomotiv fabrikasında çalışmak için göç edilmesi	Sosyal nedenli göç
V	Lozan Antlaşması sonucu 450 bin Türk'ün ülkemize gelmesi	Mübadele göçü

3- Buna göre Ece'nin hangi cevabı yanlıştır?

- A) I
- B) II
- C) III
- D) IV
- E) V

Ülkemizde özellikle 1960'lı yıllardan sonra çalışmak üzere yurt dışına giden kişi sayısı artmıştır.

4- Aşağıdakilerden hangi bu dönemde göç verdiğimiz ülkelerden biri değildir?

- A) Fransa
- B) Avusturya
- C) Almanya
- D) Meksika
- E) Belçika

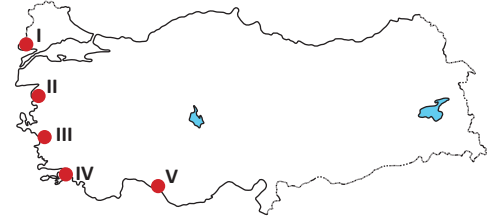
Aşağıdaki tabloda bazı illerimizin 2019 yılına ait toplam nüfus miktarları ile aldığı ve verdiği göç sayıları verilmiştir.

İller	Toplam Nüfus	Aldığı Göç	Verdiği Göç
İstanbul	15.519.267	498.676	378.305
Çankırı	195.789	11.381	32.275
Antalya	2.511.700	100.140	68.494
Tokat	612.747	39.530	39.567
Şanlıurfa	2.073.614	41.841	60.885

5- Tabloda verilen illerimizden net göç hızı en yüksek ve en düşük olan hangisidir?

	En Yüksek	En Düşük
A)	Antalya	Tokat
B)	Antalya	Çankırı
C)	İstanbul	Çankırı
D)	İstanbul	Şanlıurfa
E)	Tokat	Şanlıurfa

Ülkemizde özellikle yaz aylarında turizm sektöründe çalışmak amacıyla birçok kişi göç etmektedir.



6- Haritada numaralandırılarak gösterilen yerlerden hangisi bu göç türünü daha az alır?

- A) I
- B) II
- C) III
- D) IV
- E) V



Aşağıdaki tabloda 2018 yılında ülkemize gelen ve ülkemizden giden yabancı uyruklu kişilerin en fazla olduğu ülkeler ve bu göçe katılan kişi sayıları gösterilmiştir.

Ülkeler	Türkiye'ye Gelen Göç	Türkiye'den Giden Göç
Irak	110.315	38.515
Afganistan	44.977	8.168
Suriye	38.997	5.913
Türkmenistan	34.915	10.096
İran	31.922	9.242
Azerbaycan	23.245	13.804

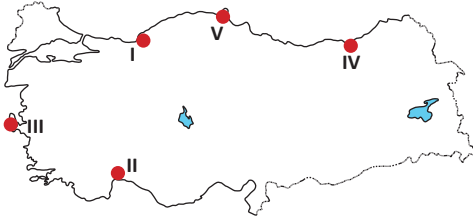
7- Tablodaki bilgiler dikkate alındığında aşağıdaki bilgilerden hangisine ulaşılr?

- A) Ülkemize en az göç gönderen ülkeye
- B) Ülkemizden göçün en az olduğu ülkeye
- C) Net göçün en az olduğu ülkeye
- D) Net göçün en fazla olduğu ülkeye
- E) Ülkemize yapılan göçlerin nedenlerine

Aşağıda Ahmet ve Zeynep'in çalışmak üzere gittikleri yerler hakkında bazı bilgiler verilmiştir.

Ahmet: Eğitim masraflarımı karşılamak amacıyla her yıl yaz aylarında çalışmaya gideriz. Yaklaşık iki ay fındık ve çay bahçelerinde çalıştıktan sonra evimize döneriz.

Zeynep: Deniz sezonunun açılması ile birlikte yerli ve yabancı turistlerin kaldığı otellerde çalışmaya giderim. Benim çalıştığım yer deniz turizmi açısından çok tercih edilen bir yerdir.



8- Buna göre, Ahmet ve Zeynep'in çalışmaya gittiği yerler haritadaki alanlardan hangileri olabilir?

- | | <u>Ahmet</u> | <u>Zeynep</u> |
|----|--------------|---------------|
| A) | V | I |
| B) | IV | II |
| C) | II | I |
| D) | I | III |
| E) | IV | I |

Ülkemizde 2018/2019 döneminde net göç miktarı en fazla olan illerimiz sırasıyla İstanbul, Ankara ve Antalya'dır. Bu illerimizde göçle birlikte bazı sorunlar meydana gelmektedir.

9- Aşağıdaki sorunlardan hangisinin bu illerde görülmesi **beklenmez**?

- A) Ekonomik durağanlığın artması
- B) Suç olaylarının artması
- C) Çevre kirliliğinin artması
- D) Gecekondulaşmanın artması
- E) Kültürel çatışmanın artması

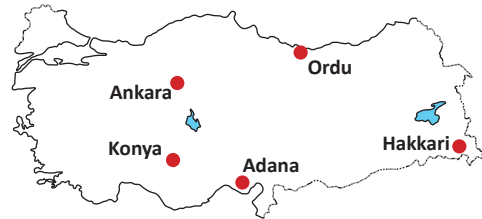
- I. Mübadele sonucu insanların göç etmesi
- II. Tsunami sonucu insanların göç etmesi
- III. Heyelan ve selden dolayı insanların göç etmesi
- IV. Volkanik patlamalardan dolayı insanların göç etmesi

10- Yukarıdaki göçe neden olan faktörlerden hangileri Türkiye Cumhuriyeti'nde **görülmemiştir**?

- A) I ve II
- B) I ve III
- C) II ve III
- D) II ve IV
- E) III ve IV



Ülkemizde özellikle nisan-kasım ayları arasında mevsimlik tarım işçilerinin bazı illere çalışmak üzere göç ettiği gözlemlenmektedir.



11- Buna göre, mevsimlik tarım işçilerinin yoğun olarak göç ettiği yerler arasında haritada gösterilen şehirlerden hangisi **yoktur**?

- A) Ordu
- B) Konya
- C) Adana
- D) Ankara
- E) Hakkari