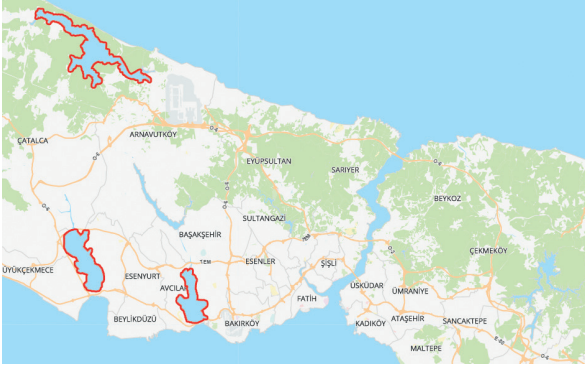




Aşağıdaki haritada kıyı oklarının bir koyun önünü kapatması sonucu oluşan gölleri gösterilmiştir.



1- Buna göre;

- I. Durusu Gölü
- II. Kilimli Gölü
- III. Büyükçekmece Gölü
- IV. Küçükçekmece Gölü

Yukarıdakilerden hangileri haritada gösterilen lagün gölleri arasında değildir?

- A) Yalnız I
- B) Yalnız II
- C) I ve II
- D) II ve III
- E) III ve IV

2- Aşağıdaki Türkiye haritasında beş farklı bölge numaralandırılarak gösterilmiştir.



Haritada numaralandırılarak gösterilen alanlardan hangisinde kırgıbayır şeklinin görülme olasılığı daha azdır?

- A) I
- B) II
- C) III
- D) IV
- E) V

3- Ülkemizde eğimin azaldığı bazı alanlarda akarsular büklümler yaparak akar ve menderes adı verilen akarsu şekillerini oluşturur.

Ülkemizde akarsuların oluşturduğu menderes şekline aşağıdaki yerlerden hangisinde yaygın olarak rastlanır?

- A) Kıyı Ege
- B) Teke Yöresi
- C) Batı Karadeniz
- D) Toros Dağları
- E) Çatalca-Kocaeli Platosu

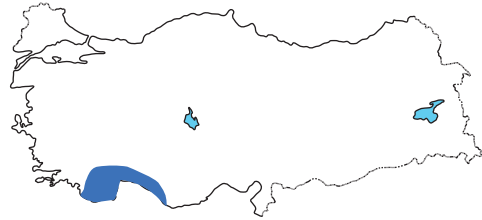
Aşağıdaki Türkiye haritasında beş farklı bölge koyu renkle gösterilmiştir.



4- Haritada koyu renkle gösterilen alanlardan hangisinde akarsu biriktirme şekillerinden deltalar görülür?

- A) I
- B) II
- C) III
- D) IV
- E) V

Aşağıdaki Türkiye haritasında Antalya ilimizin kapladığı alan taranarak gösterilmiştir.



5- Taranarak gösterilen alanda aşağıdaki yer şekillerinden hangisine rastlanmaz?

- A) Falez
- B) Lapy
- C) Şelale
- D) Yardang
- E) Traverten

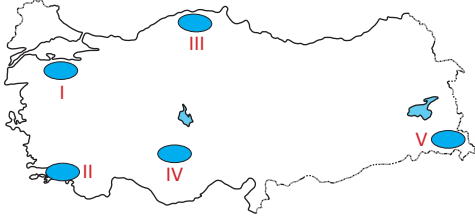
Bir tur şirketi özellikle ilkbahar aylarında havalar çok ısınmadan "Akdeniz Doğa Turları" düzenlemektedir. Bu turda gezilecek yerler arasında Adana'da yer alan Çukurova, Mersin'deki Cennet-Cehennem Obrukları ve Taşkuyu Mağarası, Antalya falezleri ve Patara kıyı kumulları yer almaktadır.

6- Bu gezi güzergahı düşünüldüğünde hangi dış kuvvetin oluşturduğu yer şekline rastlanılması beklenmez?

- A) Akarsular
- B) Rüzgarlar
- C) Buzullar
- D) Karstik şekiller
- E) Dalga ve akıntılar



Aşağıdaki Türkiye haritasında beş farklı alan taranarak gösterilmiştir.



7- Haritada taranarak gösterilen alanlardan hangisinde rüzgarların oluşturduğu yer şekilleri **daha yaygındır**?

- A) I B) II C) III D) IV E) V

Aşağıdaki şekilde dağların kıyıya paralel uzandığı alanlarda deniz seviyesinin yükselmesi sonucu akarsu vadilerinin ve alçakta kalan yerlerin sulara gömülmesi sonucu oluşan dalmaçya kıyı tipi gösterilmiştir.



8- Bu kıyı tipi ülkemizde nerede görülür?

- A) Doğu Karadeniz kıyılarında
B) Taşeli Platosu kıyısında
C) Yıldız Dağları'nın kuzey yamaçlarında
D) Antalya'da Finike ve Kaş arasında
E) Ege'de Edremit Körfezi ile İzmir arasında

Ülkemizde kireç taşı, jips ve kaya gibi kayaların yaygın olduğu bölgelerde karstik aşınım ve birikim şekillerine rastlanmaktadır.

9- Buna göre, aşağıdaki illerimizden hangisinde karstik şekillere rastlanması **beklenmez**?

- A) Rize
B) Sivas
C) Mersin
D) Konya
E) Antalya

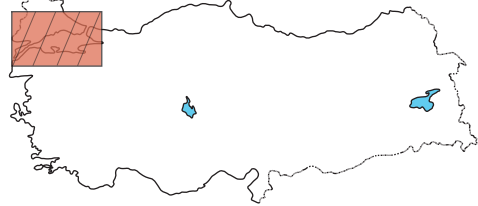
Aşağıdaki fotoğrafta akarsuların taşıdıkları materyalleri yatak eğimlerinin azaldığı yerlerde biriktirmesi sonucu oluşan ırmak adası gösterilmiştir.



10- Buna göre, fotoğraftaki ırmak adasının aşağıdaki akarsularımızdan hangisinde oluşması **beklenmez**?

- A) Çoruh
B) Meriç
C) Kızılırmak
D) Küçük Menderes
E) Büyük Menderes

Aşağıdaki Türkiye haritasında belirli bir alan taranarak gösterilmiştir.



11- Haritada taranarak gösterilen alanda aşağıdaki yer şekillerinden hangisine **rastlanmaz**?

- A) Lagün B) Plato C) Fiyort
D) Tombolo E) Ria tipi kıyı

Kıyıya yakın bir adanın dalga ve akıntılarının getirdiği materyallerle dolması ve ada ile karanın birleşmesi ile tombolo adı verilen şekiller oluşur. Ülkemizde bu yer şeklinin örneklerine rastlanmaktadır.

12- Aşağıdaki yer şekillerimizden hangisi tomboloya örnek oluşturur?

- A) Bafra Ovası B) Biga Yarımadası
C) Kapıdağ Yarımadası D) Küçük Çekmece Gölü
E) Büyük Çekmece Gölü