

1- Yukarıdaki Türkiye haritasında numaralandırılarak gösterilen alanlardan hangisinde karstik şekiller yaygındır?

- A) I
- B) II
- C) III
- D) IV
- E) V

Akarsuların taşıdıkları materyalleri denize döküldükleri alanlarda biriktirmesi sonucu delta ovaları meydana gelir.

2- Aşağıdakilerden hangisi ülkemizdeki delta ovaları arasında yer almaz?

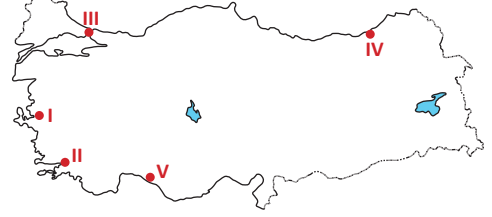
- A) Çukurova
- B) Bafra ovası
- C) Konya ovası
- D) Silifke ovası
- E) Çarşamba ovası

Ülkemizde dış kuvvetlerin oluşturduğu birçok yer şekline rastlamak mümkündür.

3- Aşağıdakilerden hangisi bu yer şekilleri arasında değildir?

- A) Ağrı Dağı
- B) Elmalı Ovası
- C) Kurşunlu Şelalesi
- D) Sinop Yarımadası
- E) Ballica Mağarası

Deniz seviyesinin yükselmesi sonucu akarsu vadilerinin sular altında kalması ile ria tipi kıyılar meydana gelir.




4- Yukarıdaki Türkiye haritasında numaralandırılarak gösterilen alanlardan hangilerinde ria tipi kıyılar görülür?

- A) I ve II
- B) II ve III
- C) II ve IV
- D) III ve V
- E) IV ve V

Aşağıdaki fotoğraflarda ülkemizde dış kuvvetlerin oluşturduğu iki farklı şekil gösterilmiştir.

Peri Bacaları (Nevşehir)

Falez (Antalya)



5- Fotoğraflardaki yer şekilleri hangi dış kuvvetler tarafından oluşturulmuştur?

- |    | I          | II        |
|----|------------|-----------|
| A) | Rüzgarlar  | Akarsular |
| B) | Rüzgarlar  | Dalgalar  |
| C) | Akarsular  | Dalgalar  |
| D) | Akarsular  | Buzullar  |
| E) | Karstlaşma | Rüzgarlar |

Konya ilimizdeki bir lisede, Coğrafya sene başı zümre toplantısında hem I. hem II. dönemde coğrafi geziler yapılmasına karar verilmiştir. I. dönemki gezide öncelikle Karapınar ilçesi daha sonra Antalya'daki Damlatış Mağarası ve Konyaaltı Plajı öğrencilerle birlikte gezilmiştir. II. dönemki gezide ise Denizli ilindeki Pamukkale travertenlerine ve Tokalı Kanyonu'na gezi düzenlenmiştir.

6- Yapılan bu coğrafi gezilerde hangi dış kuvvetin oluşturduğu yer şekline rastlanması beklenmez?

- A) Akarsular
- B) Rüzgarlar
- C) Buzullar
- D) Dalga ve akıntılar
- E) Karstik şekiller



Ülkemizin matematik konumundan dolayı buzulların oluştuğu yer şekillerine fazla rastlanmaz. Yükseltinin fazla olduğu bazı dağlarımızda buzul aşınım ve birikim şekilleri görülür.

7- Aşağıdaki dağlarımızdan hangisinde buzulların oluştuğu yer şekillerine rastlanmaz?

- A) Ağrı Dağı
- B) Erciyes Dağı
- C) Cilo Dağı
- D) Aladağlar
- E) Bozdağlar

- I. Taşeli Platosu
- II. Bafra Deltası
- III. Durusu Gölü
- IV. Kızören Obruğu

8- Ülkemizde görülen yukarıdaki yer şekillerinden hangileri akarsular tarafından oluşturulmuştur?

- A) I ve II
- B) I ve III
- C) II ve III
- D) II ve IV
- E) III ve IV

Aşağıdaki Türkiye haritasında karstik arazilerin bulunduğu alanlar gösterilmiştir.



9- Buna göre, karstik araziler ve bu bölgelerde oluşan yer şekilleri ile ilgili aşağıdaki bilgilerden hangisi yanlıştır?

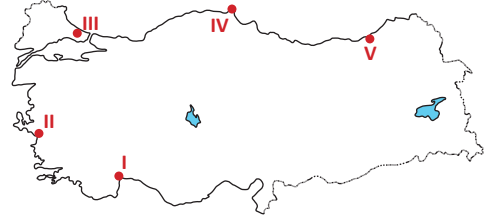
- A) Karstik arazilerde kalker, alçı taşı veya jips kayaçları yaygındır.
- B) Karstik arazilerin en fazla bulunduğu yer Akdeniz Bölgesi'dir.
- C) Karstik arazilerimizde tarımsal faaliyetler yoğun olarak yapılır.
- D) Lapy, dolin, polye ve mağara gibi yer şekilleri bu arazilerde görülebilir.
- E) Karstik arazilerde çöküntü depremlerin görülme olasılığı yüksektir.

Rüzgarlar kurak ve yarı kurak iklim bölgelerinde etkili olan dış kuvvetlerden biridir. Ülkemizde rüzgarların oluşturduğu şekillere bazı illerimizde rastlanır.

10- Aşağıdakilerden hangisi bu illerimizden biri değildir?

- A) Aksaray
- B) Nevşehir
- C) Konya
- D) Şanlıurfa
- E) Trabzon

Ülkemiz uzun bir kıyı şeridine sahip olduğu için dalgaların oluşturduğu aşınım ve birikim şekillerine sıklıkla rastlanır.



11- Haritada numaralandırılarak gösterilen alanlar ile ilgili aşağıdakilerden hangisi yanlıştır?

- A) I numaralı bölgede hem falez hem de kumsal şekillerine rastlanır.
- B) II numaralı bölgede kıta sahanlığı geniştir ve kumsallar yaygındır.
- C) III numaralı bölgede dalga birikim şekillerinden lagünler görülür.
- D) IV numaralı bölge dalga birikim şekillerinden tomboloya örnektir.
- E) V numaralı bölgede koy, körfez ve ada sayısı fazladır.

Ülkemizdeki karstik arazilerde hem aşınım hem de birikim şekillerine yaygın olarak rastlanır.

12- Aşağıdaki oluşumlardan hangisi ülkemizdeki karstik aşınım şekilleri arasında yer almaz?

- A) Kestel Ovası
- B) Konya'daki obruklar
- C) Pamukkale Travertenleri
- D) İnsuyu Mağarası
- E) Taşeli Platosu'ndaki lapyalar