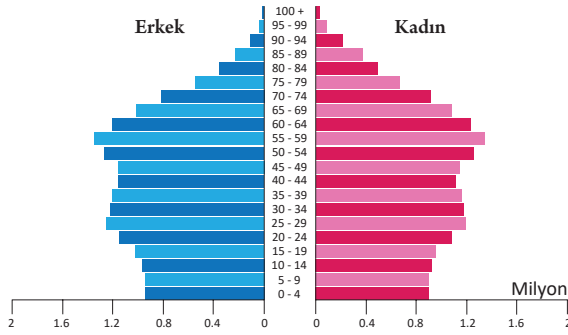


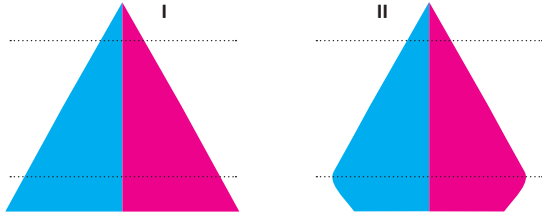


Aşağıda Kanada'nın 2018 yılına ait nüfus piramidi verilmiştir.



1- Kanada'nın nüfus piramidine bakılarak aşağıdaki bilgilerden hangisine ulaşmaz?

- A) Kanada'nın toplam nüfus miktarına
- B) Çocuk ve yaşlı ölüm oranlarına
- C) Aktif nüfus miktarı ve oranına
- D) Kadın ve erkek nüfus oranına
- E) Nüfusun yaş gruplarına göre dağılımına



2- Yukarıdaki nüfus piramitleri hangi ülkelere ait olabilir?

- | I          |             | II           |               |
|------------|-------------|--------------|---------------|
| A) Uruguay | B) Türkiye  | A) İsveç     | B) Afganistan |
| C) Fransa  | D) Portekiz | C) Hindistan | D) İtalya     |
| E) Kongo   |             | E) Brezilya  |               |

Nüfus piramitlerinde 0-14 yaş arası çocuk, 15-64 yaş arası aktif veya yetişkin, 65 ve daha üstü yaş grubu yaşlı nüfus olarak kabul edilmektedir. Gelişmiş ülkelerde piramidin üst kısmı yani yaşlı nüfus oranı geri kalmış ülkelere göre daha geniştir.

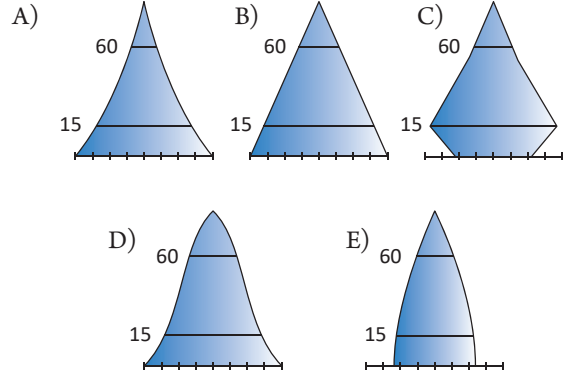
3- Buna göre aşağıdaki ülkelerden hangisinin nüfus piramidinde 65 yaş ve üstü grup daha geniştir?

- A) Çad
- B) Burundi
- C) Uganda
- D) Kolombiya
- E) Finlandiya

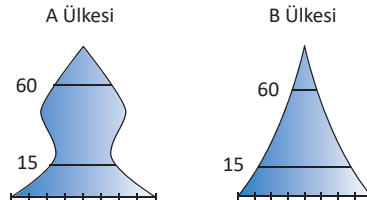
Aşağıdaki tabloda Bulgaristan'a ait bazı nüfus verileri gösterilmiştir.

Nüfusu (2000 yılı)	8.2 milyon
Nüfusu (2018 yılı)	7 milyon
2018 yılı nüfus artış hızı	% - 7
0 – 14 yaş çocuk nüfus	15
15 – 64 yaş aktif nüfus	64
65 yaş ve üstü yaşlı nüfus	21

4- Tablodaki bilgilere göre Bulgaristan'ın nüfus piramidi aşağıdakilerden hangisine benzer?



Aşağıda iki farklı ülkenin nüfus piramidi verilmiştir.



5- Bu ülkelerin nüfus piramitleri ile ilgili aşağıdaki ifadelerden hangisi yanlıştır?

- A) Çocuk nüfus oranı A ülkesinde daha azdır.
- B) B ülkesinde gerçek nüfus artış hızı fazladır.
- C) A ülkesi, B ülkesine göre daha gelişmiştir.
- D) Yaşlı nüfus oranı B ülkesinde daha azdır.
- E) B ülkesinde çocuk bağımlı nüfus oranı yüksektir.

6- Aşağıdaki özelliklerden hangisi bir ülkenin gelişmişlik düzeyi ile ilgili bilgi vermez?

- A) Ülkenin nüfus piramidi
- B) Aritmetik nüfus yoğunluğu
- C) Kırsal ve kentsel nüfus oranı
- D) Ülkedeki okuma-yazma oranı
- E) Nüfusun yaş gruplarına dağılışı oranı



- Düşük olan doğum oranlarının son yıllarda arttığı ülkelere ait piramittir.
- Yaşlı nüfus oranı fazla olduğu için piramidin üst kısmı geniştir.
- İsveç, İngiltere ve Rusya gibi ülkelerin nüfus piramidi bu türdendir.

7- Yukarıda bazı özellikleri verilen nüfus piramidi aşağıdakilerden hangisidir?

- A) Arı Kovanı  
B) Çan  
C) Asimetrik  
D) Kenarları İçe Çökük  
E) Düzgün Üçgen

- Nüfus artış hızı yüksek olan bir ülkedir.
- Çocuk nüfus oranı fazla, yaşlı nüfus oranı azdır.
- Nüfus piramidinin taban kısmı geniş üst kısmı dardır.

8- Yukarıda bazı özellikleri verilen ülke aşağıdakilerden hangisi olabilir?

- A) Afganistan  
B) İsviçre  
C) Kanada  
D) Japonya  
E) Yeni Zelanda

Coğrafya Öğretmeni Kenan Bey, nüfus piramitleri ile ilgili doğru-yanlış etkinliği hazırlamıştır. Öğrencisi Yeşim'in bu etkinliğe verdiği cevaplar aşağıda gösterilmiştir.

	Doğru	Yanlış
I		✓
II	✓	
III	✓	
IV		✓
V		✓

9- Buna göre Yeşim'in hangi cevapları **yanlıştır**?

- A) I ve II  
B) II ve III  
C) III ve IV  
D) III ve V  
E) IV ve V

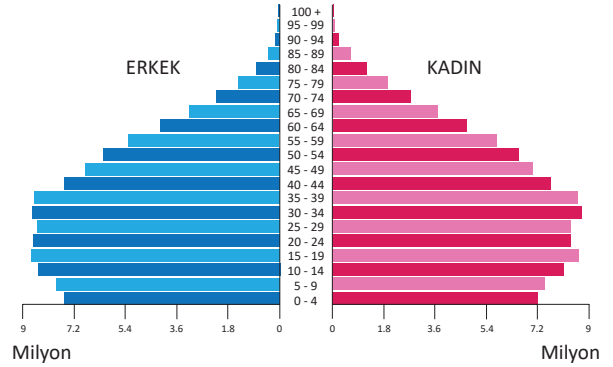
10- Gana, Çad, Afganistan ve Hindistan gibi ülkelerde;

- Ortanca yaşın yüksek olması
- Yaşlı bağımlı nüfus oranının fazla olması
- Çocuk bağımlı nüfus oranının fazla olması
- Nüfus piramidinin taban kısmının geniş olması

Yukarıda verilen özelliklerden hangileri ortaktır?

- A) I ve II  
B) I ve III  
C) II ve III  
D) II ve IV  
E) III ve IV

Aşağıda Brezilya'nın 2018 yılına ait nüfus piramidi verilmiştir.



11- Brezilya'nın nüfus piramidi incelediğinde, aşağıdaki bilgilerden hangisi **yanlıştır**?

- A) Toplam nüfusu 200 milyondan fazladır.  
B) Nüfus artış hızı son yıllarda düşmüştür.  
C) Yaşlı nüfus oranı son yıllarda azalmaktadır.  
D) Aktif nüfus oranı genç nüfus oranından fazladır.  
E) Yaşlı nüfus içerisinde kadınların oranı daha fazladır.

65 yaş ve üstü nüfusun fazla olduğu ülkelerde, nüfus piramidinin üst kısmı diğer ülkelere göre daha geniştir.

- Kuveyt
- Endonezya
- Bulgaristan
- Danimarka

12- Buna göre, yukarıdaki ülkelerden hangilerinde nüfus piramidinin üst kısmı daha geniştir?

- A) I ve II  
B) I ve III  
C) II ve III  
D) II ve IV  
E) III ve IV