



1- Farklı kıyı tiplerinin oluşmasında;

- I. Gel-git
- II. Buzullar
- III. Bitki örtüsü

faktörlerinden hangileri etkili değildir?

- A) Yalnız I
- B) Yalnız II
- C) Yalnız III
- D) I ve II
- E) II ve III

İş adamı İdris Bey, yoğun geçen bir yılın ardından arkadaşları ile birlikte tatile çıkmıştır. Gemi ile farklı ülkelere seyahat etmişlerdir. İlk durakları Adriyatik Denizi'nin Hırvatistan kıyıları olmuştur. İtalya kıyıları da gezdikten sonra Atlas Okyanusu'na geçmişlerdir. Burada Norveç kıyılarını ve İzlanda Adası'nı da ziyaret edip tekrar ülkemize dönmüşlerdir.

2- İdris Bey ve arkadaşları Hırvatistan ve Norveç'te aşağıdaki kıyı tiplerinden hangilerine rastlamışlardır?

- A) Enine - Boyuna
- B) Limanlı - Boyuna
- C) Fiyort - Haliç
- D) Dalmaçya - Mercanlı
- E) Dalmaçya - Fiyort

- I. Ria
- II. Fiyort
- III. Skyer
- IV. Boyuna

3- Yukarıdaki kıyı tiplerinden hangileri daha yüksek enlemlerde görülür?

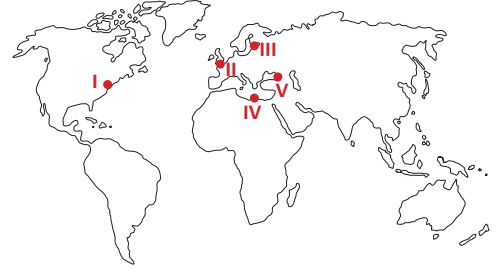
- A) I ve II
- B) I ve IV
- C) II ve III
- D) II ve IV
- E) III ve IV

- I. Enine kıyı tipi
- II. Boyuna kıyı tipi
- III. Limanlı kıyı tipi
- IV. Dalmaçya kıyı tipi

4- Dağların kıyıya paralel uzandığı bölgelerde yukarıdaki kıyı tiplerinden hangilerinin oluşma olasılığı daha fazladır?

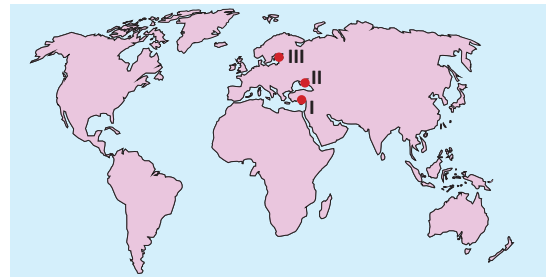
- A) I ve II
- B) I ve III
- C) II ve III
- D) II ve IV
- E) III ve IV

Gel-git hareketi sonucu kıyıya yakın akarsu vadilerinin sular altında kalması ile haliç tipi kıyıları meydana gelir.



5- Haritada numaralandırılan alanlardan hangilerinde haliç tipi kıyıları görülür?

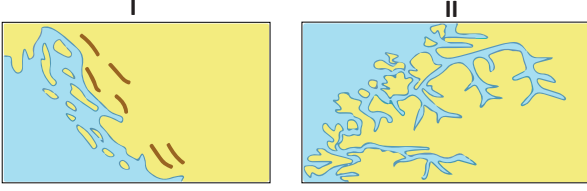
- A) I ve II
- B) I ve III
- C) II ve III
- D) II ve IV
- E) IV ve V



6- Yukarıdaki dünya haritasında numaralandırılarak gösterilen alanlarda görülen kıyı tipleri seçeneklerin hangisinde doğru olarak verilmiştir?

- | I           | II       | III      |
|-------------|----------|----------|
| A) Enine    | Boyuna   | Mercanlı |
| B) Boyuna   | Limanlı  | Skyer    |
| C) Dalmaçya | Skyer    | Boyuna   |
| D) Skyer    | Ria      | Enine    |
| E) Fiyort   | Dalmaçya | Ria      |





7- Yukarıdaki şekillerde hangi kıyı tipleri görülmektedir?

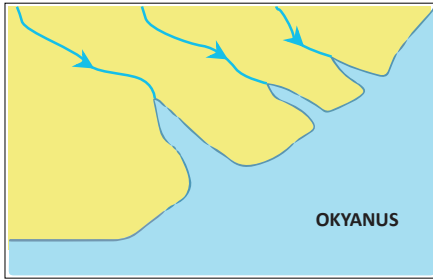
- |    | I        | II      |
|----|----------|---------|
| A) | Enine    | Haliçli |
| B) | Enine    | Skyer   |
| C) | Boyuna   | Skyer   |
| D) | Limanlı  | Fiyort  |
| E) | Dalmaçya | Fiyort  |

Dağların denize dik uzandığı bölgelerde enine kıyı tipi görülür.

8- Aşağıdakilerden hangisi enine kıyı tipinin özellikleri arasında yer almaz?

- A) Kıta sahanlığı geniştir.  
 B) Koy, körfez ve ada sayısı fazladır.  
 C) Kıyılarda delta oluşumu daha kolaydır.  
 D) Denizel iklim iç kesimlere daha fazla etki eder.  
 E) Kıyı ile iç kesimler arasında ulaşım tünellerle sağlanır.

Aşağıdaki şekilde bir bölgede görülen kıyı tipi gösterilmiştir.



9- Bu kıyı tipi ile ilgili aşağıdaki bilgilerden hangisi yanlıştır?

- A) Bu kıyı şekline haliç tipi kıyılar adı verilir.  
 B) Okyanus kıyılarında daha fazla görülür.  
 C) Bu kıyılarda delta oluşumu daha kolaydır.  
 D) Gel-git etkisi nedeniyle ortaya çıkmaktadır.  
 E) Akarsu ağızlarının sular altında kalması sonucu oluşur.

- I. Ria  
 II. Fiyort  
 III. Mercanlı  
 IV. Dalmaçya

10- Yukarıdaki kıyı tiplerinden hangilerinin oluşmasında epirojenez olayı etkili değildir?

- A) Yalnız II  
 B) Yalnız III  
 C) I ve II  
 D) II ve III  
 E) III ve IV

- I. Kıyı çizgisine paralel olarak uzanan sıradağların bulunduğu arazinin deniz istilasına uğraması sonucu meydana gelen kıyı tipidir.  
 II. Geniş tabanlı vadilerin deniz suları altında kalmasıyla ya da koy ve körfezlerin kıyı oklarıyla kısmen kapatılması sonucu meydana gelen kıyı tipidir.

11- Yukarıda tanımları yapılan kıyı tipleri seçeneklerden hangisinde doğru olarak verilmiştir?

- |    | I        | II      |
|----|----------|---------|
| A) | Enine    | Skyer   |
| B) | Boyuna   | Skyer   |
| C) | Boyuna   | Fiyort  |
| D) | Dalmaçya | Fiyort  |
| E) | Dalmaçya | Limanlı |

12- Aşağıdakilerden hangisi boyuna kıyı tipinin görüldüğü bölgelerin özellikleri arasında yer almaz?

- A) Doğal liman, koy ve körfez sayısı azdır.  
 B) Kıta sahanlığı dar, deniz derinliği fazladır.  
 C) Deniz etkisi içi kesimlere kadar ulaşamaz.  
 D) Dağların denize dik uzandığı bölgelerde görülür.  
 E) Kıyı ile iç kesimler arası ulaşım geçitlerle sağlanır.