



Coğrafya Öğretmeni Işıl Hanım, göçlerin nedenleri konusu ile ilgili bir etkinlik hazırlamıştır. Öğrencisi Cafer'in bu etkinliğe verdiği cevaplar aşağıda gösterilmiştir.

		Doğal Nedenler	Ekonomik Nedenler	Siyasi Nedenler	Sosyal Nedenler
I	Sağlık		✓		
II	Eğitim				✓
III	İşsizlik		✓		
IV	Deprem	✓			
V	Mübadele			✓	

1- Buna göre Cafer'in hangi cevapları yanlıştır?

- A) Yalnız I
- B) Yalnız II
- C) I ve II
- D) II ve IV
- E) I ve V

İnsanların herhangi bir nedenle yaşadıkları yeri terk etmesine göç adı verilir. Göçlerden bazıları isteğe bağlı olarak gerçekleşirken bazı göç türlerinde ise zorunlu olarak yer değiştirilir.

2- Buna göre, seçeneklerde anlatılan göçlerden hangisi zorunlu olarak gerçekleştirilmiştir?

- A) Geovanni, çalışmak için İtalya'dan ABD'ye göç etmiştir.
- B) Sebastian, daha sosyal bir hayat için Münih şehrine göç etmiştir.
- C) Luciana, üniversite eğitimi için Uruguay'dan İngiltere'ye göç etmiştir.
- D) Damayanti, bilimsel çalışmalar için Hindistan'dan Belçika'ya göç etmiştir.
- E) Mirvan Muhammed, Suriye'deki iç savaştan dolayı Türkiye'ye göç etmiştir.

1492 yılında keşfedilen Amerika Kıtası'na, doğal zenginliklere sahip olmak amacıyla Avrupa ülkelerinden göç yaşanmıştır.

3- Aşağıdaki ülkelerden hangisi bu göç hareketine katılmamıştır?

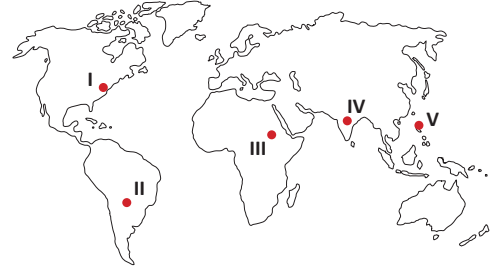
- A) Portekiz
- B) Fransa
- C) İspanya
- D) Hollanda
- E) Hindistan

20. yüzyılın en önemli kuramsal fizikçisi olarak nitelenen Albert Einstein, Almanya'da Nazi yönetiminin ırkçı tutumu dolayısıyla pek çok Musevi asıllı bilim adamı gibi o da Almanya'dan ayrılarak ABD'ye göç etmiştir.

4- Yukarıdaki paragrafta anlatılan göç türü aşağıdakilerden hangisidir?

- A) İşçi göçü
- B) Beyin göçü
- C) Doğal afet göçü
- D) Mübadele göçü
- E) Sosyal nedenli göç

İşçi göçleri genellikle geri kalmış ülkelerden gelişmiş ülkelere doğru gerçekleşmektedir.



5- Buna göre, haritada numaralandırılarak gösterilen yerlerden hangisinin daha fazla işçi göçü alması beklenir?

- A) I
- B) II
- C) III
- D) IV
- E) V

Ülkelerinde ırkı, dini, toplumsal grubu veya siyasi görüşünden dolayı baskı altında olan ya da yaşam tehlikesi sonucu başka ülkelere sığınmak zorunda kalan kişilere mülteci adı verilir.

6- Buna göre aşağıdaki ülkelerden hangisindeki mülteci sayısı diğerlerinden daha azdır?

- A) Almanya
- B) Pakistan
- C) Uganda
- D) Norveç
- E) Türkiye



Coğrafya öğretmenini Deniz Hanım, coğrafya yazılısında beyin göçü ile ilgili bir soru hazırlamıştır. Öğrencisi Erdem, yazılıda bu soruyu aşağıdaki gibi cevaplamıştır.

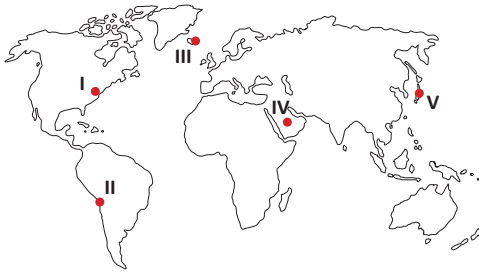
Soru: Dünyada en fazla beyin göçü alan ve en fazla beyin göçü veren ülkelerden beşer tane yazınız.

En fazla beyin göçü alan ülkeler	En fazla beyin göçü veren ülkeler
İsveç	Çin
Kamerun	Pakistan
İngiltere	Belçika
Almanya	Tanzanya
Avustralya	Türkmenistan

7- Erdem hangi ülkelerinin yerini değiştirdiğinde bu sorudan tam puan alır?

- A) Avustralya - Çin
B) Kamerun - Belçika
C) İngiltere - Pakistan
D) Almanya - Tanzanya
E) İsveç - Türkmenistan

Papua Yeni Gine'de, Ulawun ve Manam yanardağlarının patlaması sonucu lavlar etrafa yayıldı. Patlamalarda can kaybı yaşanmazken bölgedeki evler, su kuyuları ve bitki örtüsünün zarar görmesi sonucu köylüler başka bölgelere göç etmek zorunda kalmıştır.



8- Yukarıdaki haberde yer alan göç türünün bir benzerinin haritadaki yerlerden hangisinde görülmesi **beklenmez**?

- A) I B) II C) III D) IV E) V

9- Göç alan yerlerde;

- I. Tarımsal üretimin azalması
II. Kültürel çatışmanın yaşanması
III. İş gücü açığının ortaya çıkması
IV. Gecekondu yerleşmelerinin artması

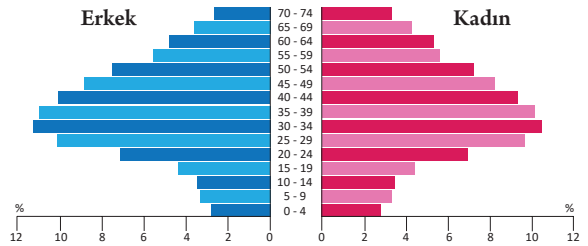
durumlarından hangilerinin yaşanması beklenir?

- A) I ve II B) II ve III C) II ve IV
D) III ve IV E) I ve IV

10- Türklerin Orta Asya'dan göç etmesinin nedenleri arasında aşağıdakilerden hangisi **yer almaz**?

- A) Kuraklık
B) Nüfus artışı
C) Salgın hastalık
D) Bizans'ın baskısı
E) Boylar arasındaki anlaşmazlıklar

2019 yılında dünyadaki göçmen sayısı yaklaşık 272 milyondur. Aşağıdaki piramitte dünyadaki göçmenlerin yaş gruplarına göre oranları verilmiştir.



11- Piramitteki değerlere bakılarak aşağıdaki yorumlardan hangisi **yapılamaz**?

- A) Çalışma çağındaki insanlar daha fazla göç etmektedir.
B) Göçmen nüfus oranının en az olduğu yaş aralığı 0-4 yaştır.
C) Erkek göçmen sayısı, kadın göçmen sayısından daha fazladır.
D) Göçmen nüfusunun en fazla olduğu kıtalar Avrupa ve Asya'dır.
E) Dünya nüfusunun %3'ten fazlası kendi ülkesinden başka yerde yaşamaktadır.