



Aşağıdaki dünya haritasında üç farklı adanın bulunduğu alanlar gösterilmiştir.



1- Bu adaların yer aldığı okyanuslar seçeneklerden hangisinde doğru verilmiştir?

	<u>İrlanda</u>	<u>Madagaskar</u>	<u>Yeni Zelanda</u>
A)	Atlantik	Pasifik	Hint
B)	Atlantik	Hint	Pasifik
C)	Hint	Atlantik	Pasifik
D)	Hint	Pasifik	Atlantik
E)	Pasifik	Hint	Atlantik

Ekvatorдан kutuplara doğru deniz ve okyanus sularının tuzluluk oranı genel olarak azalmaktadır.

2- Buna göre aşağıdaki denizlerden hangisinin tuz oranı diğerlerine göre daha azdır?

- A) Baltık Denizi
- B) Adriyatik Denizi
- C) Japon Denizi
- D) Karayip Denizi
- E) Kızıldeniz

Kıta içlerinde yer alan ve okyanuslara boğazlar aracılığıyla bağlantısı olan denizlere iç deniz adı verilir.

3- Aşağıdakilerden hangisi iç deniz değildir?

- A) Azak Denizi
- B) Karadeniz
- C) Japon Denizi
- D) Baltık Denizi
- E) Kızıldeniz

Aşağıdaki dünya haritasında üç farklı denizin bulunduğu alan numaralandırılmıştır.



4- Numaralandırılarak gösterilen denizler aşağıdakilerden hangisidir?

	<u>I</u>	<u>II</u>	<u>III</u>
A)	Manş	Adriyatik	Güney Çin
B)	Labrador	Akdeniz	Sarıdeniz
C)	Labrador	Akdeniz	Japon
D)	Karayip	Kızıldeniz	Japon
E)	Karayip	Kızıldeniz	Sarıdeniz

- I. Yeryüzündeki suların %97,5'i tuzlu sudur.
- II. Karaların oranı Güney Yarım Küre'de daha fazladır.
- III. Kuzey Yarım Küre'nin yaklaşık %60'u sularla kaplıdır.
- IV. Yeryüzündeki tatlı suların yarısından fazlası göllerde bulunur.

5- Yeryüzündeki su kaynakları ile ilgili yukarıdaki bilgilerden hangileri yanlıştır?

- A) I ve II
- B) I ve III
- C) II ve III
- D) II ve IV
- E) III ve IV

6- Göl sularının özellikleri üzerinde;

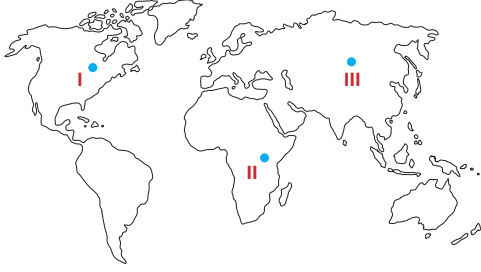
- I. İklim
- II. Kayaç yapısı
- III. Bitki örtüsü

faktörlerinden hangileri etkili olmaktadır?

- A) Yalnız I
- B) Yalnız II
- C) I ve II
- D) I ve III
- E) II ve III



Aşağıdaki dünya haritasında üç farklı gölün bulunduğu alanlar numaralandırılmıştır.



7- Numaralandırılarak gösterilen göller aşağıdakilerden hangisidir?

I	II	III
A) Superior	Victoria	Baykal
B) Superior	Tanganica	Çad
C) Winnipeg	Tanganica	Aral
D) Winnipeg	Victoria	Titicaca
E) Huron	Baykal	Titicaca

Coğrafya Öğretmeni Fatma Hanım, yeryüzündeki göller konusu ile ilgili aşağıdaki doğru-yanlış etkinliğini hazırlamıştır.

	Doğru	Yanlış
I Asya Kitası'ndaki Hazar, Baykal ve Aral tektonik göllere örnektir.	✓	
II Winnipeg ve Superior gölleri Afrika Kitası'nda yer alır.		✓
III Kenya, Uganda ve Tanzanya'da buzul göllerine sık rastlanılır.	✓	
IV Japonya, Endonezya ve İtalya gibi ülkelerde volkanik göller yaygındır.	✓	

Öğrencisi Sercan, bu etkinliği yukarıdaki tablodaki gibi cevaplamıştır.

8- Buna göre Sercan'ın hangi cevapları yanlıştır?

- A) Yalnız II      B) Yalnız III      C) I ve III  
D) II ve IV      E) III ve IV

9-Akarsularla ilgili aşağıdaki bilgilerden hangisi yanlıştır?

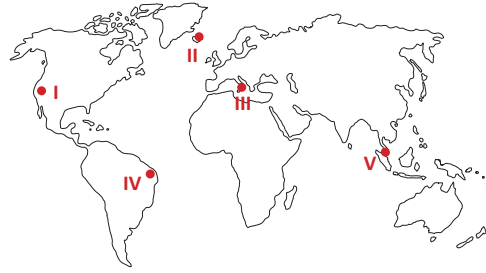
- A) Bir yatak içerisinde akışa geçen sulara akarsu adı verilir.  
B) Akarsuların doğduğu yere ağız, döküldüğü yere kaynak adı verilir.  
C) Akarsuyun bütün kolları ile birlikte sularını topladığı alana havza denir.  
D) Akarsu havzalarının birbirinden ayrıldığı yerlere su bölümü çizgisi denir.  
E) Sularını deniz ve okyanuslara ulaştıran akarsular açık havza olarak nitelendirilir.

- Yeryüzüne ulaşan lavların bir çanağın önünü kapatması sonucu oluşan göllerdir.
- Buzulların taşıdığı malzemelerin bir çanağın önünü kapatması sonucu oluşan göllerdir.
- Dalga ve akıntuların getirdiği malzemelerin koyların önünü kapatması ile oluşan göllerdir.
- Akarsuyun taşıdığı materyalleri çeşitli şekillerde biriktirmesi sonucu oluşan göllerdir.

10- Yukarıda hangi doğal set gölünün tanımı yapılmamıştır?

- A) Volkanik set gölleri      B) Heyelan set gölleri  
C) Alüvyal set gölleri      D) Kıyı set gölleri  
E) Moren set gölleri

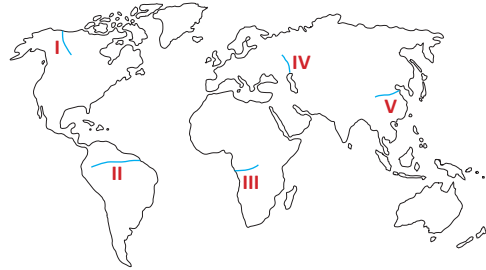
Volkanik faaliyetler sonucu krater, kaldera ve maar gibi çukurların su ile dolması sonucu volkanik göller meydana gelir. Aktif volkanik bölgelerde bu göllerin yeni örneklerine rastlanmaktadır.



11- Haritada numaralandırılarak gösterilen alanların hangisinde volkanik göllerin oluşması beklenmez?

- A) I      B) II      C) III      D) IV      E) V

Sularını deniz veya okyanuslara ulaştıran akarsular açık havza, ulaştıramayan akarsular ise kapalı havza özelliği gösterir.



12- Buna göre, haritada numaralandırılarak gösterilen akarsulardan hangisi kapalı havza özelliği gösterir?

- A) I      B) II      C) III      D) IV      E) V