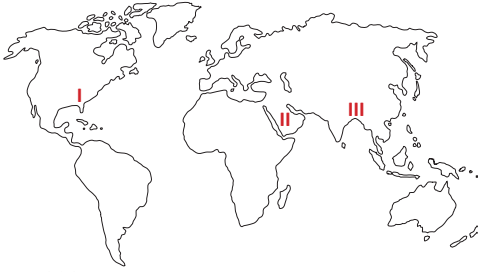




Endonezya'da şiddetli yağışların neden olduğu heyelanda 32 kişi hayatını kaybetti. Bir hafta süren arama kurtarma çalışmaları sona ererken kayıp bir kişiye ise ulaşılamadığı belirtildi. Ekvatorial iklimin etkili olduğu Endonezya'da heyelan çok sık görülmektedir. Ülke yönetimi heyelanların etkisini azaltmak için çeşitli tedbirler almaya karar vermiştir.

1- Endonezya hükümetinin heyelanların etkisini azaltmak için düşündüğü tedbirlerden hangisi yanlış bir uygulamadır?

- A) Dik yamaçlı bölgelerde, teraslar yapılarak eğim azaltılmamıştır.
- B) Heyelan bölgelerindeki bitki örtüsü tahribatı önlenmemiştir.
- C) Yamaçların aşağı kısımlarına istinat duvarları yapılmamıştır.
- D) Heyelan bölgesindeki topraklar başka alanlara aktarılmamıştır.
- E) Yamaçların dengesini bozacak beşeri faaliyetlerden kaçınılmamıştır.



- Kuraklık
- Kasırga
- Sel ve taşkın

2- Yukarıda verilen doğal afetler haritada numaralandırılarak gösterilen alanlardan hangilerinde daha çok görülür?

- | I | II | III |
|------------------|---------------|---------------|
| A) Kasırga | Kuraklık | Sel ve taşkın |
| B) Kasırga | Sel ve taşkın | Kuraklık |
| C) Sel ve taşkın | Kuraklık | Kasırga |
| D) Sel ve taşkın | Kasırga | Kuraklık |
| E) Kuraklık | Sel ve taşkın | Kasırga |

İlk olarak Çin'in Vuhan Eyaleti'nde aralık ayının sonlarında solunum yolu belirtileri (ateş, öksürük, nefes darlığı) gösteren bir grup hastada yapılan araştırmalar sonucunda 13 Ocak 2020'de tanımlanan bir virüstür. Salgın başlangıçta bu bölgedeki deniz ürünleri ve hayvan pazarında bulunanlarda tespit edilmiştir. Daha sonra insandan insana bulaşarak Çin'in diğer eyaletlerine ve diğer ülkelere yayılmıştır. Dünyada 15.10.2020 tarihine kadar yaklaşık 38,7 milyon kişi bu virüse yakalanmış ve 1.09 milyondan fazla kişi virüsten dolayı hayatını kaybetmiştir.

3- Yukarıdaki paragrafta anlatılan salgın hastalık aşağıdakilerden hangisidir?

- A) Ebola
- B) Covid-19
- C) Kara veba
- D) Çiçek hastalığı
- E) İspanyol gribi

COGRAFYAHOCASI.COM

- I. Sel ve taşkın
- II. Kütle hareketleri
- III. Volkanik patlama
- IV. Deprem ve tsunami

4- Yukarıda verilen doğal afetlerden hangileri daha fazla can kaybına neden olmaktadır?

- A) I ve II
- B) II ve III
- C) I ve IV
- D) II ve IV
- E) III ve IV

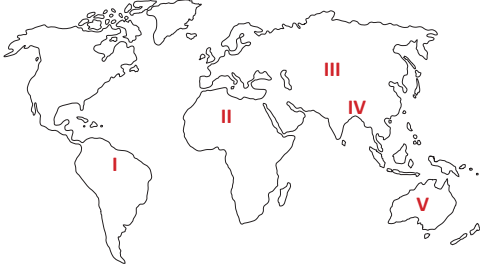
Gelişmiş ülkelerde doğal afetlerden kaynaklanan can ve mal kaybı daha az olmaktadır.

5- Buna göre, aynı koşullarda gerçekleşen bir depremin aşağıdaki ülkelerden hangisinde daha az can ve mal kaybına neden olması beklenir?

- A) Haiti
- B) Peru
- C) Hindistan
- D) Malezya
- E) Almanya



Heyelandan dolayı her yıl can ve mal kayıpları yaşanmaktadır.



6- Buna göre, haritada numaralandırılarak gösterilen yerlerden hangisinde heyelandan dolayı can ve mal kayıplarının **daha fazla** olması beklenir?

- A) I B) II C) III D) IV E) V

I. Çığ

II. Deprem

III. Kuraklık

IV. Heyelan

7- Yukarıdaki doğal afetlerden hangilerinin etki alanı genellikle diğerlerinden **daha geniştir**?

- A) I ve II
B) II ve III
C) II ve IV
D) III ve IV
E) I ve IV



8- Haritada numaralandırılarak gösterilen alanlardan hangilerinde deprem, tsunami ve volkanik patlama gibi doğal afetlerin hepsi de görülebilmektedir?

- A) I ve II B) II ve III
C) I ve III D) I ve IV
E) III ve IV

Eğimin fazla olduğu alanlarda biriken kar kütesinin çeşitli nedenlerle aşağıya doğru kaymasına çığ adı verilir.


9- Aşağıdaki ülkelerin yer şekilleri ve iklim özellikleri düşünüldüğünde, hangisinde çığ afeti **daha fazla** yaşanır?

- A) Nepal
B) Libya
C) Kenya
D) Filipinler
E) Kolombiya



10- Haritada taranarak gösterilen alanda, aşağıdaki doğal afetlerden hangisi **görülmez**?

- A) Sel
B) Çığ
C) Deprem
D) Tsunami
E) Volkanik patlama



11- Yukarıdaki doğal afetlerden hangilerinin meydana gelmesinde insanların etkisi **yoktur**?

- A) I ve II B) I ve III C) II ve III
D) II ve IV E) III ve IV