



10. SINIF KONU TESTLERİ

RÜZGARLARIN OLUŞTURDUĞU YER ŞEKİLLERİ

6

1) Rüzgarların oluşturduğu yer şekilleri aşağıdaki bölgelerden hangisinde daha fazladır?

- A) Kuzey Afrika
- B) Amazon Havzası
- C) Kuzeybatı Avrupa
- D) Kanada'nın batısı
- E) Güneydoğu Asya

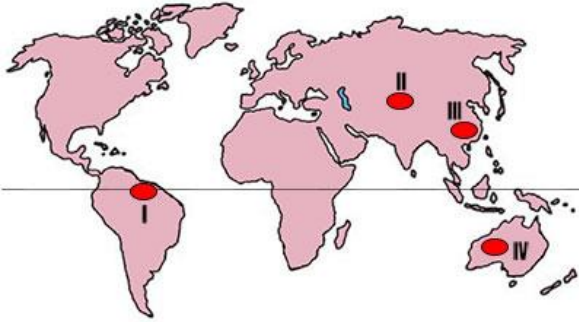
2) Rüzgâr erozyonun şiddetli olduğu yerler için;

- I. Toprak ince taneli ve gevşektir.
- II. Fiziksel ufalanma fazladır.
- III. Bitki örtüsü cılızdır

yargılarından hangileri söylenebilir?

- A) Yalnız I
- B) I ve II
- C) I ve III
- D) II ve III
- E) I, II ve III

3)



Haritada numaralandırılarak gösterilen alanlardan hangilerinde rüzgarların oluşturduğu birikim şekilleri daha fazladır?

- A) I ve II
- B) I ve III
- C) II ve III
- D) II ve IV
- E) III ve IV

4) Kurak ya da yarı kurak bölgelerde rüzgarların hızlı esmesine bağlı olarak aşındırma şekilleri oluşurken, rüzgâr hızının azaldığı bölgelerde biriktirme şekilleri oluşur.

Buna göre;

- I. mantar kaya,
- II. lös,
- III. barkan,
- IV. tafoni

Yer şekillerinden hangileri rüzgârın hızının azaldığı yerlerde görülür?

- A) I ve II
- B) I ve III
- C) II ve III
- D) II ve IV
- E) III ve IV

- 5) I. Falez
- II. Peribacası
- III. Traverten
- IV. Dev kazanı

Yukarıda verilen yer şekillerinden hangilerinin oluşumunda rüzgarların şekillendirici etkisi görülür?

- A) I ve II
- B) I ve III
- C) II ve III
- D) II ve IV
- E) III ve IV

6) Aşağıda verilen yer şekillerinden hangisinin oluşumunda rüzgarlar etkili değildir?

- A) Mantarkaya
- B) Tafoni
- C) Hörgüçkaya
- D) Şahitkaya
- E) Barkan

- 7) I. Rüzgarların dayanıklı tabakaların altlarını oyması ile oluşan şekillerdir.
- II. Rüzgâr biriktirmelerinin üzerinde oluşan toprak tipidir.
- III. Rüzgârın yavaşlaması ile oluşan hilal biçimindeki şekillerdir.

Yukarıda tanımları verilen yer şekilleri aşağıdakilerden hangisinde doğru olarak verilmiştir?

- | I | II | III |
|---------------|------------|------------|
| A) Mantarkaya | Barkan | Lös |
| B) Lös | Mantarkaya | Barkan |
| C) Mantarkaya | Lös | Barkan |
| D) Barkan | Lös | Mantarkaya |
| E) Barkan | Mantarkaya | Lös |

8) Aşağıda verilen kıtalardan hangisinde rüzgâr aşındırması ve biriktirmesi ile oluşan yer şekilleri daha azdır?

- A) Avrupa
- B) Asya
- C) Avustralya
- D) Kuzey Amerika
- E) Afrika

cografyahocasi.com

cografyahocasi.com

cografyahocasi.com

cografyahocasi.com

9) Mantarkaya, tafoni, yardang gibi yer şekillerinin etkili olduğu yerler için;

I. Sürekli rüzgarlar etkilidir.

II. Kurak iklimler etkilidir.

III. Günlük sıcaklık farkı azdır.

IV. Toprak oluşumu hızlıdır,

yargılarından hangileri kesin söylenebilir?

A) Yalnız II

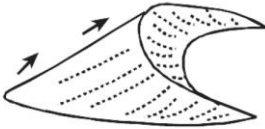
B) I ve II

C) II ve III

D) II ve IV

E) III ve IV

10)



Barkan

Yukarıdaki şekilde, rüzgârın etkileriyle oluşmuş ve barkan adı verilen kumul gösterilmiştir.

Bu yer şeklinin oluşmasında, aşağıdakilerden hangisinin etkili olduğu söylenemez?

A) Sıcaklık ortalamasının yüksek olması

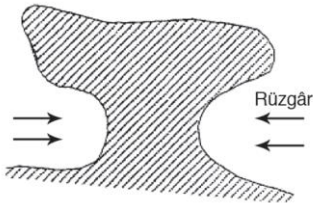
B) Bitki örtüsünden yoksun olması

C) Kurak iklimin görülmesi

D) Gevşek malzemeli zeminin bulunması

E) Mekanik çözülmenin kuvvetli olması

11)



Yukarıda rüzgârın aşındırmasıyla oluşan yer şekline ne ad verilir?

A) Barkan

B) Tafoni

C) Mantarkaya

D) Kayalık çöller

E) Kumullar

12) Günlük sıcaklık farkının yıllık sıcaklık farkından daha fazla olduğu, yağış rejimi olmayan bir iklim bölgesinde aşağıdaki yer şekillerinden hangisinin oluşması **beklenemez?**

A) Mantarkaya

B) Yardang

C) Kumullar

D) Barkan

E) Moren tepeleri

13) • Bitki örtüsünün cılız olması

• Sağanak yağışların etkili olması

• Yarı kurak iklimin görülmesi

Yukarıda verilen özelliklerin görüldüğü alanlarda, aşağıdaki yüzey şekillerinden hangisinin oluşması beklenir?

A) Yalıyar

B) Menderes

C) Lapy

D) Dev kazanı

E) Rüzgâr mağarası

14) Aşağıdaki etkenlerden hangisi arttığında, rüzgârın aşındırma etkisi **azalır?**

A) Yükselti

B) Yük miktarı

C) Mekanik çözülme

D) Sıcaklık farkı

E) Bitki örtüsü

15) Aşağıdakilerden hangisi, bir bölgede yeryüzünü şekillendirmede rüzgârların etkin olduğunun göstergesi olabilir?

A) Fay hatlarının bulunması

B) Günlük sıcaklık farkının fazla olması

C) Doğal bitki örtüsünün orman olması

D) Derince yarılmış vadilerin bulunması

E) Lapy ve dolin gibi yer şekillerine rastlanması