

1) Türkiye’de çalışma çağındaki nüfusun illere dağılımı göz önüne alındığında;

- I. Kars,
- II. İstanbul,
- III. Bayburt,
- IV. İzmir

illerinden hangilerinde okul öncesi eğitime olan talebin daha fazla olduğu söylenebilir?

- A) I ve II
- B) II ve III
- C) I ve III
- D) II ve IV
- E) III ve IV

2) Türkiye’de çocuk bağımlı nüfus oranının yüksek olmasında;

- I. işsiz nüfusun fazla olması,
- II. nüfus artış hızının yüksek olması,
- III. 65 yaş ve üzerindeki nüfusun az olması

nedenlerinden hangileri etkilidir?

- A) Yalnız I
- B) Yalnız II
- C) Yalnız III
- D) I ve II
- E) II ve III

3) Aşağıdakilerden hangisi Türkiye’nin gelişmişlik seviyesini göstermek için kullanılabilecek bir ölçüt değildir?

- A) Toplam nüfus miktarı
- B) Çalışma çağındaki nüfusun iş kollarına göre dağılımı
- C) Kişi başına düşen millî gelir
- D) Yaşlı bağımlılık oranı
- E) Doğurganlık oranı

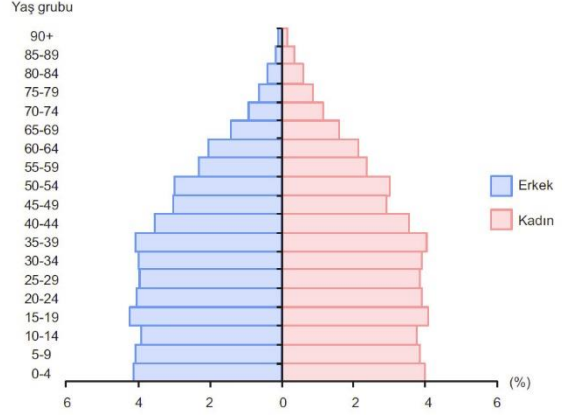
4) Türkiye nüfusunun 15 ile 64 yaş arasındaki grubuna ne ad verilir?

- A) Bağımlı nüfus
- B) Yaşlı nüfus
- C) Çocuk nüfus
- D) Çalışma çağındaki nüfus
- E) Kırsal nüfus

5) Piramit tipi 2050 yılında arı kovanı şeklinde olacak Türkiye için aşağıdakilerden hangisi söylenemez?

- A) Yaşlı nüfusun artacağı
- B) İhracatında işlenmiş mamullerin payının artacağı
- C) Çocuk bağımlılık oranının düşeceği
- D) Doğum oranlarının azalacağı
- E) Ortalama ömrün kısacağı

6) Aşağıda Türkiye’nin nüfus piramidi verilmiştir.



Yalnızca bu piramitteki bilgilerden yararlanarak aşağıdaki sorulardan hangisine cevap alınamaz?

- A) Çocuk nüfus oranı yaklaşık ne kadardır?
- B) Genel bağımlılık oranı ortalama ne kadardır?
- C) Üretici nüfusun miktarı ne kadardır?
- D) Nüfus özelliklerine göre hangi ülke grubuna girmektedir?
- E) Hangi yaş grubunun oranı daha fazladır?

7) Yandaki grafikte, 2016 yılı TÜİK verilerine göre Türkiye nüfusunun yaş gruplarına göre dağılışı gösterilmiştir.

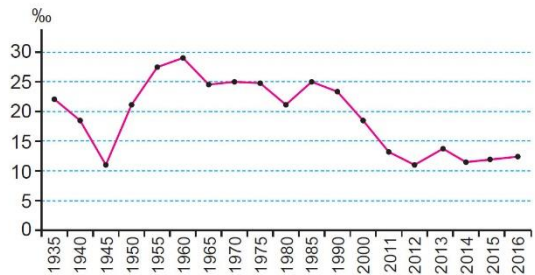


Yalnızca bu grafikteki bilgilerden yararlanarak

aşağıdakilerden hangisine ulaşamaz?

- A) Çalışma çağındaki nüfusun oranı %68’dir.
- B) Türkiye genç ve dinamik nüfuslu bir ülkedir.
- C) Türkiye’de dengeli bir cinsiyet dağılımı söz konusudur.
- D) Türkiye nüfusunun %8,3’ü yaşlıdır.
- E) Genç nüfusun oranı yaşlı nüfusun oranından fazladır.


8)



Yıllara göre Türkiye nüfus artış hızını gösteren grafikte, toplam nüfus hangi yılda en fazladır?

- A) 1960
- B) 1945
- C) 2016
- D) 1935
- E) 1985

9)



**Türkiye’de çalışan nüfusun sektörel dağılımının gösterildiği grafiklerle ilgili;**

- I. Üçüncül ekonomik faaliyetlerde çalışan nüfus oranının arttığı,
- II. Gelişmişlik seviyesinin arttığı,
- III. Birincil ekonomik faaliyetlerde çalışan nüfus oranının azaldığı

**bilgilerinden hangileri doğrudur?**

- A) Yalnız I      B) Yalnız II      C) Yalnız III  
D) I ve II      E) I, II ve III

- 10) I. Türkiye’de nüfus artışı üzerinde Hatay’ın ana vatana katılmasının etkisi vardır.**  
II. Türkiye’de il ve ilçe merkezlerinde yaşayanların oranı günümüzde daha fazladır.  
III. Türkiye’de nüfus artış hızı cumhuriyetin ilk yıllarından günümüze kadar sürekli aynı oranda gerçekleşmiştir.

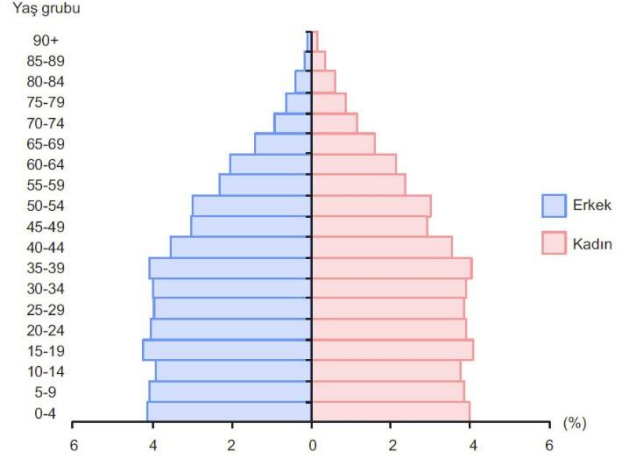
**Türkiye’nin nüfusuyla ilgili yukarıdaki ifadelerden hangileri doğrudur?**

- A) Yalnız I      B) Yalnız II      C) Yalnız III  
D) I ve II      E) I, II ve III

**11) Türkiye’nin nüfus özellikleriyle ilgili olarak verilen aşağıdaki bilgilerden hangisi doğrudur?**

- A) En çok nüfusa sahip olan il Ankara’dır.
- B) Tüm kentlerinde kadın nüfus miktarı daha fazladır.
- C) Nüfusunun dörtte üçünden fazlası kentlerde yaşamaktadır.
- D) En fazla göç alan bölge Doğu Anadolu’dur.
- E) Nüfus artış hızı çoğu Kuzeybatı Avrupa ülkesinden azdır.

**12) Aşağıda ülkemizin nüfus piramidi verilmiştir.**



**Piramitteki bilgilere göre aşağıdakilerden hangisine ulaşılabılır?**

- A) Kırsal nüfus miktarına
- B) İl ve ilçe merkezlerinde ikamet eden nüfus sayısına
- C) Üretici konumda olmayan nüfusun oranına
- D) Kadın nüfus miktarına
- E) Erkek nüfus miktarına

**13) Türkiye’de bazı illerde ortanca yaş değerinin 34-37 yaş arası olmasında,**

- I. ortalama yaşam süresinin uzun olması,
- II. doğum oranlarının az olması,
- III. yaşlı nüfus oranının fazla olması

**durumlarından hangileri etkili olmuştur?**

- A) Yalnız I      B) Yalnız II      C) Yalnız III  
D) II ve III      E) I, II ve III

**14) Türkiye’nin gerçek nüfus artış hızını;**

- I. doğumlar,
- II. dış göçler,
- III. iç göçler

**faktörlerinden hangileri etkilemez?**

- A) Yalnız I      B) Yalnız II      C) Yalnız III  
D) I ve II      E) II ve III

**15) I. Bebek ölümlerinin azalması**

- II. Doğumların artması
- III. Ortalama ömrün uzaması

**Yukarıda verilen gelişmelerden hangilerinin Türkiye’de üretici konumda olmayan 0-14 yaş arası nüfus oranını artırdığı söylenebilir?**

- A) Yalnız I      B) Yalnız II      C) Yalnız III  
D) I ve II      E) II ve III