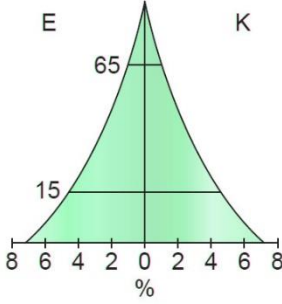


1)



Aşağıdakilerden hangisi yukarıda gösterilen nüfus piramidinin özellikleri arasında yer almaz?

- A) İçbükey kenarlı üçgen piramit şeklindedir.
- B) Doğurganlık oranı yüksektir.
- C) Genç nüfusun toplam nüfustaki oranı yüksektir.
- D) Yaşlı nüfus oranı yüksektir.
- E) Taban kısmı geniştir.

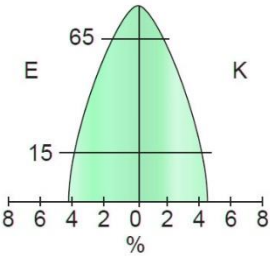
2) – Durağan nüfuslu gelişmiş bir ülkenin doğum oranlarını artırıcı bir politika izlemesi sonucu ortaya çıkar.

– ABD ve Kanada gibi göçmen kabul eden ülkelerin nüfus piramidi bu tipe örnek olarak verilebilir.

Bu piramit tipinin adı aşağıdakilerden hangisidir?

- A) Arı kovanı şekilli piramit
- B) Çan şekilli piramit
- C) Asimetrik şekilli piramit
- D) Kenarları içe çökük piramit
- E) Düzgün üçgen piramit

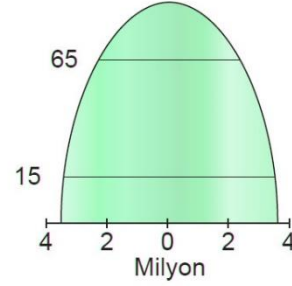
3)



Yukarıda gösterilen arı kovanı şekilli piramide sahip bir ülke için aşağıdakilerden hangisinin söylenmesi yanlış olur?

- A) Doğurganlık oranı düşüktür.
- B) Çocuk nüfus oranı azdır.
- C) Yaşlı bağımlılık oranı düşüktür.
- D) Nüfusun büyük kısmı şehirlerde yaşar.
- E) Nüfusun ikiye katlanma süresi uzundur.

4)



Yukarıdaki nüfus piramidine sahip bir ülke için;

- I. Gelişen nüfus tipindedir.
- II. Nüfusun ikiye katlanma süresi uzundur.
- III. Çocuk bağımlılık oranı yüksektir.

yorumlarından hangileri yapılamaz?

- A) Yalnız I
- B) Yalnız II
- C) Yalnız III
- D) I ve III
- E) II ve III

5) Aşağıdakilerden hangisi gelişmiş bir ülkenin nüfus yapısını yanıtmaz?

- A) Nüfusun doğal artış hızı düşüktür.
- B) Nüfusun yaşlanması söz konusudur.
- C) Nüfus daha çok kentlerde yaşar.
- D) Çalışan nüfusun yaş ortalaması düşüktür.
- E) Nüfusun büyük bölümü sanayi ve hizmet sektörlerinde istihdam edilir.

6) Nüfus piramitleri ile ilgili aşağıda verilen bilgilerden hangisi yanlıştır?

- A) Sanayi Devrimi öncesi toplumların çoğunun nüfus piramidi arı kovanı şeklindedir.
- B) Düşük doğum ve ölüm oranlarının görüldüğü ülkelerin nüfus piramidi arı kovanı şeklindedir.
- C) 0 - 5 yaş grubundaki ölüm oranlarının azalmaya başladığı ancak doğum oranlarının yüksek olduğu ülkelerin piramidi kenarları içe çökük bir özellik gösterir.
- D) Asimetrik piramit, doğum oranında hızlı bir düşüş görüldüğü, ölüm oranının da düşük olduğu ülkelere özgüdür.
- E) Çan şeklindeki piramit, uzun bir zaman sürecinde düşük doğum ve ölüm oranlarından sonra doğum oranlarının arttığını gösterir.

7) 0 - 14 yaş arası çocuk nüfus oranı fazla olan ülkelerde aşağıdaki özelliklerden hangisi **görülmez**?

- A) Nüfusun ikiye katlanma süresi kısadır.
- B) Tarım sektöründe çalışanların oranı fazladır.
- C) İhracatında ham maddeye dayalı ürünler önemli yer tutar.
- D) Sağlık hizmetleri fazla gelişmemiştir.
- E) Toplam nüfusta yaşlı nüfus oranı fazladır.

8) I. Eğitim koşullarının iyileşmesi

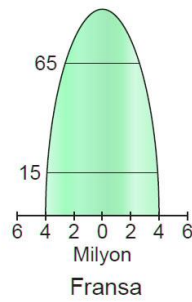
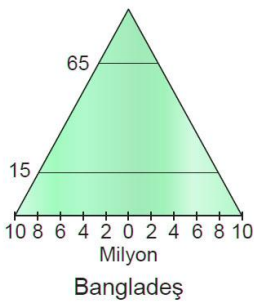
II. Ekonomik koşulların iyileşmesi

III. Nüfus artış oranının düşmesi

Düzgün üçgen nüfus piramidine sahip bir ülkede yukarıdakilerden hangilerinin gerçekleşmesi hâlinde nüfus piramidi, gelişmemiş ülke piramidinden gelişmekte olan ülke piramidine ve daha sonra gelişmiş ülke piramidine geçiş yapabilir?

- A) Yalnız I
- B) Yalnız II
- C) Yalnız III
- D) II ve III
- E) I, II ve III

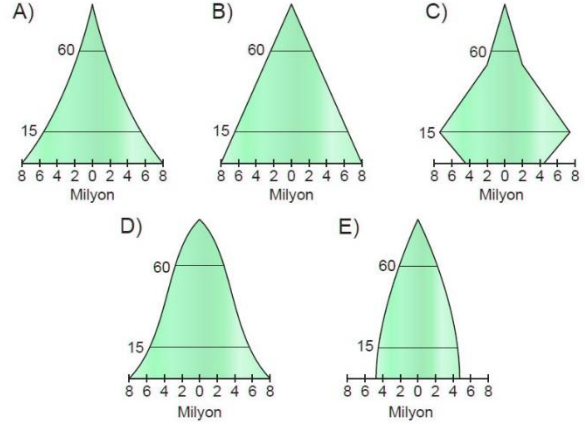
9) Aşağıdaki nüfus piramitleri Bangladeş ve Fransa'nın 2015 yılı nüfus yaş gruplarının dağılımını göstermektedir.



Nüfus piramitlerine bakılarak bu iki ülke ile ilgili olarak aşağıdaki çıkarımlardan hangisi yapılamaz?

- A) Bangladeş'te okuryazar oranı düşüktür.
- B) Fransa'da yaşlı nüfus oranı yüksektir.
- C) Bangladeş'te doğum oranları yüksektir.
- D) Fransa'da kentsel nüfus daha fazladır.
- E) Bangladeş'te kadınların iş hayatına katılımı yüksektir.

10) Aşağıdakilerden hangisi uzun bir zaman sürecinde düşük doğum ve ölüm oranlarından sonra doğum oranlarının arttığını gösteren **çan şekilli piramittir**?



11) I. Ekonomik özellikleri

II. Cinsiyet yapısı

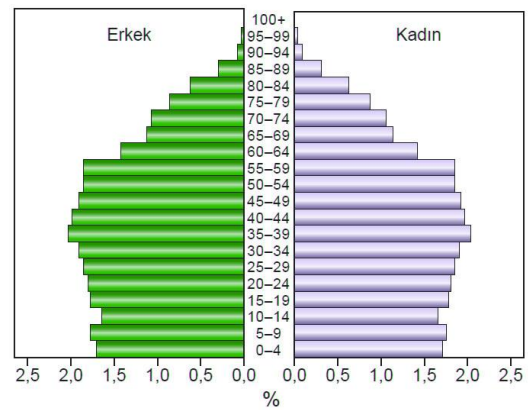
III. Tarımsal nüfus yoğunluğu

IV. İklim şartları

Nüfus piramitlerine bakılarak ülkeler ile ilgili yukarıdakilerden hangileri hakkında bilgi sahibi olunamaz?

- A) I ve II
- B) I ve III
- C) II ve III
- D) II ve IV
- E) III ve IV

12) Aşağıda bir ülkenin nüfus piramidi verilmiştir.



Yalnızca bu piramitteki bilgilerden yararlanarak aşağıdaki sorulardan hangisine cevap alınamaz?

- A) Genel bağımlılık oranı ortalama ne kadardır?
- B) Çocuk nüfus oranı yaklaşık ne kadardır?
- C) Nüfus özelliklerine göre hangi ülke grubuna girmektedir?
- D) Üretici nüfusun miktarı ne kadardır?
- E) Hangi yaş grubunun oranı daha baskındır?