



10. SINIF KONU TESTLERİ

19

NÜFUSUN ÖZELLİKLERİ ve DAĞILIŞI

1) Aşağıdakilerden hangisi nüfus artış hızının yükselmesinin olumsuz sonuçları arasında gösterilemez?

- A) Millî gelirin azalması
- B) Tasarrufların azalması
- C) Demografik yatırımların artması
- D) Mal ve hizmetlere olan talebin artması
- E) Dış borçların artması

2) Doğurganlığın yüksek olması nedeniyle nüfus artışı en hızlı olan kıta aşağıdakilerden hangisidir?

- A) Amerika
- B) Afrika
- C) Avrupa
- D) Asya
- E) Amerika

3) I. Kırdan kente göç
II. Ölümler
III. Dış göçler

Yukarıdakilerden hangileri bir ülkedeki nüfus miktarının değişim nedenleri arasında gösterilemez?

- A) Yalnız I
- B) Yalnız II
- C) Yalnız III
- D) I ve II
- E) II ve III

4) Aşağıdaki ülkelerden hangisinde diğer ülkelere göre ulusal refahın ve harcamaların daha büyük kısmı yaşlıların bakımına ve diğer sorunlarına ayrılmaktadır?

- A) Japonya
- B) Türkiye
- C) Afganistan
- D) Nijerya
- E) Mısır

5) I. Sanayi
II. Verimli tarım alanları
III. Bitki örtüsü

Dünya'da nüfusun alansal dağılışında yukarıdakilerden hangileri etkili olmuştur?

- A) Yalnız I
- B) Yalnız II
- C) Yalnız III
- D) I ve II
- E) I, II ve III

6) Aşağıdakilerden hangisi nüfus artış hızını azaltan faktörlerden biridir?

- A) Bebek ölüm oranlarının azalması
- B) Savaşların azalması
- C) Sağlık hizmetlerinin yaygınlaşması
- D) Kadınların çalışma hayatına daha fazla girmesi
- E) Erken yaşta evliliğin teşvik edilmesi

7) Dünya nüfusu yeryüzüne eşit ve dengeli dağılmamış, kıtalara ve ülkelere göre farklılık göstermektedir.

Buna göre Avustralya ülkesinin diğer ülkelere göre çok daha az nüfuslanmasında aşağıdakilerden hangisinin etkisi yoktur?

- A) Ülkenin büyük bölümünü çöllerin kaplaması
- B) Su kaynaklarının yetersizliği
- C) Kurak bir iklimin çok geniş alanlarda etkili olması
- D) Geç keşfedilmiş bir yer olması
- E) Sık ormanların bulunması

8) Bir ülkede kalkınma hızı nüfus artış hızından düşükse demografik yatırımlar, enflasyon, işsizlik ve dış borçlar artar.

Aşağıdaki ülkelerden hangisinde bu sorunların daha fazla yaşandığı söylenebilir?

- A) Fransa
- B) Finlandiya
- C) Afganistan
- D) Kanada
- E) İsveç

9) I. Haiti
II. Finlandiya
III. Almanya
IV. Fransa
V. Kanada

Yukarıdaki ülkelerden hangisinde doğum oranları en yüksektir?

- A) I
- B) II
- C) III
- D) IV
- E) V

cogrfyahocasi.com

cogrfyahocasi.com

cogrfyahocasi.com

cogrfyahocasi.com

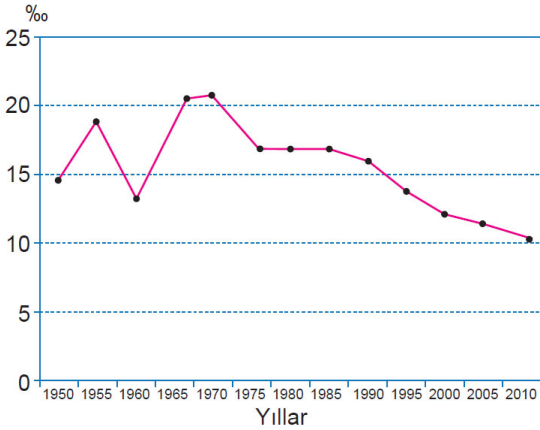
10) Aşağıdaki tabloda bazı ülkelerin 2015 yılına ait kent nüfus oranları ile yıllık ortalama kentleşme hızları verilmiştir.

Kentler	Yıllık Ortalama Kentleşme Hızı (%)	Kent Nüfus Oranları (%)
Belçika	0,2	98
Fransa	0,5	87
Burundi	7	12
Tunus	2	68
Kazakistan	1,5	55

Bugünkü yıllık ortalama kentleşme hızları dikkate alındığında gelecek on yılda hangi ülkenin kentli nüfus oranı diğerlerine göre daha az artış gösterecektir?

- A) Belçika
- B) Fransa
- C) Burundi
- D) Tunus
- E) Kazakistan

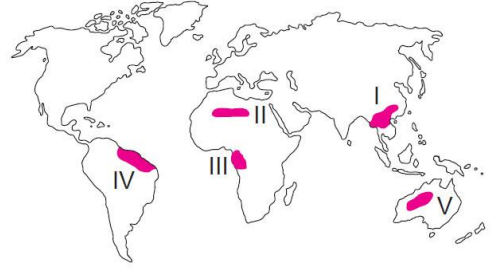
11) Aşağıda 1950 - 2010 yılları arasında bazı yıllara ait dünya nüfus artış oranları gösterilmiştir.



Grafikteki bilgilere göre aşağıdakilerden hangisine ulaşamaz?

- A) Nüfus artış oranı 1965 - 1970 yılları arasında en yüksektir.
- B) En düşük nüfus artış oranı 2010 yılında gerçekleşmiştir.
- C) 1985'ten 2010'a kadar nüfus artış oranı sürekli düşüş göstermiştir.
- D) Nüfus artış oranının oransal olarak en fazla arttığı dönem 1960 - 1965 yılları arasındır.
- E) Bazı dönemlerde nüfus miktarı azalmıştır.

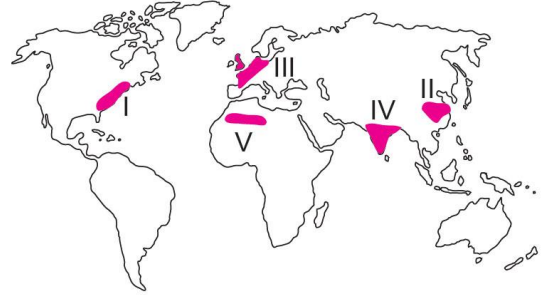
12)



Yukarıdaki haritada numaralandırılarak gösterilen alanların hangisinde nüfus yoğunluğu daha fazladır?

- A) I
- B) II
- C) III
- D) IV
- E) V

13) Dünya'da nüfusun seyrek ve yoğun olduğu yerler vardır.



Haritada numaralanmış koyu renkli alanlardan hangisinde nüfus seyrek?

- A) I
- B) II
- C) III
- D) IV
- E) V

14) Aşağıdaki tabloda bazı ülkelerin 2015 yılına ait doğal ve gerçek nüfus artış hızları gösterilmiştir.

Ülkeler	Doğal Nüfus Artış Hızı(‰)	Gerçek Nüfus Artış Hızı (‰)
Fransa	3,8	4,9
Cook Adaları	9,5	-22,1
Liberya	26,6	45,5
Macaristan	-2,1	-3,0
Endonezya	11,8	11,6

Yukarıdaki tabloda verilen ülkelerden hangilerinin dışarıdan göç aldığı söylenebilir?

- A) Yalnız Fransa
- B) Yalnız Cook Adaları
- C) Fransa ve Liberya
- D) Liberya ve Macaristan
- E) Macaristan ve Endonezya