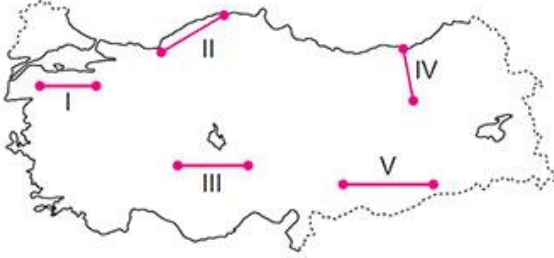


1)



Yukarıdaki haritada gösterilen doğrultuların hangisinde, yükselti farkına bağlı olarak daha fazla bitki çeşidi görülmesi beklenir?

- A) I B) II C) III D) IV E) V

2) • Tipik bir Akdeniz ağacıdır.

- Tepe kısmı gençlik döneminde yuvarlak, yaşlılık döneminde ise şemsiye gibidir.
- Tohumları Batı Anadolu köylüleri için önemli bir gelir kaynağıdır.

Yukarıda özellikleri verilen ağaç türü aşağıdakilerden hangisidir?

- A) Kızılçam B) Fıstık çamı C) Sarıçam
D) Sığla ağacı E) Meşe

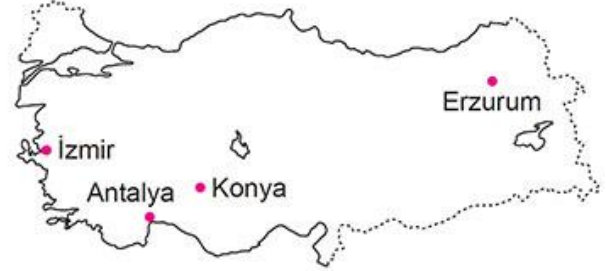
3) Aşağıdakilerden hangisi Türkiye'nin bitki örtüsü ile ilgili doğru bir bilgi değildir?

- A) Endemik bitkiler en çok Kuzey Anadolu Dağları kuşağında bulunur.
B) Mezozoik ve Neozoik'te oluşmuş relict bitki türleri mevcuttur.
C) Ergene havzası ile Anadolu'nun iç ve doğu kesimlerinde antropojen bozkırlara rastlanılabilir.
D) Ormanların büyük çoğunluğu kıyı kesimlerde yer almaktadır.
E) Bitki türlerinin sayısı bakımından Dünya'nın en zengin ülkelerinden biridir.

4) Aşağıda verilen yerlerin hangilerinde doğal bitki örtüsünün benzer olduğu söylenebilir?

- A) Taşeli ve Biga yarımadalari
B) Antalya ve Rize yöreleri
C) Kapıdağ ve Sinop yarımadalari
D) Adana ve Erzurum şehirleri
E) Doğu Karadeniz ve Hakkâri bölümleri

5)



Yukarıdaki haritada verilen illerde yaygın olarak görülen bitki örtüsü aşağıdakilerden hangisinde doğru olarak verilmiştir?

- | | <u>Antalya</u> | <u>İzmir</u> | <u>Konya</u> | <u>Erzurum</u> |
|-----------|----------------|--------------|--------------|----------------|
| A) Bozkır | Çayır | Maki | Orman | |
| B) Maki | Maki | Bozkır | Çayır | |
| C) Çayır | Maki | Orman | Bozkır | |
| D) Çayır | Çayır | Bozkır | Orman | |
| E) Maki | Çayır | Orman | Bozkır | |

6) Türkiye'nin iç kesimlerinde eskiden var olan meşe ormanlarının insanlar tarafından tahrip edilmesi sonucu Anadolu'nun iç ve doğu kesimleri ile Ergene havzası gibi yerlerde oluşan bitki topluluğu aşağıdakilerden hangisidir?

- A) Psödomaki
B) Çayır
C) Maki
D) Antropojen bozkır
E) Garig

7) Aşağıdakilerden hangisi Türkiye'de görülen endemik bitki türlerinden biri değildir?

- A) Datça hurması
B) Sığla ağacı
C) Anzer çayı
D) Kızılçam
E) İspir meşesi

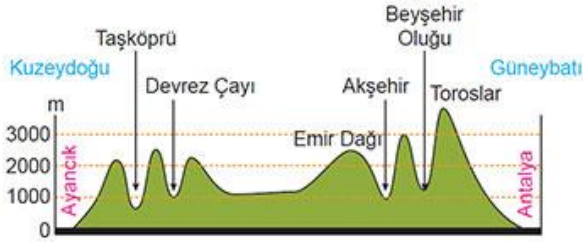
8) Türkiye'de makilerin tahrip edilmesiyle ortaya çıkmış bitki örtüsü aşağıdakilerden hangisidir?

- A) Antropojen bozkır
B) Garig
C) Psödomaki
D) Alpin çayır
E) Yalancı maki

9) İklim özellikleri göz önüne alındığında, Türkiye'de aşağıdaki doğal bitki örtüsü türlerinden hangisine rastlanmaz?

- A) İğne yapraklı orman
- B) Maki
- C) Savan
- D) Bozkır
- E) Çayır

10) Aşağıda Sinop-Ayancık ile Antalya arasının kesiti verilmiştir.



Sinop – Ayancık'tan Antalya'ya doğru alınan kesitte görülebilecek bitki örtüsü sıralaması hangi seçenekte doğru verilmiştir?

- A) Orman, maki, antropojen bozkır, bozkır
- B) Maki, antropojen bozkır, çayır, maki
- C) Orman, antropojen bozkır, bozkır, orman, maki
- D) Çayır, antropojen bozkır, bozkır, orman, maki
- E) Orman, maki, çayır, maki

11) Türkiye'de Akdeniz ikliminin görüldüğü yerlerde, kızılcamların tahrip edildiği kıyı kuşağında geniş alanlar kaplayan, daima yeşil kalan, bodur ağaç ve çalılardan oluşan bitki topluluğu aşağıdakilerden hangisidir?

- A) Antropojen bozkır
- B) Psödomaki
- C) Garig
- D) Maki
- E) Bozkır

12) Türkiye'de endemik bitki türlerine en çok nerede rastlanır?

- A) Toros Dağları
- B) Yıldız Dağları
- C) Sinop Yarımadası
- D) Iğdır Ovası
- E) Trakya Yarımadası

13) Aşağıdaki yerlerde görülen bitki topluluğu hangisinde yanlış verilmiştir?

- A) Datça Yarımadası -- Zeytin
- B) Menteşe Yöresi -- Kızılcam ormanları
- C) Hakkâri Yöresi -- Zakkum
- D) Kars ve çevresi -- Kardelen
- E) Ergene havzası -- Antropojen bozkır

14) Türkiye'de Akdeniz ikliminin etkili olduğu alanlardaki doğal bitki örtüsü için,

- I. Yıl boyunca yeşil kalırlar.
- II. Kuraklığa dayanıklıdır.
- III. Soğuğa dayanıklıdır.

İfadelerinden hangileri yanlıştır?

- A) Yalnız I
- B) Yalnız II
- C) Yalnız III
- D) I ve II
- E) II ve III

15)



Yukarıdaki haritada işaretlenen noktaların bitki örtüsü aşağıdaki seçeneklerin hangisinde doğru olarak verilmiştir?

	Orman	Bozkır	Maki
A)	I	II	III
B)	I	III	II
C)	III	II	I
D)	III	I	II
E)	II	III	I