

1)



Yukarıdaki haritada hangi toprak tipinin dağılışı gösterilmiştir?

- A) Çernezyom
- B) Kahverengi orman
- C) Kahverengi ve kestane renkli bozkır
- D) Terra rossa
- E) Alüvyal

2) 1 cm kalınlıktaki toprağın oluşabilmesi için en az 100 – 150 yıllık bir zamanın geçmesi gerekir. Kimyasal çözünmenin etkili olduğu iklim bölgelerinde toprak daha çabuk oluşur.

Buna göre, aşağıdaki şehirlerden hangisinde aynı kalınlıktaki toprak oluşumu için gereken zaman daha kısadır?

- A) Iğdır
- B) Konya
- C) Rize
- D) Şanlıurfa
- E) Ankara

3) Genellikle üzerinde buğday, arpa, şeker pancarı tarımı ve küçükbaş mera hayvancılığı yapılan, Türkiye'nin iç kesimlerinde yaygın olarak görülen toprak tipi aşağıdakilerden hangisidir?

- A) Podzol
- B) Kahverengi orman
- C) Kahverengi ve kestane renkli bozkır
- D) Terra rossa
- E) Çernezyom

4) Aşağıdakilerin hangisinde ülkemizde yetiştirilen bir tarım ürünü, üretimin en fazla yapıldığı toprakla birlikte verilmiştir?

- A) Buğday - Alüvyal
- B) Zeytin - Çernezyom
- C) Çay - Kahverengi bozkır
- D) Turunçgil - Terra rossa
- E) Fındık - Kestane renkli step

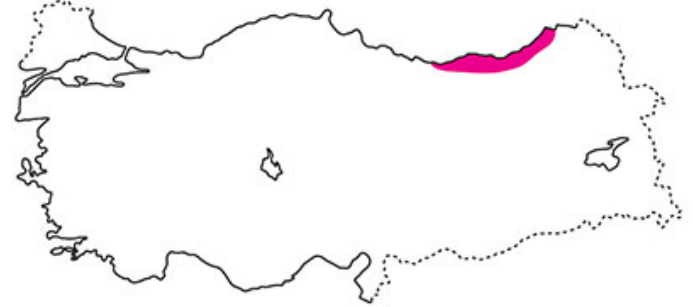
5) Erzurum - Kars çevresinde ve Doğu Karadeniz Dağları'nda görülen Çernezyomlar verimli olmalarına rağmen bu topraklarda fazla tarım yapılamamasını aşağıdakilerden hangisiyle açıklayabiliriz?

- A) Çayırların altında gelişmesiyle
- B) Bulunduğu yerlerde sıcaklıkların yetersiz olmasıyla
- C) Toprağın humus bakımından zengin olmasıyla
- D) Nadas uygulamasının yaygın olmasıyla
- E) Toprağın tuz oranının fazla olmasıyla

6) İklimleri göz önüne alındığında, aşağıdaki bölümlerin hangisinde nemli bölge toprakları görülmesi beklenir?

- A) Orta Fırat
- B) Dicle
- C) Konya
- D) Batı Karadeniz
- E) Orta Kızılırmak

7) Aşağıdaki haritada Türkiye'de çay tarımının yapıldığı alanlar gösterilmiştir.



Buna göre, çay tarımının yapıldığı alanların ortak özelliği aşağıdakilerden hangisidir?

- A) Kış aylarında don olayları sıkça yaşanır.
- B) Yıllık ortalama güneşlenme süresi fazladır.
- C) Yaz mevsimi sıcak ve kuraktır.
- D) Yıkanmış, tuz ve kireç bakımından fakir asitli topraklar yaygındır.
- E) Yıllık toplam yağış tutarı 500 mm'nin altındadır.

8) Türkiye'de Çarşamba, Bafra ve Silifke gibi ovalarda yaygın olarak bulunan alüvyal topraklarda horizonların oluşmamasının nedeni aşağıdakilerden hangisidir?

- A) Toprak yüzeyinin akarsuların taşıyıp getirdiği malzemeler ile sürekli yenilenmesi
- B) Mineral ve organik madde bakımından zengin olması
- C) Geçirimlilik derecesinin yüksek olması
- D) Toprağın aşırı işlenmesi
- E) Yer altı suyu bakımından zengin olması

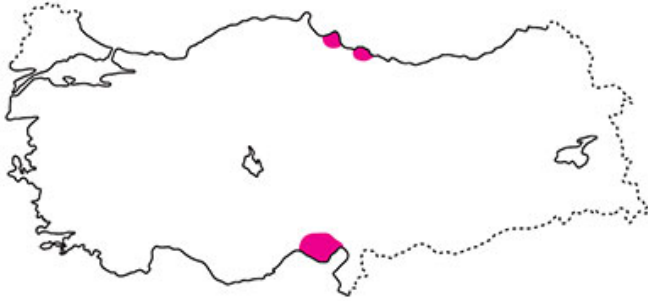
9) • Trakya'da bu topraklar üzerinde buğday ve ayçiçeği tarımı yapılmaktadır.

- Sulama ile çok verimli tarım topraklarına dönüşebilir.
- Kil oranı fazla olan bu toprakların işlenmesi zordur.
- Yaz aylarında yüzeyinde derin çatlaklar oluşur.

Yukarıda bazı özellikleri verilen toprak tipi aşağıdakilerden hangisidir?

- A) Vertisol B) Litosol C) Regosol
D) Kolüvyal E) Podzol

10)



Yukarıdaki haritada gösterilen koyu renkli alanlarda hangi toprak yaygın olarak görülür?

- A) Regosoller B) Tera rossalar
C) Alüvyaller D) Çernezyomlar
E) Podzoller

11) "Küçükbaş mera hayvancılığı özellikle koyun yetiştiriciliği ve tahıl tarımı başlıca ekonomik etkinliklerimizdendir. Yaşadığım yer ve çevresi Türkiye'nin tahıl üretiminde önemli bir bölgedir. Her ne kadar gübre ve kaliteli tohum kullanıp düz bir yerde rahat bir şekilde, makineli tarım yapsak da üretimimizde yıldan yıla dalgalanmalar görülür." **diyen bir çiftçi aşağıdaki yerlerden hangisinden söz etmektedir?**

- A) Doğu Karadeniz kıyıları B) Muğla ve çevresi
C) Hakkâri Yöresi D) Taşeli Platosu
E) Konya Ovası

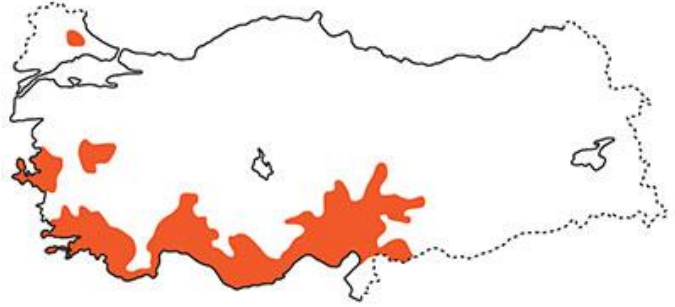
12) Türkiye topraklarında erozyonun fazla olmasında;

- I. eğimin fazla olması,
II. bitki örtüsünün cılız olması,
III. tarlaların nadasa bırakılması

faktörlerinden hangileri etkilidir?

- A) Yalnız I B) Yalnız II C) Yalnız III
D) I ve II E) I, II ve III

13)



Yukarıdaki haritada hangi toprak tipinin dağılışı gösterilmiştir?

- A) Terra rossa
B) Kahverengi orman
C) Kastane renkli bozkır
D) Vertisol
E) Podzol

14) Aşağıdaki toprak çeşitlerinden hangisi vadi tabanlarındaki düzlüklerde, birikinti ovalarında, delta ovalarında ve eski göl tabanlarında yaygın olarak bulunur?

- A) Regosol
B) Moren
C) Litosol
D) Alüvyal
E) Kolüvyal

15)



Yukarıdaki haritada koyu renkli alanlarda hangi toprak tipinin dağılışı gösterilmiştir?

- A) Kara topraklar
B) Kahverengi ve kestane renkli bozkır toprakları
C) Kahverengi orman toprakları
D) Terra rossa toprakları
E) Alüvyal topraklar