

1) Suyun Dünya'daki dağılımı ile ilgili aşağıdaki bilgilerden hangisi doğrudur?

- A) Dünya'daki bütün su varlığı içerisinde tatlı suların payı en fazladır.
- B) Nehirler ve bataklıklar karalardaki tatlı su kaynaklarıdır.
- C) Tatlı suyun en fazlasını yer altı suları oluşturur.
- D) Göller, tatlı yüzey sularının en küçük kısmını oluşturur.
- E) Yeryüzündeki su kaynaklarının dağılışı dengelidir.

2) Grönland

II. Antarktika

III. Mısır

IV. İber Yarımadası

Yukarıdaki yerlerden hangilerinde buz hâlinde depolanmış tatlı su miktarı daha fazladır?

- A) I ve II
- B) I ve III
- C) II ve III
- D) II ve IV
- E) III ve IV

3) I. Japon Denizi

II. Umman Denizi

III. Bengal Denizi

IV. Sarı Deniz

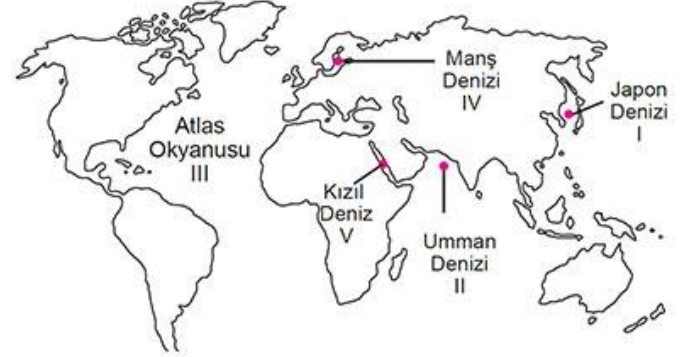
Yukarıdaki denizlerden hangileri Asya Kıtası'nın doğu kıyılarında yer alır?

- A) I ve II
- B) I ve III
- C) II ve III
- D) I ve IV
- E) II, III ve IV

4) Aşağıdaki denizlerden hangisi Asya Kıtası'nın kenar denizleri arasında gösterilemez?

- A) Japon Denizi
- B) Umman Denizi
- C) Bengal Körfezi
- D) Basra Körfezi
- E) Sarı Deniz

5)



Yukarıdaki haritada numaralandırılarak verilen deniz ve okyanuslardan hangisi yanlış isimlendirilmiştir?

- A) I
- B) II
- C) III
- D) IV
- E) V

6) Aşağıdakilerden hangisi gideğeni olmayan göllerin bir özelliğidir?

- A) Suları sıcaktır.
- B) Havzaları açıktır.
- C) Derinlikleri fazladır.
- D) Çanaklarının kayaç yapısı karstiktir
- E) Suları acı, sodalı, tuzlu veya kireçlidir.

7) I. Aral

II. Baykal

III. Lut

Yukarıda verilen göllerden hangileri oluşum bakımından tektonik göller grubundadır?

- A) Yalnız I
- B) Yalnız II
- C) Yalnız III
- D) I ve II
- E) I, II ve III

8) Set gölleri, vadi, tektonik çukurluk veya koy gibi yer şekillerinin önünün herhangi bir malzemeyle kapanması sonucu meydana gelen göllerdir.

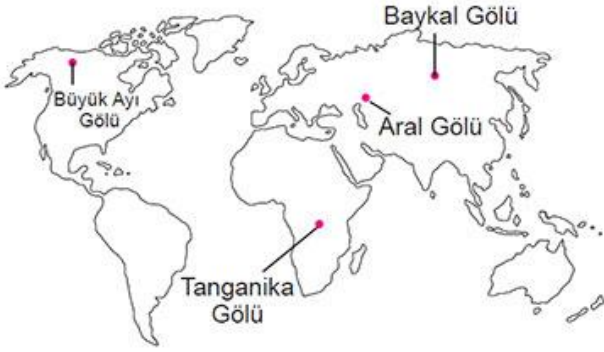
Buna göre;

- I. lav,
- II. alüvyon,
- III. moren

unsurlarından hangilerinin set göllerinin oluşumunda etkili olduğu söylenebilir?

- A) Yalnız I
- B) Yalnız II
- C) Yalnız III
- D) I ve II
- E) I, II ve III

9)



Yukarıdaki haritada verilen göllerle ilgili olarak aşağıdakilerden hangisi söylenemez?

- A) Büyük Ayı Gölü'nde yılın bir bölümünde yüzey donması yaşanır.
- B) Baykal Gölü yapay göle bir örnektir.
- C) Aral ve Tanganika gölleri oluşum bakımından tektonik göllere örnektir.
- D) Büyük Ayı Gölü oluşum bakımından diğerlerinden farklıdır.
- E) Verilen göller içinde yüzey sıcaklığı en fazla olan Tanganika Gölü'dür.

10) I. Fay kaynağı, kırıklı yapıların bulunduğu yerlerde fay hattı boyunca yüzeye çıkan sıcak su kaynağıdır.

II. Gayzerler, volkanik alanlarda yerin derinliklerindeki sıcak gazların uyguladığı basıncın etkisiyle yeryüzüne su ve buhar şeklinde püskürerek çıkan sulardır.

III. Karstik kaynaklar iki geçirimsiz tabaka arasındaki geçirimli tabakada biriken suların sondaj yapılarak yeryüzüne çıkarılmasıyla oluşan kaynaklardır.

Yukarıda yer altı suları ve kaynaklarla ilgili verilen bilgilerden hangileri yanlıştır?

- A) Yalnız I
- B) Yalnız III
- C) I ve II
- D) I ve III
- E) I, II ve III

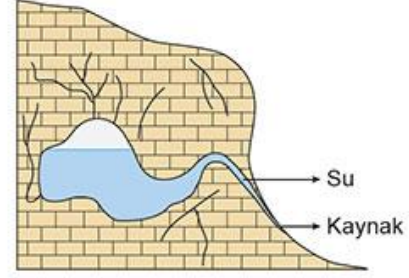
11) Amazon, Kongo, Elbe ve Thames nehirlerinden ulaşımda yararlanılması,

- I. havzalarının açık olması,
- II. akımlarının (debi) yüksek olması,
- III. boylarının uzun olması,
- IV. rejimlerinin düzenli olması

etmenlerinden hangilerine bağlanabilir?

- A) I ve II
- B) I ve III
- C) I ve IV
- D) II ve III
- E) II ve IV

12)



cogrfyahocasi.com

cogrfyahocasi.com

cogrfyahocasi.com

cogrfyahocasi.com

Aşağıdakilerden hangisi yukarıdaki şekilde gösterilen kaynağın özelliklerinden biri değildir?

- A) Yağmur sularıyla beslenmesi
- B) Karstik arazilerde görülmeleri
- C) Fay hatları boyunca yüzeye çıkmaları
- D) Sularının bol miktarda kireç içermesi
- E) Sularının soğuk olması

13) Yer üstü sularının yer altına sızmasında;

I. kireç taşı, kum taşı, çakıl taşı ve tuf gibi kayaların varlığı,

II. yağış miktarı ve türü,

III. arazinin eğim derecesi,

- IV. ortalama yükselti

faktörlerinden hangileri etkilidir?

- A) Yalnız I
- B) Yalnız II
- C) Yalnız III
- D) I, II ve III
- E) II, III ve IV

14) Ekvatorial iklim bölgesinde bulunan Amazon ve Kongo nehirlerinin yıl içindeki akımları Muson iklim bölgesinde yer alan Ganj ve İndus nehirlerine göre daha düzenlidir.

Bu durumun en önemli nedeni aşağıdakilerden hangisidir?

- A) Havzalarının geniş olması
- B) Denize dökülmeleri
- C) Boylarının uzun olması
- D) Açık havzalı olmaları
- E) Yağış rejimlerinin düzenli olması

15) • Sularını durup durup fişkırtan sıcak su kaynağı.

• Yalnızca aktif yanardağ bölgelerinde bulunurlar.

• İzlanda, Yeni Zelanda, ABD, Japonya, Meksika başlıca bulunduğu bölgelerdir.

Yukarıda bazı özellikleri verilen kaynak çeşidi aşağıdakilerden hangisidir?

- A) Gayzer
- B) Karstik
- C) Fay
- D) Yamaç
- E) Artezyen