

1) Tropikal iklim bölgesinde sıcak sularda yaşayan deniz canlıların ölmesi ve fosilleşmesi sonucu oluşan kıyı tipi aşağıdakilerden hangisidir?

- A) Haliç tipi kıyılar
- B) Mercan tipi kıyılar
- C) Fiyort tipi kıyılar
- D) Dalmaçya tipi kıyılar
- E) Skyer tipi kıyılar

2)



Yukarıdaki kıyı tipinin görüldüğü bir sahada aşağıdaki bilgilerden hangisine ulaşamaz?

- A) İç denizlerde yaygın olarak görülür
- B) Tombolo, lagün, kıyı oku gibi yer şekilleri görülür
- C) Dalga birikim şekillerine rastlanır
- D) Gel-git etkisi fazladır
- E) Limanlı kıyı tipidir

3) • Kıta sahanlığı geniştir

- Koy, körfez, doğal liman yönünden zengindir
- Limanların hinterlandı dardır
- Kıyı derinliği fazladır
- Gerçek uzunluk ile kuş uçuşu uzunluk arasındaki fark fazladır

Yukarıda enine kıyı tipi ile ilgili verilen bilgilerden kaç tanesi doğrudur?

- A) 1
- B) 2
- C) 3
- D) 4
- E) 5

4) Boyuna kıyı tipi ile ilgili olarak;

- I. Kıyıda girinti çıkıntı fazladır
  - II. Kıta sahanlığı dardır
  - III. Doğal liman sayısı fazladır
  - IV. Denizden gelen nemli hava iç kesimlere ulaşamaz
- gibi yargılardan hangisine ulaşılabilir?

- A) I ve II
- B) I ve IV
- C) II ve III
- D) II ve IV
- E) III ve IV

5) Enlem herhangi bir noktanın açı cinsinden Ekvator'a olan uzaklığıdır. Enlem bazı kıyı tiplerinin oluşumunda etkilidir.

Buna göre, aşağıda verilen kıyı tiplerinin hangisinin oluşumu üzerinde enlemin etkisi daha fazladır?

- A) Enine kıyı
- B) Boyuna kıyı
- C) Ria tipi kıyı
- D) Mercanlı kıyı
- E) Dalmaçya tipi kıyı

6)



Yukarıda verilen kıyı tipinin görüldüğü bir yöre için aşağıdaki bilgilerden hangisine ulaşamaz?

- A) Körfez ve doğal limanlar fazladır
- B) Kıyı ile iç kesim arasındaki ulaşım kolaydır
- C) Orografik (yamaç) yağıştan yaygındır
- D) Denizel iklim iç kesimlere kadar sokulabilir
- E) Limanların hinterlandı geniştir

7) Deniz seviyesinin yükselmesi veya karanın çökmesi sonucu deltaların alçak kısımlarının sular altında kalmasıyla oluşan kıyı tipi aşağıdakilerden hangisidir?

- A) Haliçli kıyı
- B) Marşlı kıyı
- C) Ria tipi kıyı
- D) Fiyortlu kıyı
- E) Skayer tipi kıyı

8) I. Haliç

II. Watt

III. Ria

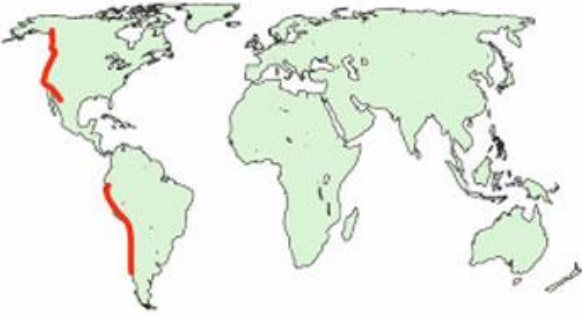
IV. Fiyort

V. Dalmaçya

Yukarıdaki kıyı tiplerinin hangi ikisinin oluşumunda gel-git olayı etkili olmuştur?

- A) I ve II
- B) II ve III
- C) III ve IV
- D) III ve V
- E) IV ve V

9)



Yukarıda verilen dünya haritasında taralı olarak gösterilen alanlarda aşağıdaki kıyı tiplerinden hangisi görülür?

- A) Enine B) Limanlı  
C) Ria D) Boyuna  
E) Dalmaçya

10) Kıyıların bazılarında yüksek uçurumlar yer alırken bazı kıyılarda ise geniş kumsallar bulunmaktadır. Kıyılarıdaki bu şekillerin oluşumuna birçok faktör etkili olmaktadır.

Buna göre, bu tip kıyıların ilk şeklini almasında etkili olan birinci etken aşağıdakilerden hangisidir?

- A) İç kuvvetler B) Rüzgârlar  
C) Buzullar D) Dalgalar  
E) Akarsular

- 11) I. Skyer  
II. Watt  
III. Ria  
IV. Fiyort  
V. Dalmaçya

Yukarıda verilen kıyı tiplerinden hangi ikisinin oluşumunda buzullar etkili olmuştur?

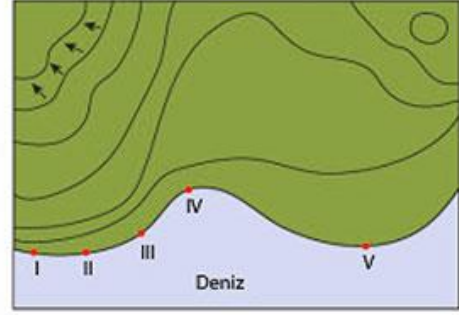
- A) I ve III B) I ve IV C) II ve V  
D) III ve IV E) IV ve V

12) Uluslararası kara yolu taşımacılığında mesafeleri kısaltan ve ulaşımı kolaylaştıran Ro-Ro gemileri kullanılmaktadır. Ro-Ro gemileri ile tekerlekli ulaşım araçları taşınmaktadır.

Buna göre, Ro-Ro gemileri aşağıdaki kıyı tiplerinden hangisine yanaşır ise taşıdığı ulaşım araçlarının kara içlerine geçmesi daha zor sağlanır?

- A) Haliçli B) Limanlı C) Enine  
D) Boyuna E) Ria

13)



cogrfyahocasi.com

cogrfyahocasi.com

cogrfyahocasi.com

cogrfyahocasi.com

Yukarıda verilen topoğrafya haritasında numaralandırılmış limanlar içerisinde hangisinin daha işlek bir liman olduğu söylenebilir?

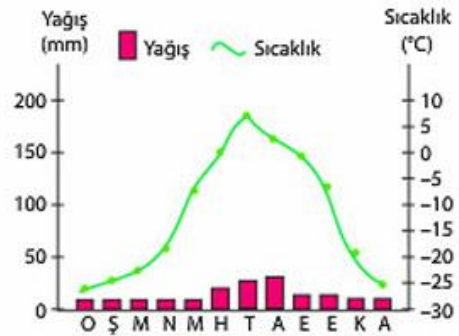
- A) I B) II C) III D) IV E) V

- 14) I. Enine kıyı tipi  
II. Boyuna kıyı tipi  
III. Dalmaçya kıyı tipi  
IV. Fiyortlu kıyı tipi  
V. Mercanlı kıyı tipi

Yukarıda verilen kıyı tiplerinden hangi ikisi aynı iklim bölgesinde görülmez?

- A) I ve II B) I ve III C) II ve III  
D) III ve IV E) IV ve V

15)



Yukarıda verilen iklim grafiğinin görüldüğü bir alanda aşağıdaki kıyı tiplerinden hangisi görülebilir?

- A) Fiyort  
B) Haliç  
C) Enine  
D) Mercanlı  
E) Boyuna