

X bölgesinde doğal nüfus artış hızı az, dışardan göç almaktadır. Y bölgesinde ise doğal nüfus artış hızı fazla, dışarıya göç vermektedir.

Buna göre,

- I. X bölgesinde iş imkânları kısıtlıdır.
- II. Y bölgesinde nüfus artmaktadır.
- III. X bölgesi ekonomik yönden daha gelişmiştir.
- IV. Y bölgesinde tarım sektöründe çalışan nüfus fazladır.

1) İfadelerinden hangilerine ulaşamaz?

- A) I ve II B) I ve III C) II ve III
D) III ve IV E) I, III ve IV

Aşağıdaki tabloda bazı merkezlerde gerçekleşen doğum-ölüm oranı ve gerçek nüfus artış hızı oransal olarak verilmiştir.

Merk ez	Doğ u m Oranı (%)	Ölüm Oranı (%)	Gerçek Nüfus Artış Oranı (%)
I	24	16	8
II	34	19	12
III	9	7	5
IV	22	17	16
V	12	16	-3

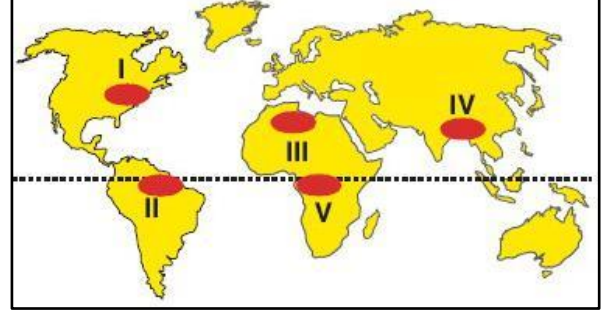
2) Buna göre, hangi merkezde göç hareketi sonucu gerçekleşen hızlı nüfus artışının çevre kirliliğine daha çok neden olması beklenir?

- A) I B) II C) III D) IV E) V

1989'da Bulgaristan'dan Türkiye'ye yaşanan göç hareketi yüzbinlerin sınır dışı edilmesi, insanlık tarihinin gördüğü en büyük dramlardan, ayrılıklardan biridir. Fakat bu, bölgeden Türkiye'ye yaşanan ilk sürgün değildir. Çünkü Balkanlardan Türkiye'ye yönelik sürgünlerin ve acıların tarihi 17. yüzyıla kadar gitmektedir.

3) Yukarıda sözü edilen göç olayı, aşağıdaki göç türlerinden hangisine örnek olarak gösterilebilir?

- A) Zorunlu göç B) Beyin göç
C) Gönüllü göç D) İşgücü göç
E) Mübadele göç



4) Yukarıdaki haritada numaralandırılmış taralı yerlerden hangisinin beyin göçü alan yerlerden biri olduğu söylenebilir?

- A) I B) II C) III D) IV E) V

5) Aşağıdaki göç olaylarından hangisi sosyal nedeni göçe örnek gösterilebilir?

- A) Heyelan bölgesinde olduğundan köyümüzün yeri değiştirildi. Köyde arazileri işleyemez duruma geldik. Ailece kasabaya göç ettik.
B) Babam 1960 yılında çalışmak için Almanya'ya gitti. Beş yıl sonra annem ve kardeşlerimle birlikte babamın yanında gittik.
C) Babamın hastalığı nedeniyle sürekli bakıma ihtiyacı vardı. Biz de sağlık kuruluşu olan yakın bir kente göç ettik.
D) Suriye'de çıkan savaş nedeniyle birçok Suriye vatandaşı ülkemize sığındı.
E) Tarımda makine kullanımını arttıkça işsiz kaldım. Şimdi kentte bir fabrikada çalışmaktayım.

Yıl içerisinde, belirli dönemlerde yapılan göç hareketine mevsimlik göç denir.

6) Aşağıdaki ekonomik faaliyetlerden hangisi mevsimlik göçlerin nedenlerinden biri değildir?

- A) Yayılcılık B) İnşaat C) Turizm
D) Tarım E) Madencilik

7) Aşağıda verilen ülkelerden hangisi beyin göçlerinden daha fazla olumsuz yönde etkilenmektedir?

- A) Almanya B) Türkiye C) ABD
D) İngiltere E) Japonya



Mardin'den Nobel'e. Eğitimini Türkiye'de tamamlayan Aziz Sançar ABD'de DNA üzerine yaptığı bilimsel çalışmasıyla Nobel ödülü aldı. Nobel alan ilk Türk bilim adamı oldu.

8) Bu göç aşağıdakilerden hangisine örnek oluşturur?

- A) Mübadele göçü B) Beyin göçü
C) İşçi göçü D) Doğal göç
E) Kültür göçü

Basından - 2012: Suriye'de yaşanan iç karışıklıklar sonucunda son bir yıl içinde Türkiye'ye göç etmek zorunda kalan 20.000'e yakın Suriyeli, Hatay'da kurulan çadır kentlerde kalmaktadır. Ülkelerine geri dönebilmek için iç karışıklıkların son bulmasını bekleyen vatandaşların ihtiyaçları Türk yetkililer tarafından karşılanmaktadır.

9) Yukarıdaki paragrafta anlatılan göç hareketi aşağıdaki göç türlerinden hangisine örnektir?

- A) Beyin göçü
B) İşçi göçü
C) Mübadele göçü
D) Siyasi göç
E) Ekonomik nedenli göç

10) Dünyada geçmişte ve günümüzde göçlerin ortaya çıkmasına neden olan en önemli faktör aşağıdakilerden hangisinde doğru olarak verilmiştir?

- A) Eğitim B) Erozyon
C) Mübadele D) Sağlık sorunları
E) Ekonomik problemler

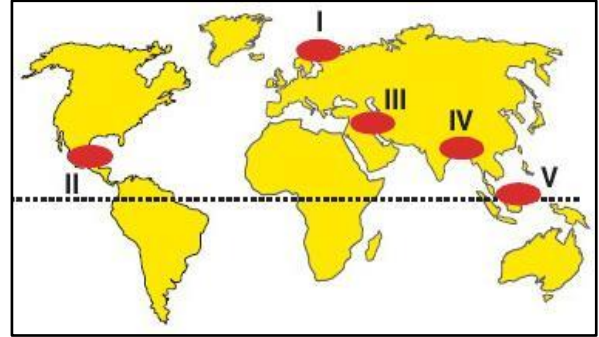
Türkiye beyin göçü en fazla olan 34 ülke içinde 24. sırada yer almakta olup, maalesef iyi eğitim gören yüz kişiden 59'unu kaybetmektedir. Beyin göçü Dünya'da da önemli bir sorundur.

11) Aşağıdaki ülkelerden hangisi beyin göçü veren ülkeler arasında gösterilemez?

- A) Pakistan B) Çin
C) Nijerya D) Filipinler
E) Güney Afrika Cumhuriyeti

12) Aşağıdaki öğrencilerden hangisinin göç etme nedeni diğerlerinden farklıdır?

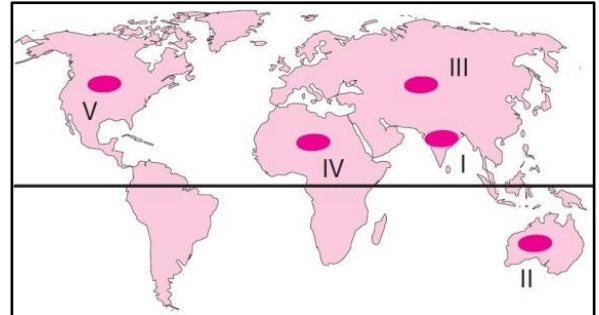
- A) **Ömer:** Kaplıcalar rahatsızlığıma iyi geldiğinden Yalova'ya taşındık.
B) **Tevfik:** Eğitimim için Konya'ya taşındık.
C) **Berat:** 17 Ağustos depreminden sonra Erzurum'a taşındık.
D) **Meltem:** Tarihi ve kültürel zenginliğinden dolayı İstanbul'a taşındık.
E) **Mehtap:** Yüksek lisans yapmak için Ankara'ya taşındık



13) Yukarıdaki haritada numaralandırılmış yerlerden hangisinde tektonik depremlere bağlı göçlerin yaşanması beklenmez?

- A) I B) II C) III D) IV E) V

Göçe neden olan doğal afetlerden birisi de heyelan ve toprak kaymalarıdır. Yer şekilleri, eğim ve yağış fazlalığına bağlı olarak meydana gelen heyelan ve toprak kaymaları yerleşim birimlerine zarar vererek insanları göçe zorlar.



14) Buna göre, iklim ve yer şekli özellikleri düşünüldüğünde haritada gösterilen alanlardan hangisinde heyelanlara bağlı olarak daha fazla göç yaşanacağı söylenebilir?

- A) I B) II C) III D) IV E) V

