

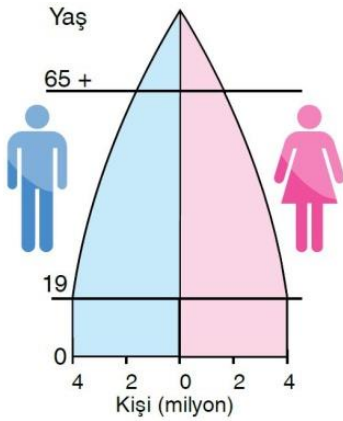
Coğrafya öğretmeni sınıfta öğrencilerine bir ülkeye ait olan yukarıdaki nüfus piramidini dağıtmış ve ülke hakkında beş cümleden oluşan bilgi vermelerini istemiştir.

Öğrencilerden Mehmet;

“ (I) Ülkede yüksek doğum oranı görülür. (II) Genç nüfusun toplam nüfus içindeki oranı fazladır. (III) Eğitim ve sağlık hizmetleri yeterince gelişmemiştir. (IV) Ortalama yaşam süresi uzundur. (V) İran, Nijerya gibi ülkelerde görülür.” demiştir.

1) Buna göre, Mehmet'in verdiği bilgilerden hangisi yanlıştır?

- A) I B) II C) III D) IV E) V



2) Yukarıda nüfus piramidi verilen bir ülke için aşağıdakilerden hangisi söylenemez?

- A) Tarımsal faaliyetlerde modern yöntemler kullanılır.
B) Nüfusun dağılımında doğal faktörlerin etkisi fazladır.
C) Kişi başına düşen milli gelir yüksektir.
D) Genç bağımlı nüfus oranı azdır.
E) Emeklilik yaşı yüksektir.

I. Yaş grupları

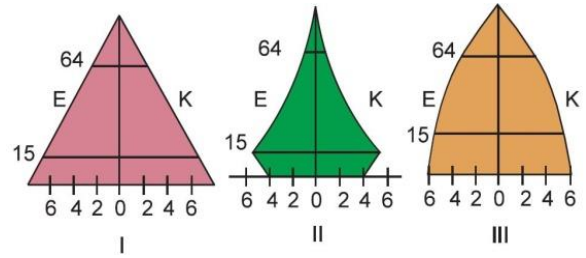
II. Şehir ve kırsal nüfusu miktarı

III. Nüfusun cinsiyet yapısı

IV. Ülkenin gelişmişlik seviyesi

3) Bir ülkeye ait nüfus piramidine bakılarak yukarıda verilen bilgilerden hangilerine ulaşılamaz?

- A) Yalnız I B) Yalnız II C) I ve II
D) I ve III E) III ve IV



Yukarıda üç ülkeye ait yaş piramitleri verilmiştir.

4) Bu ülkelerin gelişme düzeyleri dikkate alındığında; olgun nüfus oranının fazla olandan az olana doğru sıralanışı aşağıdakilerden hangisidir?

- A) I, II ve III B) I, III ve II C) II, III ve I
D) III, I ve II E) III, II ve I

I. Uzun bir süre düşük seyreden nüfus artış hızının sonradan yükseldiği ülke

II. Nüfus artış hızının düşük olduğu ülke

III. Nüfus artış hızının daima yüksek olduğu ülke

5) Yukarıda nüfus artışı ile ilgili bilgiler verilen ülkelere örnek olarak aşağıdakilerden hangisi gösterilebilir?

- | | | |
|--------------|-----------|-----------|
| I | II | III |
| A) Türkiye | Japonya | ABD |
| B) İngiltere | Hindistan | Türkiye |
| C) ABD | Japonya | Hindistan |
| D) Hindistan | Çin | Japonya |
| E) Japonya | Türkiye | Çin |

6) Aşağıdaki ülkelerden hangisinin nüfus piramidi düzgün bir üçgene benzer?

- A) Hindistan B) Rusya C) Kanada
D) İsveç E) Japonya



Ülke	Yaşlı nüfus oranı (%)
I	19
II	18
III	17
IV	15
V	13

Yukarıdaki tabloda beş ülkenin toplam nüfusları içerisinde yaşlı nüfuslarının oranları verilmiştir.

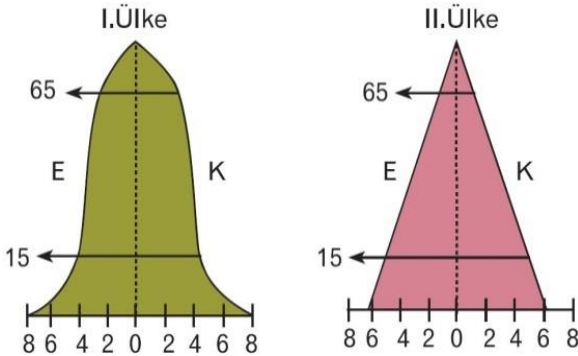
7) Bu ülkelerin hangilerinin gelişmişlik düzeyinin en ileri ve en geri olduğu söylenebilir?

- A) I ve V B) II ve IV C) III ve IV
D) V ve II E) IV ve I

Çocuk nüfusun fazla olduğu ülkelerde genç bağımlılığı, yaşlı nüfusun fazla olduğu ülkelerde ise yaşlı bağımlılığı fazladır.

8) Buna göre aşağıda verilen ülkelerden hangisinde hem genç hem de yaşlı bağımlılığı fazladır?

- A) Nijerya B) Hindistan C) Türkiye
D) Almanya E) ABD

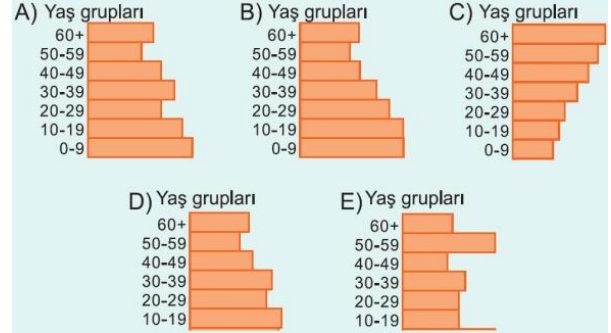


Yukarıdaki grafikler, iki ülkede nüfusun yaş gruplarına göre dağılımını göstermektedir.

9) Grafikteki bilgilere göre, aşağıdakilerden hangisine ulaşamaz?

- A) I. ülkede kişi başına düşen milli gelir daha fazladır.
B) II. ülkede bağımlı nüfus oranı daha fazladır.
C) Ülkelerin nüfus miktarları birbirine eşittir.
D) I. ülkede yaşlı nüfus oranı daha fazladır.
E) II. ülkede işsizlik oranı daha fazladır.

10) Aşağıda nüfus piramitleri verilen ülkelerin hangisinde ortalama insan ömrünün daha uzun olduğu söylenebilir?



11) Doğum oranlarının yüksek olduğu bir ülkede aşağıdakilerden hangisinin görülmesi beklenmez?

- A) Genç nüfus oranının artması
B) Bağımlı nüfusun azalması
C) Kalkınma hızının düşmesi
D) Kişi başına düşen gelirin azalması
E) Demografik yatırımların artması

Gelişmişlik seviyesi düşük olan ülkelerde aktif nüfusun bakmakla yükümlü olduğu bağımlı nüfus oranı yüksek olur.

12) Buna göre, aşağıdaki ülkelerin hangisinde aktif nüfusun bakmakla yükümlü olduğu bağımlı nüfus oranı daha düşüktür?

- A) Rusya
B) Bangladeş
C) Kenya
D) İran
E) Endonezya

Bir ülke nüfusunun yaş gruplarına göre dağılımı gösterilen grafiklere nüfus piramidi denir.

13) Aşağıdakilerden hangisi nüfus piramidinin tabanı geniş olan bir ülkeye ait özellik değildir?

- A) Doğum oranı fazladır.
B) Ölüm oranları azdır.
C) Nüfus artış hızı yüksektir.
D) Genç nüfus oranı fazladır.
E) Gelişmişlik düzeyi düşüktür.

