

1) Nüfus yaş piramitlerinden yararlanarak aşağıdakilerden hangisi bulunamaz?

- A) Doğurganlık oranı
- B) Yaş grupları
- C) Cinsiyet yapısı
- D) Yaşlı nüfus sayısı
- E) Ülkedeki iç göçler

2) Çocuk ve genç nüfusu fazla olan ülkeler için aşağıdakilerden hangisi kesin olarak söylenemez?

- A) Doğum oranı yüksektir.
- B) Yaşlı nüfus azdır.
- C) Nüfus piramidinin tabanı geniştir.
- D) Bağımlı nüfus fazladır.
- E) Nüfus yoğunluğu fazladır.

3) Bir ülkede;

- I. Evlenme yaşı
- II. Eğitim seviyesi
- III. Ekonomik durum

özelliklerinin tamamı aşağıdakilerden hangisini etkiler?

- A) Doğum oranını
- B) Nüfus yoğunluğunu
- C) Çalışan nüfus sayısını
- D) Tarımda çalışan sayısını
- E) Nitelikli işçi sayısını

- I. Nüfus artış hızının yüksek olduğu gelişmemiş ülke
- II. Nüfus artış hızının düşük olduğu gelişmiş ülke
- III. Nüfus artış hızının azaldığı gelişmekte olan ülke

4) Yukarıda nüfus özellikleri açıklanan ülkelere aşağıdakilerden hangileri örnek olarak gösterilebilir?

- | I | II | III |
|--------------|-----------|-----------|
| A) Türkiye | Almanya | İngiltere |
| B) Bangladeş | Almanya | Brezilya |
| C) Arjantin | Brezilya | ABD |
| D) Bangladeş | Hindistan | Çin |
| E) Çin | Japonya | Bangladeş |

2010 yılı verilerine göre Fransa'da 65 yaşından büyük insanların oranı % 17,3 iken, bu oran Endonezya'da % 3,1'dir.

5) Yukarıda verilen bilgi Fransa ile Endonezya arasında aşağıda verilenlerden hangisinin farklı olduğunu kesin kanıtlar?

- A) Net göç hızının
- B) Nüfus içinde kadın oranının
- C) Gelişmişlik düzeylerinin
- D) Aktif nüfusun toplam nüfusa oranlarının
- E) Bebek ölüm oranlarının

6) Aşağıdaki verilen kıtalardan hangisinde toplam nüfus içinde çocuk nüfus oranı diğerlerinden daha fazladır?

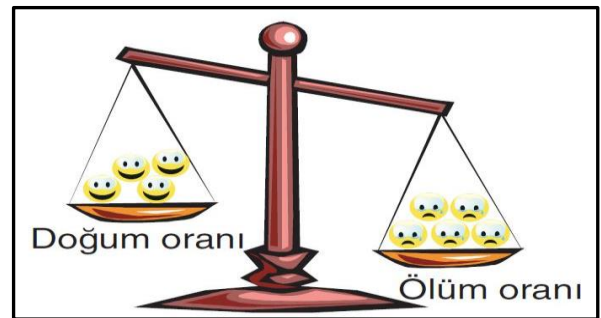
- A) K. Amerika
- B) Afrika
- C) Avrupa
- D) Asya
- E) Avustralya

7) Bir ülkenin;

- I. Toplam nüfusu
- II. Kadın nüfus sayısı
- III. Kır – kent nüfusu
- IV. Nüfus yoğunluğu

gibi özelliklerinden hangileri nüfus piramitlerinden yararlanarak bulunmaz?

- A) Yalnız I
- B) Yalnız II
- C) Yalnız III
- D) I ve II
- E) III ve IV

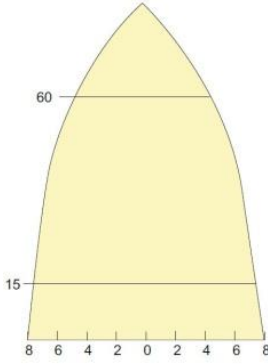


Bir ülkede ölümler, doğumlardan çok ise ülke nüfusu azalır.

8) Yukarıdaki şekildeki nüfus özelliğine sahip ülke aşağıdakilerden hangisi olabilir?

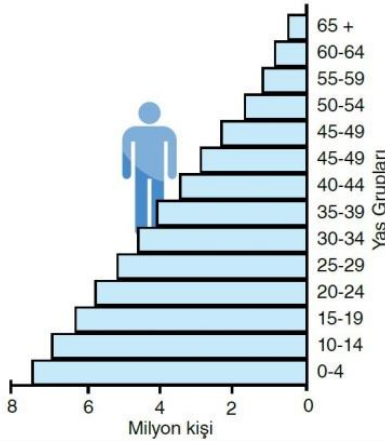
- A) Rusya
- B) Hindistan
- C) Mısır
- D) Kenya
- E) ABD





9) Yukarıdaki nüfus piramidine sahip bir ülke için aşağıdakilerden hangisi söylenemez?

- A) Ortalama yaşam uzundur.
- B) Sağlık hizmetleri gelişmiştir.
- C) Doğum oranı düşüktür.
- D) Yurt dışına göç verir.
- E) Okuryazarlık oranı yüksektir.



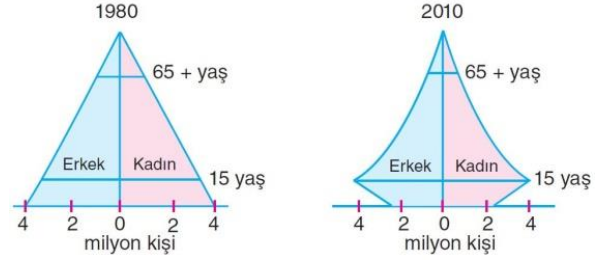
10) Nüfus yaş piramidi yukarıdaki gibi olan bir ülke için aşağıdakilerden hangisi kesin olarak söylenemez?

- A) Bağımlı nüfus oranı fazladır.
- B) Demografik yatırımlar fazladır.
- C) Kişi başına düşen milli gelir azdır.
- D) Dış ticaret açığı fazladır.
- E) Aritmetik ve fizyolojik nüfus yoğunlukları fazladır.

Çalışma çağına gelen insanların oluşturduğu nüfusa aktif nüfus denir.

11) Aktif nüfus kavramı aşağıda verilen yaş gruplarından hangisini kapsar?

- A) 0-12
- B) 12-44
- C) 24-56
- D) 14-65
- E) 7-67



Yukarıda bir ülkenin 1980 ve 2010 yıllarına ait nüfus piramitleri verilmiştir.

12) Ülkenin nüfus piramitlerindeki değişime bakarak aşağıdaki yargılardan hangisine ulaşamaz?

- A) Hayat standartları yükselmiştir.
- B) Sağlık koşulları gelişmiştir.
- C) Doğal nüfus artış hızı azalmıştır.
- D) Bebek ölümleri artmıştır.
- E) Genç nüfus oranı azalmıştır.

Ülkelerin gelişmişlik düzeyleri arttıkça, ortalama insan ömrü de uzamaktadır.

- I. Japonya
- II. Kanada
- III. Mısır
- IV. Güney Afrika Cumhuriyeti
- V. İsviçre

13) Yukarıda verilen beş ülkeden hangilerinde ortalama insan ömrü daha uzundur?

- A) I, II ve V
- B) II, III ve IV
- C) I, II ve IV
- D) III, IV ve V
- E) I, II ve III

Doğum oranlarının, ölüm oranlarından çok fazla olduğu ülkelerde nüfus artış oranı çok yüksektir.

Buna göre;

- I. Somali
- II. İspanya
- III. Etiyopya
- IV. Nijerya
- V. Çad

14) Yukarıdaki ülkelerden hangisi böyle bir genellemeye örnek olmaz?

- A) I
- B) II
- C) III
- D) IV
- E) V

