

3.ÜNİTE > Küresel Ortam: Bölgeler ve Ülkeler

9.3.3. Harita kullanarak çeşitli coğrafi kriterlerle belirlenmiş bölgelerde bulunan ülkeleri sınıflandırır.

Genel Beceriler: Bilgi Okuryazarlığı

Alan Becerileri: Harita Becerisi

Etkinlik İsmi	ÜLKELER VE BÖLGELER	🕒 25 dk
Amacı	Harita kullanarak farklı bölge sınırlarına göre ülke sınıflandırabilme.	👤 Bireysel

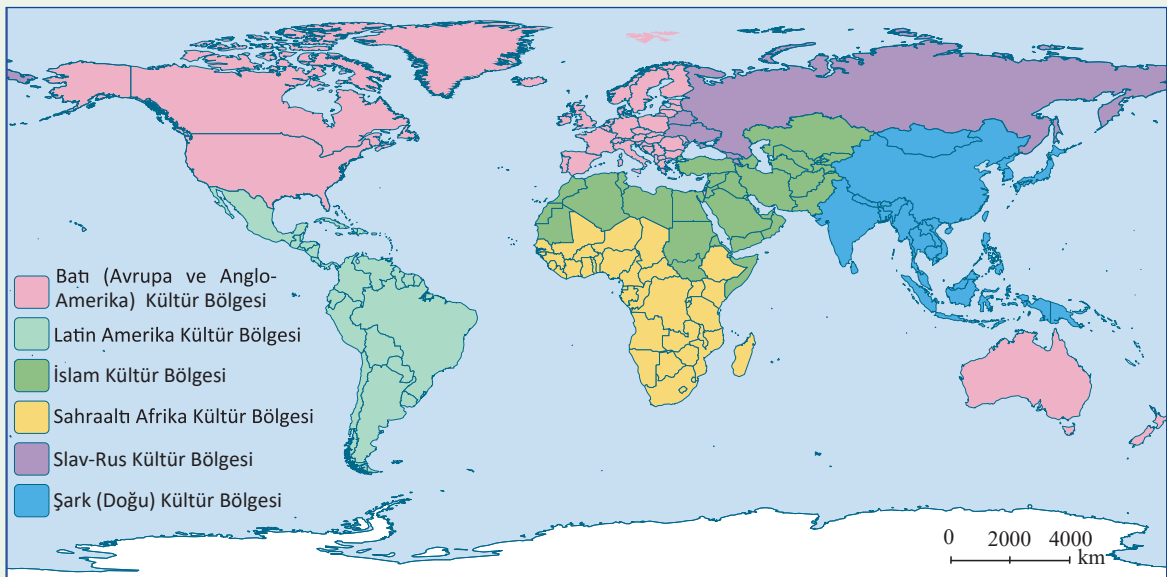
Yönerge

Aşağıdaki soruları haritalardan ve metinden yararlanarak cevaplayınız.

Bazı coğrafi kriterlerle belirlenen bölgeler, ülke sınırlarına göre oluşmuştur. Buna göre ülkelerin beşerî ve ekonomik özelliklerini içeren istatistikleri ile oluşan bölgele ile uluslararası siyasi, askerî ve ekonomik iş birliği amaçlı oluşturulan kuruluşların bölge sınırları ülke sınırlarına uyumludur. Doğal bölgelerin sınırları genellikle ülke sınırları ile örtüşmez. Ayrıca farklı kıtalarda olan ülkeler aynı bölge içinde yer alabilir. Bölge sınırları ve bir ülkenin bulunduğu bölge yaşanan gelişmeler sonucunda değişebilir.

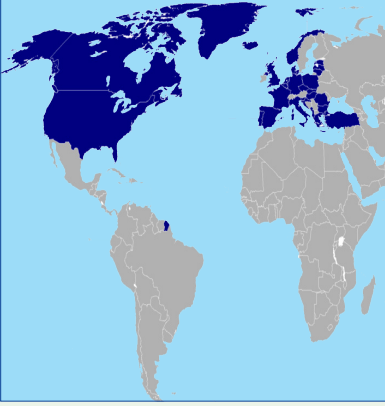


Harita 1: Dünya Siyasi

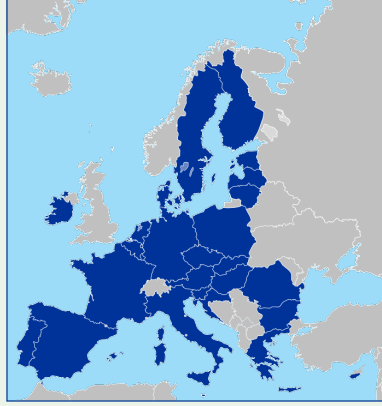


Harita 2: Dünya Kültür Bölgeleri

Harita 3: Kuzey Atlantik Antlaşması Örgütü'ne (Nato) üye ülkeler



Harita 4: Avrupa Birliği'ne (AB) üye ülkeler



Harita 5: Güney Asya Ülkeleri Birliği'ne (ASEAN) üye ülkeler



1. Aşağıdaki tabloda kültür bölgeleri verilmiştir. Kültür bölgeleri içinde yer alan ülkelere üçer örnek veriniz.

Kültür bölgeleri	Örnek ülkeler
İslam Kültür Bölgesi	
Batı Kültür Bölgesi	
Latin Amerika Kültür Bölgesi	
Sahraaltı Afrika Kültür Bölgesi	
Şark (Doğu) Kültür Bölgesi	
Slav-Rus Kültür Bölgesi	

2. Aşağıda verilen uluslararası kuruluşlardan hangisine üye ülkeler aynı kültür bölgesi içinde yer alır? İşaret (✓) koyarak gösteriniz.

Kuzey Atlantik Antlaşması Örgütü (NATO)

Avrupa Birliği (AB)

Güney Asya Ülkeleri Birliği (ASEAN)

3. Güney Asya Ülkeleri Birliği'ne (ASEAN) üye ülkeleri yazınız.

4. Yukarıda verilen haritalardaki bölge sınırları değişebilir mi? Neden?

